

แบบทดสอบอิงมาตรฐาน เน้นการคิด

การจัดการศึกษาขั้นพื้นฐาน มีจุดมุ่งหมายเพื่อให้ผู้เรียนอ่านออก เขียนได้ คิดคำนวณเป็น มุ่งให้เกิดทักษะการเรียนรู้ตลอดชีวิต เตรียมตัวเป็นพลเมืองที่มีคุณภาพ และมีความสามารถในการแข่งขันได้ในอนาคต การจัดการเรียนรู้ที่สอดคล้องกับจุดมุ่งหมายดังกล่าว จึงควรให้ผู้เรียนฝึกฝนการนำความรู้ไปประยุกต์ใช้ในชีวิตจริง สามารถคิดวิเคราะห์และแก้ปัญหาได้ ดังนั้นเพื่อเป็นการเตรียมความพร้อมของผู้เรียน ทางโครงการวัดและประเมินผล บริษัท อักษรเจริญทัศน์ อจท. จำกัด จึงได้จัดทำแบบทดสอบอิงมาตรฐาน เน้นการคิด โดยดำเนินการวิเคราะห์สาระการเรียนรู้ที่สำคัญตามที่ระบุไว้ในมาตรฐานและตัวชี้วัดชั้นปี แล้วนำมากำหนดเป็นระดับพฤติกรรมการคิด เพื่อสร้างแบบทดสอบที่มีคุณสมบัติ ดังนี้

1 วัดผลการเรียนรู้



ที่สอดคล้องกับมาตรฐาน
ตัวชี้วัดชั้นปีทุกข้อ

2 เน้นให้ผู้เรียนเกิดการคิด



ตามระดับพฤติกรรมการคิด
ที่ระบุไว้ในตัวชี้วัด

ผู้สอนสามารถนำแบบทดสอบนี้ไปใช้เป็นเครื่องมือวัดและประเมินผล รวมทั้งเป็นเครื่องชี้ความสำเร็จและรายงานคุณภาพของผู้เรียนแต่ละคน เพื่อเป็นการเตรียมความพร้อมของนักเรียนให้มีความสามารถในด้านการใช้ภาษา ด้านการคิดคำนวณ และด้านเหตุผล สำหรับรองรับการประเมินผลผู้เรียนในระดับประเทศ (O-NET) และระดับนานาชาติ (PISA) ต่อไป

แบบทดสอบอิงมาตรฐาน เน้นการคิด ที่จัดทำโดยโครงการวัดและประเมินผล บริษัท อักษรเจริญทัศน์ อจท. จำกัด ประกอบด้วยแบบทดสอบประจำภาคเรียนที่ 1 และแบบทดสอบประจำภาคเรียนที่ 2 ซึ่งแต่ละภาคเรียนจะมีแบบทดสอบ 2 ชุด แต่ละชุดมีทั้งแบบทดสอบปรนัย และแบบทดสอบอัตนัย โดยวิเคราะห์มาตรฐานตัวชี้วัด และระดับพฤติกรรมการคิดที่สัมพันธ์กับแบบทดสอบไว้อย่างชัดเจน เพื่อให้ผู้สอนนำไปใช้เป็นเครื่องมือวัดและประเมินผลผู้เรียนได้อย่างมีประสิทธิภาพ

ตารางวิเคราะห์แบบทดสอบ

ภาคเรียนที่ 1

ชุดที่	ตารางวิเคราะห์มาตรฐานตัวชี้วัด			ตารางวิเคราะห์ระดับพฤติกรรมการคิด		
	มาตรฐาน	ตัวชี้วัด	ชื่อของแบบทดสอบที่สัมพันธ์กับตัวชี้วัด	ระดับพฤติกรรมการคิด	ชื่อของแบบทดสอบที่สัมพันธ์กับระดับพฤติกรรมการคิด	รวม
1	ส 1.1	1	1	A ความรู้ความจำ	-	-
		2	36, 37	B ความเข้าใจ	26, 36-37	3
		3	2	C การนำไปใช้	2-5, 7-8, 14-15, 21, 23-24, 32, 35, 38-40	16
		4	3, 4, 5, 6, 7, 8, 9	D การวิเคราะห์	1, 6, 10, 12-13, 16-19, 22, 25, 27-30, 34	16
		5	10	E การสังเคราะห์	33	1
		6	11, 12	F การประเมินค่า	9, 11, 20, 31	4
		7	13			
		8	14, 15, 16			
		9	17, 18, 38, 39			
	ส 1.2	1	19			
		2	20			
		3	40			
		4	21			

หมายเหตุ : มีเฉลยและคำอธิบายเชิงวิเคราะห์ อยู่ท้ายแบบทดสอบภาคเรียนที่ 1 และภาคเรียนที่ 2

ตารางวิเคราะห์แบบทดสอบ

ภาคเรียนที่ 1

ชุดที่	ตารางวิเคราะห์มาตรฐานตัวชี้วัด			ตารางวิเคราะห์ระดับพฤติกรรมความคิด		
	มาตรฐาน	ตัวชี้วัด	ชื่อของแบบทดสอบที่สัมพันธ์กับตัวชี้วัด	ระดับพฤติกรรมความคิด	ชื่อของแบบทดสอบที่สัมพันธ์กับระดับพฤติกรรมความคิด	รวม
1 (ต่อ)	ส 2.1	1	22, 23, 24, 25			
		2	26			
		3	27, 28			
		4	29, 30			
		5	31			
	ส 2.2	1	32			
2		33				
3		34, 35				
2	ส 1.1	1	31	A ความรู้ความจำ	-	-
		2	32, 33	B ความเข้าใจ	15, 31-32, 37	4
		3	1	C การนำไปใช้	1-3, 5-7, 16, 22, 30, 33-36, 38-40	16
		4	2, 3, 4, 5, 6, 7, 8,	D การวิเคราะห์	4, 9-11, 13-14, 19-21, 23-29	16
		5	9, 10	E การสังเคราะห์	12	1
		6	11	F การประเมินค่า	8, 17-18	3
		7	12			
		8	13, 34			
		9	35, 36			
	ส 1.2	1	14			
		2	15			
		3	16, 17			
		4	37			
	ส 2.1	1	18, 38, 39, 40			
		2	19, 20			
		3	21, 22			
		4	23, 24			
		5	25			
	ส 2.2	1	26, 27			
		2	28			
		3	29, 30			

แบบทดสอบ

โครงการบูรณาการ

ชั้นประถมศึกษาปีที่ 6

ชุดที่ 1

ชื่อ นามสกุล

เลขประจำตัวสอบ โรงเรียน

สอบวันที่ เดือน พ.ศ.

โครงการวัดและประเมินผล บริษัท อักษรเจริญทัศน์ อจท. จำกัด

ตอนที่ 1 ส่วนที่ 1 : แบบทดสอบฉบับนี้มีทั้งหมด 35 ข้อ 35 คะแนน
ให้นักเรียนเลือกคำตอบที่ถูกต้องที่สุดเพียงข้อเดียว

คะแนนที่ได้

คะแนนเต็ม

35

1. “พระพุทธศาสนาเป็นหลักสำคัญในการดำเนินชีวิตของคนไทย” นักเรียนเห็นด้วยกับข้อความนี้หรือไม่ เพราะอะไร

1. เห็นด้วย เพราะคนไทยส่วนใหญ่ปฏิบัติตามหลักธรรมทางพระพุทธศาสนา
2. เห็นด้วย เพราะคนไทยส่วนใหญ่ดำเนินกิจกรรมสำคัญทั้งหมดที่วัด
3. ไม่เห็นด้วย เพราะคนไทยส่วนใหญ่ได้รับอิทธิพลจากชาติตะวันตก
4. ไม่เห็นด้วย เพราะคนไทยส่วนใหญ่เชื่อเรื่องเหนือธรรมชาติ

2. “สุนัขจิ้งจอกต้องการจะชิงราชสมบัติของพระเจ้าพรหมทัต” จากข้อความนี้ ใครมีนิสัยคล้ายกับสุนัขจิ้งจอก

1. นิวบั้นน้ำเป็นตัว
2. นุชมักใหญ่ใฝ่สูง
3. นิดเหยียบขี่ไก่ไม่ฝ่อ
4. นอตแกว่งเท้าหาเสี้ยน

3. “เมื่อคร่อมอบหมายการบ้านให้ ปิ่นดาวก็ตั้งใจทำการบ้านจนเสร็จ” จากข้อความนี้ สอดคล้องกับศรัทธา 4 ข้อใด

1. เชื่อว่ากรรมมีอยู่จริง
2. เชื่อว่าผลกรรมมีจริง
3. เชื่อว่าสัตว์มีกรรมเป็นของตน
4. เชื่อพระปัญญาและการตรัสรู้ของพระพุทธเจ้า

4. บุ่มมีเพื่อนชื่อแก้ว แก้วเรียนเก่งมาก แต่บุ่มเรียนไม่เก่ง เมื่อประกาศผลสอบ แก้วสอบได้ที่ 1 บุ่มรู้สึกอิจฉาจึงพูดกับเพื่อนอีกคนว่า แก้วสอบได้ที่ 1 เพราะลอกข้อสอบเพื่อน

จากข้อความนี้ บุ่มกระทำความผิดคล้อยกับข้อใด

1. วาจกรรม และกายกรรม
2. มโนกรรม และวจีกรรม
3. กายกรรม และมโนกรรม
4. กายกรรม วาจกรรม และมโนกรรม

5. สุนิสาเป็นคนขยันและมีความอดทน ทุกเช้าสุนิสาจะออกไปขายข้าวไข่เจียวที่หน้าโรงเรียน ตั้งแต่เช้าตรู่ ถึงในแต่ละวันรายได้จะไม่มากนัก แต่สุนิสาก็ภูมิใจ

จากข้อความนี้ สอดคล้องกับเบญจธรรมข้อใด

1. เมตตากรุณา
2. ประกอบอาชีพสุจริต
3. สำนวมนในกาม
4. มีสติสัมปชัญญะ

6. พุทธกิจข้อใดของพระพุทธเจ้าที่ช่วยให้ประชาชนทั่วไปจำนวนมากพ้นทุกข์ได้

1. การเสด็จออกบิณฑบาต
2. การแสดงธรรมแก่ประชาชน
3. การตอบปัญหาธรรมแก่เทวดา
4. การประทานโอวาทแก่พระสงฆ์

ความรู้ ความจำ	ความเข้าใจ	การนำไปใช้	การวิเคราะห์	การสังเคราะห์	การประเมินค่า
A	B	C	D	E	F

7. บุคคลใดปฏิบัติตนตรงกับพุทธศาสนสุภาษิตที่ว่า
ยถาวาที ตถากาโร (พูดเช่นไร ทำเช่นนั้น)

1. แป่วรับปากคุณครูว่าจะส่งงานในวันศุกร์ แต่ทำไม่เสร็จจึงต้องส่งวันจันทร์
2. อุ่มไม่ชอบพูดให้ใครฟังว่าทำอะไรแต่จะแสดงให้เห็นเป็นหลักฐาน
3. อู๊ดบอกรักแม่ทุกวันและดูแลแม่ที่เจ็บป่วยอย่างสุดความสามารถ
4. บีบบอกแม่ว่าทำการบ้าน แต่แอบไปเล่นกับเพื่อน

8. “ทุกเช้าตู่จะนำอาหารไปให้สุนัขจรจัดที่อยู่ในละแวกบ้านของเขา” จากข้อความนี้ สอดคล้องกับหลักธรรมข้อใด

1. ไม่พูดเท็จ
2. เมตตา
3. โมหะ (ความหลง)
4. คารวะในธรรม

9. บุ่ม ไม่เล่นการพนันทุกชนิด
อร ชื้อสัตย์ทั้งต่อตนเองและผู้อื่น
หวาย ไม่โกรธง่าย และให้อภัยผู้อื่นเสมอ
จำ ประกอบอาชีพที่สุจริต

จากข้อความนี้ ถ้านักเรียนจะปฏิบัติตามหลักธรรม
กุศลมูล 3 ควรดูตัวอย่างจากใครมากที่สุด เพราะอะไร

1. จำ เพราะไม่เบียดเบียนผู้อื่น
2. บุ่ม เพราะไม่ทำผิดกฎหมาย
3. อร เพราะไม่ทำให้ผู้อื่นเดือดร้อน
4. หวาย เพราะจิตใจดี ไม่คิดร้ายต่อผู้อื่น

10. การศึกษาประวัติของคนดี ส่งผลดีต่อตัวเราอย่างไร
มากที่สุด

1. ทำให้ได้ศึกษาตัวอย่างของการทำความดี ซึ่งนำมาเป็นแบบอย่างในการดำเนินชีวิตได้
2. ทำให้มีความรู้ความเข้าใจเพิ่มเติมเกี่ยวกับประวัติบุคคลที่มีความสำคัญ
3. ทำให้ผู้อื่นชื่นชมในตัวเรา เพราะเราศึกษาหาความรู้เฉพาะเรื่องที่ดี
4. ทำให้พ่อแม่และครูอาจารย์ภาคภูมิใจในตัวเรา

11. “จิตนั่งสมาธิขณะที่ครูให้ทำข้อสอบ” จากข้อความนี้
นักเรียนเห็นด้วยหรือไม่ เพราะอะไร

1. เห็นด้วย เพราะไม่รบกวนผู้อื่น
2. เห็นด้วย เพราะช่วยให้จิตใจสงบ
3. ไม่เห็นด้วย เพราะไม่ถูกเวลา
4. ไม่เห็นด้วย เพราะควรเดินจงกรม

12. การฝึกยืน เดิน นั่ง นอน อย่างมีสติเป็นประจำ
ส่งผลดีต่อชีวิตประจำวันของผู้ปฏิบัติอย่างไรมากที่สุด

1. เป็นคนดีของครอบครัว โรงเรียน และชุมชน
2. มีสุขภาพร่างกายแข็งแรง
3. ป้องกันการเกิดอุบัติเหตุ
4. ไม่มีโรคภัยไข้เจ็บ

13. การปฏิบัติในข้อใด ส่งผลให้เกิดอุบัติเหตุได้ง่ายที่สุด

1. ดื่มสุรา
2. สูบบุหรี่
3. ชื้อพวงมาลัยที่สี่แยก
4. พูดโทรศัพท์ขณะเดินบนทางเท้า

14. ใครปฏิบัติตนตรงตามหลักธรรม 10 ประการ
ของศาสนาพราหมณ์-ฮินดู ข้อ 1 ธฤติ
(เพียรพยายามจนประสบความสำเร็จ)

1. ดาวตั้งใจอ่านหนังสือจึงสอบได้คะแนนดี
2. เต็นถูกเพื่อนล้อด้วยถ้อยคำหยาบคายแต่ไม่โกรธ
3. ดวงขับรถด้วยความระมัดระวังและมีสติอยู่เสมอ
4. ตูเก็บกระเป๋าสตางค์ได้แล้วประกาศหาเจ้าของ

15. “หลังจากที่คบหาดูใจกันมาเป็นระยะเวลาหนึ่ง
ราชิตก็แต่งงานกับมารตี” จากข้อความนี้ ราชิต
ปฏิบัติสอดคล้องกับหลักอาศรม 4 ข้อใด

1. พรหมจารี
2. วานปรัสต์
3. สันนยาสี
4. คฤหัสถ์

16. “เป็เป็นคนมีความซื่อสัตย์ ถึงเขาจะยากจนแต่เขาก็
ไม่คิดจะลักขโมยสิ่งของของผู้อื่น” จากข้อความนี้
ไม่เกี่ยวข้องโดยตรงกับหลักธรรมในข้อใด

1. หลักธรรม 10 ประการ
2. หลักศรัทธา 6 ประการ
3. บัญญัติ 10 ประการ
4. เบญจศีล

17. ใครสามารถทำการอุปสมบทได้
- D
1. ตำนับถือศาสนาคริสต์และมีอายุ 22 ปีบริบูรณ์
 2. ต้มละหมาดเป็นประจำและมีอายุถึงเกณฑ์ทำบัตรประจำตัวประชาชน
 3. ดิ๊งเป็นพุทธมามกะและเกิดเมื่อปี พ.ศ. 2529 ซึ่งในปัจจุบันเป็นปี พ.ศ. 2557
 4. ตูนับถือพระรัตนตรัยและมีอายุถึงเกณฑ์เลือกตั้งสมาชิกสภาผู้แทนราษฎร

18. พิธีกรรมทางศาสนาในข้อใดแตกต่างจากข้ออื่น
- D
1. การแสดงตนเป็นพุทธมามกะ
 2. พิธีอมฤตสังสการ
 3. การละหมาด
 4. พิธีศีลจุ่ม

19. “ธี่ไปทำบุญในวัดใกล้บ้าน เมื่อทำบุญเสร็จแล้วธี่เข้าไปนั่งสมาธิในวิหาร” จากข้อมูลนี้ ข้อใดถูกต้อง
- D
1. ธี่ได้เข้าไปทำสังฆกรรม
 2. ธี่ได้เข้าไปในเขตพุทธาวาส
 3. ธี่ได้เข้าไปในเขตสังฆาวาส
 4. ธี่ได้เข้าไปในบริเวณที่อยู่อาศัยของพระสงฆ์

20. F

ในวันพระ ทุกคนไปทำบุญที่วัดกันอย่างคึกคัก ขณะที่พระสงฆ์กำลังแสดงธรรม กบเหลือบมองไปเห็นเพื่อนที่ไม่ได้เจอกันนานจึงกล่าวทักทาย ก้อยซึ่งเป็นนักธุรกิจก็จำเป็นต้องคุยโทรศัพท์ เพราะลูกค้าคนสำคัญโทรมา กานนั่งฟังพระสงฆ์แสดงธรรมนานก็รู้สึกปวดขา จึงขยับตัวและเหยียดขาออกข้างหนึ่งเพื่อคลายความปวดเมื่อย กิ่งนั่งพับเพียบอยู่ข้างๆ สมชาย

จากข้อความนี้ ใครปฏิบัติตนได้เหมาะสมขณะฟังธรรมมากที่สุด เพราะเหตุใด

1. กิ่ง เพราะตั้งใจฟังธรรมโดยไม่รบกวนผู้อื่น
2. กาน เพราะจำเป็นต้องขยับตัวเนื่องจากปวดเมื่อย
3. ก้อย เพราะต้องติดต่อธุรกิจ ไม่เช่นนั้นบริษัทจะเสียหาย
4. กบ เพราะถ้าไม่ได้คุยกับเพื่อนตอนนี้จะไม่ได้พบกันอีกเลย

21. ใครปฏิบัติตนตามหน้าที่ของพุทธมามกะได้อย่างเหมาะสมที่สุด
- C
1. ตุ่มไปเที่ยวเล่นที่วัดเป็นประจำ
 2. หนุ่ยทำบุญตักบาตรกับยายทุกเช้า
 3. ชัยแวะไปเยี่ยมหลวงลุงที่กุฏิอยู่เสมอ
 4. กีบชวนเพื่อนไปนั่งเรือชมทิวทัศน์ของวัดที่อยู่ริมแม่น้ำ

22. D

สมหมายประกอบอาชีพรับจ้างทั่วไป และมีเพื่อนชื่อปัญญา วันหนึ่งสมหมายไปขอซื้อยาบ้าจากปัญญา จำนวน 5 เม็ด

จากข้อความนี้ แสดงว่าปัญญากระทำความผิดเกี่ยวกับกฎหมายยาเสพติดในข้อใด

1. ฐานเสพยาเสพติดให้โทษ
2. ฐานโฆษณาเพื่อการค้าซึ่งยาเสพติดให้โทษ
3. ฐานผลิต นำเข้า ส่งออก ซึ่งยาเสพติดให้โทษ
4. ฐานจำหน่ายหรือมีไว้ในครอบครองเพื่อจำหน่ายซึ่งยาเสพติดให้โทษ

23. C

แดงได้ยื่นเจ้าหน้าที่เทศบาลมาประกาศว่าในวันอาทิตย์นี้ ทางเทศบาลจะนำเจ้าหน้าที่ออกฉีดพ่นยากำจัดยุงลายตัวแก่ตามบ้านเรือนของประชาชน

จากข้อความนี้ เป็นบทบาทหน้าที่ของเทศบาลด้านใด

1. การจัดเก็บภาษี
2. การควบคุมการโฆษณา
3. การกำจัดสิ่งปฏิกูลในชุมชน
4. การดูแลสุขภาพของคนในชุมชน

24. C
- ใครปฏิบัติตนไม่ถูกต้องตามกฎจราจร
1. ก๊อบเดินบนไหล่ทางขณะกำลังกลับบ้าน
 2. กานขี่รถจักรยานชิดขอบทางด้านซ้ายของทางเดินรถ
 3. แก้วข้ามถนนเมื่อสัญญาณจราจรควบคุมเป็นสีเขียวและกะพริบ
 4. กิ่งเห็นสัญญาณไฟจราจรเป็นสีเหลือง จึงชะลอความเร็วของรถเพื่อหยุดหลังเส้นให้หยุดรถ

25. ตลค้นคว้าข้อมูลเกี่ยวกับยาเสพติด แล้วจัดกลุ่มยาเสพติดออกเป็น 2 ประเภท ดังนี้

กลุ่ม 1	ฝิ่น มอร์ฟิน กระต่อม กัญชา
กลุ่ม 2	เฮโรอีน แอมเฟตามีน ยาอี ยาไอซ์

จากข้อมูลนี้ ตลใช้หลักเกณฑ์ใดในการจัดกลุ่ม

1. กลุ่ม 1 เป็นยาเสพติดที่มีลักษณะเป็นตำรับยา
2. กลุ่ม 2 เป็นยาเสพติดประเภทกระตุ้นประสาท
3. กลุ่ม 1 เป็นยาเสพติดที่มาจากธรรมชาติ
4. กลุ่ม 2 เป็นยาเสพติดที่มีโทษร้ายแรง

26. ข้อใดเป็นวัฒนธรรมประเภทเดียวกันทั้งหมด

1. วัดโพธิ์ การเวียนเทียนในวันมาฆบูชา ผ้าขาวม้า
2. การไหว้ ภาษาถิ่นอีสาน ความเชื่อเรื่องผีปอบ่า
3. บ้านเรือนไทย ประเพณีสงกรานต์ ที่ทอดผ้า
4. ชุดไทย การบูชาพญาแถน เรือนปั้นหย่า


27. “ดีเป็นเพื่อนกับดาตาเป็นเพื่อนกับจี” จากข้อความนี้ เมื่อดาแนะนำจีให้รู้จักกับดี ดีควรทำอะไรจึงจะเหมาะสม และสอดคล้องกับวัฒนธรรมไทยมากที่สุด

1. ยิ้มและจับมือ
2. ยิ้มและเข้าไปโอบกอด
3. ยิ้มและกล่าวคำว่า “สวัสดี”
4. ยิ้มและยกมือไหว้ โดยให้ปลายนิ้วชี้จรดจมูก

28. D



ภาพที่ 1



ภาพที่ 2

จากภาพที่ 1 และภาพที่ 2 นักเรียนจะปฏิบัติตนตามภาพใด เพราะอะไร

1. ภาพที่ 1 เพราะแต่งกายได้ถูกระเบียบ
2. ภาพที่ 2 เพราะอยู่ในบริเวณที่เหมาะสม
3. ภาพที่ 1 เพราะไหว้โดยก้มศีรษะเพียงเล็กน้อย
4. ภาพที่ 2 เพราะไหว้ถูกต้องตามหลักมารยาทไทย

29. D

ประเพณีก่อพระเจดีย์ทรายเป็นประเพณีที่มีที่มาเกี่ยวข้องกับพระพุทธศาสนาโดยตรง โดยคนไทยผูกโยงประเพณีนี้เข้ากับคติความเชื่อเรื่องเวรกรรมในพระพุทธศาสนา มีการก่อพระเจดีย์ทรายถวายวัดเพื่อนำเศษดินทรายที่ติดเท้าออกจากวัดไป มาคืนวัดในรูปพระเจดีย์ทราย นอกจากนี้ ยังเป็นกุศโลบายของผู้คนในอดีตให้มีการรวมตัวของคนที่อยู่ในชุมชนเพื่อร่วมกันจัดประเพณีนี้อีกด้วย

จากข้อความนี้ เกี่ยวข้องกับประโยชน์และคุณค่าของวัฒนธรรมด้านใดมากที่สุด

1. ทำให้สังคมมีความเป็นระเบียบเรียบร้อย
2. ทำให้เกิดความบันเทิงใจแก่สมาชิกในสังคม
3. ทำให้สมาชิกในสังคมมีหลักไว้ยึดเหนี่ยวจิตใจ
4. ทำให้เกิดความสามัคคีระหว่างสมาชิกในสังคม

30. D

ภาคกลางนิยมประกอบอาหารที่มีส่วนประกอบเป็นกะทิ เช่น แกงเขียวหวาน แกงเทโพ ภาคตะวันออกเฉียงเหนือนิยมประกอบอาหารที่มีส่วนประกอบเป็นปลาร้า เช่น แกงหน่อไม้แกงอ่อม

จากข้อความนี้ แสดงให้เห็นถึงความแตกต่างของข้อใด

1. ทรัพยากรธรรมชาติ
2. เทคโนโลยี
3. ประชากร
4. ที่อยู่อาศัย

31. F “เพื่อนข้างบ้านบอกตุ้มว่าพรุ่งนี้ไม่ต้องไปโรงเรียนเพราะน้ำท่วมโรงเรียนแล้ว” จากข้อความนี้ นักเรียนจะปฏิบัติตนอย่างไรจึงจะเหมาะสมและถูกต้องมากที่สุด

1. เชื่อเพื่อน และไม่ไปโรงเรียนในวันรุ่งขึ้น
2. ไปสอบถามข้อมูลเพิ่มเติมจากพ่อแม่และแม่
3. โทรศัพท์ไปที่โรงเรียนเพื่อสอบถามข้อมูล
4. ไปโรงเรียนทันทีหลังจากที่คุยกับเพื่อน

32. โครงการ 30 บาท รักษาทุกโรค เป็นบทบาทหน้าที่ของรัฐบาลด้านใด
1. รักษาเอกราชของประเทศ
 2. จัดสวัสดิการให้แก่ประชาชน
 3. ส่งเสริมให้ประชาชนมีความเอื้ออาทร
 4. ส่งเสริมให้ประชาชนรู้จักใช้สิทธิเสรีภาพ

33. *ปิ๊กเป็นนักเรียนชั้น ป.6 เขาเข้าร่วมกิจกรรมของชุมชนเป็นประจำ วันหนึ่งเขาบอกกับแม่ว่าอยากไปช่วยตำรวจจับกุมขบวนการค้ายาเสพติด*

- ถ้านักเรียนเป็นแม่ของปิ๊ก จะพูดกับปิ๊กว่าอย่างไรจึงจะเหมาะสมที่สุด
1. ไปเถอะลูก เพราะเป็นหน้าที่ของพลเมืองดี
 2. ไปเถอะลูก เพราะครอบครัวเราจะได้มีชื่อเสียง
 3. อย่าไปเลยลูก เพราะเสี่ยงและอันตราย
 4. อย่าไปเลยลูก เพราะลูกควรไปเรียน

34. บุคคลในข้อใดต่อไปนี้มีสิทธิไปใช้สิทธิเลือกตั้ง
1. ก๊ิบ อายุ 19 ปี และเพิ่งแจ้งย้ายเข้าในท้องที่ที่มีการเลือกตั้งได้ 30 วัน
 2. โทนี่ เป็นชาวอังกฤษที่แปลงสัญชาติเป็นสัญชาติไทยมาแล้ว 7 ปี
 3. วาน อายุ 45 ปี มีอาการทางประสาทเล็กน้อย
 4. หนุ่ม บวชเป็นพระมาแล้ว 10 พรรษา

35. บุคคลในข้อใดปฏิบัติตนได้เหมาะสมที่สุดในการใช้สิทธิเลือกตั้ง
1. อรไปถึงสถานที่เลือกตั้งเวลา 15.30 น.
 2. อี๊ดใช้บัตร ATM แสดงตนต่อเจ้าหน้าที่ประจำจุดเลือกตั้ง
 3. ออยเข้าช่องคูหาแล้วทำเครื่องหมาย ✓ ลงในบัตรเลือกตั้ง
 4. อู๊ดพับบัตรที่ลงคะแนนแล้วหย่อนลงในหีบบัตรเลือกตั้งทันที

ตอนที่ 1 ส่วนที่ 2 : แบบทดสอบฉบับนี้มีทั้งหมด 5 ข้อ 10 คะแนน ให้เลือกคำตอบจาก 3 กลุ่มคำตอบสัมพันธ์ ต้องเลือกตอบครบทั้ง 3 กลุ่ม จึงจะได้คะแนน

คะแนนที่ได้
คะแนนเต็ม
10

36. “นับถือพระเจ้าเพียงองค์เดียว และผู้นับถือศาสนานี้จะต้องผ่านพิธีปาหุล” จากข้อความนี้ แสดงว่าเกี่ยวข้องกับศาสนาใด ท่านใดเป็นศาสดา และท่านประสูติที่ใด

ตารางกลุ่มคำตอบ

กลุ่มคำตอบที่ 1		กลุ่มคำตอบที่ 2		กลุ่มคำตอบที่ 3	
1.	คริสต์	1.	พระพรหม	A.	อินเดีย
2.	พราหมณ์-ฮินดู	2.	พระเยซู	B.	บังกลาเทศ
3.	ลัทธิ	3.	คุรุนานัก	C.	เนปาล

37. “แอนนาจะต้องไปโบสถ์ทุกวันอาทิตย์” จากข้อความนี้ แสดงว่าแอนนานับถือศาสนาใด ท่านใดเป็นศาสดา และท่านประสูติที่ใด

ตารางกลุ่มคำตอบ

กลุ่มคำตอบที่ 1		กลุ่มคำตอบที่ 2		กลุ่มคำตอบที่ 3	
1.	พุทธ	1.	นบีมุฮัมมัด	A.	อินเดีย
2.	คริสต์	2.	พระพุทธเจ้า	B.	ซาอุดีอาระเบีย
3.	อิสลาม	3.	พระเยซู	C.	อิสราเอล

38. “ราตรีเป็นเพื่อนกับชัย ราตรีเล่าให้ชัยฟังว่า เธอไปเข้าร่วมพิธีกรรมแรกเพื่อเป็นการล้างบาปและมลทินต่างๆ ก่อนเข้านับถือศาสนา ส่วนชัยก็เล่าให้ราตรีฟังว่า เขาไปประกอบศาสนกิจที่เมกกะ” จากข้อความนี้ แสดงว่าราตรีกับชัยนับถือศาสนาใด พิธีกรรมใดที่ราตรีเข้าร่วม และพิธีกรรมใดที่ชัยเข้าร่วม

ตารางกลุ่มคำตอบ

กลุ่มคำตอบที่ 1		กลุ่มคำตอบที่ 2		กลุ่มคำตอบที่ 3	
1.	คริสต์, อิสลาม	1.	พิธีศีลแก้บาป	A.	การละหมาด
2.	อิสลาม, คริสต์	2.	พิธีศีลจุ่ม	B.	การถือศีลอด
3.	พุทธ, อิสลาม	3.	พิธีศีลบวช	C.	การประกอบพิธีฮัจญ์

39. “ปิ่นดาวเป็นเพื่อนกับจามร ปิ่นดาวเล่าให้จามรฟังว่า เธอไปสารภาพบาปกับบาทหลวง ส่วนจามรก็เล่าให้ปิ่นดาวฟังว่า เขาแสดงความจงรักภักดีในความเมตตากรุณาของอัลเลาะห์วันละ 5 เวลา” จากข้อความนี้ แสดงว่าปิ่นดาวกับจามรนับถือศาสนาใด พิธีกรรมใดที่ปิ่นดาวเข้าร่วม และพิธีกรรมใดที่จามรเข้าร่วม

ตารางกลุ่มคำตอบ

กลุ่มคำตอบที่ 1		กลุ่มคำตอบที่ 2		กลุ่มคำตอบที่ 3	
1.	คริสต์, อิสลาม	1.	พิธีศีลแก้บาป	A.	การละหมาด
2.	อิสลาม, คริสต์	2.	พิธีศีลจุ่ม	B.	การถือศีลอด
3.	พุทธ, อิสลาม	3.	พิธีศีลบวช	C.	การประกอบพิธีฮัจญ์

40. “อุ้มกำลังจะไปทำบุญในวันขึ้น 15 ค่ำ เดือน 6” จากข้อความนี้ แสดงว่าเกี่ยวข้องกับวันสำคัญทางพระพุทธศาสนาวันใด วันนี้มีความสำคัญอย่างไร และเราควรปฏิบัติตนอย่างไรในวันนี้

ตารางกลุ่มคำตอบ

กลุ่มคำตอบที่ 1		กลุ่มคำตอบที่ 2		กลุ่มคำตอบที่ 3	
1.	วันมาฆบูชา	1.	วันประสูติ ตรัสรู้ และปรินิพพานของพระพุทธเจ้า	A.	เวียนเทียน
2.	วันวิสาขบูชา	2.	วันที่พระพุทธเจ้าทรงแสดงโอวาทปาฏิโมกข์	B.	ตักบาตรเทโว
3.	วันอาสาฬหบูชา	3.	วันที่พระพุทธเจ้าทรงแสดงปฐมเทศนา	C.	ถวายผ้าอาบน้ำฝน

สิงคโปร์ ประเทศเพื่อนบ้านและหนึ่งในสมาชิกประชาคมอาเซียนที่ได้รับการยอมรับว่าเป็นประเทศที่มีสถิติการอ่านค่อนข้างสูงเมื่อเปรียบเทียบกับไทย โดยมีสถิติการอ่านหนังสือปีละ 40-50 เล่มต่อคน ขณะที่คนไทยยังให้ความสำคัญกับการอ่านน้อยมาก

นอกจากนี้ ประเทศเล็กๆ อย่างสิงคโปร์ ที่ไม่มีทรัพยากรธรรมชาติมากนักเหมือนประเทศอื่น แต่กลับมีฐานะทางเศรษฐกิจดีและประเทศพัฒนาอย่างรวดเร็ว ที่สำคัญคือ ความมีระเบียบวินัยของคนในประเทศ ซึ่งเป็นผลจากนโยบายหนึ่งในการพัฒนาประชาชนให้มีคุณภาพและพัฒนาสังคมให้น่าอยู่ คือ นโยบายส่งเสริมการอ่าน

โครงการส่งเสริมการอ่านของประเทศสิงคโปร์นั้นมีหลากหลาย เน้นการเข้าถึงกลุ่มเป้าหมายทุกเพศทุกวัยอย่างกว้างขวาง เช่น โครงการที่เปิดรับอาสาสมัครเพื่ออ่านหนังสือ เล่านิทานให้เด็กๆ ในชุมชน โรงเรียนอนุบาลประถม และมัธยมศึกษา โดยเน้นให้เด็กมีส่วนร่วม สนุกสนานกับเรื่องเล่า เรียนรู้คำศัพท์ภาษาอังกฤษในเรื่องเล่า และได้ข้อคิดดีๆ จากเรื่องเล่าหรือนิทานที่ฟัง เพราะเมื่อเด็กสนุกก็จะทำให้พวกเขาอยากที่จะเปิดหนังสืออ่าน และมีทัศนคติที่ดีต่อการอ่านหนังสือว่าไม่ใช่เรื่องน่าเบื่อ ซึ่งเด็กๆ ยังได้ความรู้ใหม่ๆ ที่นำไปใช้ในด้านการศึกษาและใช้ในชีวิตประจำวันได้

ผู้อำนวยการโครงการริเริ่มด้านการอ่าน ย้ำว่า การส่งเสริมให้ประชาชนทุกวัยทุกอาชีพหันมาสนใจการอ่านหนังสือ ไม่ใช่แค่ให้ประชาชนมาอ่านหนังสือแล้วจบไป แต่เมื่ออ่านหนังสือเสร็จแล้ว ยังมีการพูดคุยแลกเปลี่ยนความคิดเห็นที่หลากหลายจากหนังสือที่อ่านเรื่องเดียวกัน ทั้งนี้ เพื่อมุ่งพัฒนาให้คนสิงคโปร์มีทักษะการคิดแบบวิพากษ์วิจารณ์ มีความคิดสร้างสรรค์ และกล้าแสดงออก ถือเป็นการสร้างวัฒนธรรมการอ่านขึ้นในชุมชนทั่วประเทศ

แหล่งที่มา : campus.sanook.com

1. จากข่าวนี้ เป็นข่าวเกี่ยวกับเรื่องใด

B

2. จากข่าวนี้ มีใจความสำคัญเกี่ยวกับเรื่องใด สังเกตได้จากข้อความใด

D

3. นักเรียนจะตั้งชื่อหัวข้อข่าวนี้ว่าอย่างไร เพราะอะไร

D

4. นักเรียนคิดว่า จะนำข้อมูลที่รับได้จากข่าวนี้ไปปรับใช้กับตนเองได้อย่างไร

E

5. นักเรียนคิดว่า หากเด็กไทยได้รับการส่งเสริมให้รักการอ่านเช่นเดียวกับเด็กสิงคโปร์ จะส่งผลต่อการพัฒนาคุณภาพของเยาวชนไทยอย่างไร

F

ชั้นประถมศึกษาปีที่ 6

ชุดที่ 2

ชื่อ นามสกุล

เลขประจำตัวสอบ โรงเรียน

สอบวันที่ เดือน พ.ศ.

โครงการวัดและประเมินผล บริษัท อักษรเจริญทัศน์ อจท. จำกัด

ตอนที่ 1

ส่วนที่ 1 : แบบทดสอบฉบับนี้มีทั้งหมด 30 ข้อ 30 คะแนน
ให้นักเรียนเลือกคำตอบที่ถูกต้องที่สุดเพียงข้อเดียว

คะแนนที่ได้

คะแนนเต็ม

30

แบบทดสอบ

โครงการบูรณาการ

1. “ที่ฆาตุฆารไม่ฆ่าพระเจ้าพรหมทัต เพราะระลึกถึง
โอวาทที่บิดามารดาให้ไว้ว่า เวย่อมระงับด้วยการ
ไม่จองเวร” บุคคลใดมีนิสัยคล้ายคลึงกับที่ฆาตุฆาร
มากที่สุด

1. ตึกตาตุแลพ่อแม่เป็นอย่างดี
2. ตะวันไม่โกรธเพื่อนที่แกล้งตน
3. ภาวปฏิบัติหน้าที่ที่ได้รับมอบหมายอย่างดีที่สุด
4. ยมนาช่วยเหลือคนยากไร้อย่างสุดความสามารถ

2. บุคคลในข้อใดปฏิบัติตนตรงกับการไม่พูดเท็จ

1. นุชให้อาหารแมวและสุนัขจรจัด
2. นำขอยืมเงินเพื่อนเพื่อไปซื้ออาหารรับประทาน
3. นิดปฏิเสธเพื่อนที่นำเครื่องดื่มผสมแอลกอฮอล์
มาให้ดื่ม
4. น้อยทำงานแตกแล้วบอกความจริงให้แม่รู้ว่าตน
เป็นคนทำ

3. การกระทำใดเป็นการแสดงความกตัญญูทวดต่อ
พระมหากษัตริย์ที่นักเรียนสามารถทำได้ทุกวัน

1. เจริญรอยตามพระยุคลบาทในโครงการต่างๆ
2. ถวายพระพรในวันเฉลิมพระชนมพรรษา
3. ไปท่องเที่ยวยังโครงการพระราชดำริ
4. ตั้งใจปฏิบัติตนให้เป็นพลเมืองดี

4. ใครปฏิบัติตนได้ตรงกับพุทธศาสนสุภาษิตที่ว่า
สังกะจะ กิตติงบิปปิโติ (คนจะได้เกียรติด้วยสังกะจะ)

1. สาวพุดจริงทำจริง
2. สัมพุดชวานผ้าซาก
3. สาวพุดเป็นต่อยหอย
4. สาวพุดปั้นน้ำเป็นตัว

5. นิดตั้งใจทำงานเพื่อช่วยเหลือเด็กเร่ร่อนอย่าง
สุดความสามารถ และเพียรพยายามอย่างยิ่ง
เพื่อให้เด็กเหล่านี้มีคุณภาพชีวิตที่ดี โดยที่นิดา
ไม่หวาดกลัวต่ออันตรายต่างๆ

จากข้อความนี้ นิดาปฏิบัติตนได้สอดคล้องกับ
หลักธรรมใดมากที่สุด

1. พละ 4
2. อบายมุข 6
3. คารวะ 6
4. กุศลมูล 3

6. “บุษบาแต่งงานกับถาวร บุษบาทำตนเป็นภรรยา
ที่ดี เมื่อเพื่อนของถาวรมาที่บ้านก็ต้อนรับเป็นอย่างดี”

จากข้อความนี้ บุษบาปฏิบัติตนได้สอดคล้องกับ
หลักธรรมใดมากที่สุด

1. พละ 4
2. อบายมุข 6
3. คารวะ 6
4. กุศลมูล 3

ความรู้	ความจำ	ความเข้าใจ	การนำไปใช้	การวิเคราะห์	การสังเคราะห์	การประเมินค่า
A	B	C	D	E	F	

7.
C

ไ้ไม่มีเพื่อนสนิทชื่อฟ้า ฟ้าจะนำของเล่นใหม่ๆ มาเล่นที่โรงเรียนด้วยเสมอ วันหนึ่งฟ้านำตุ๊กตาตัวใหม่มาเล่น ตุ๊กตาตัวนี้สวยงาม ไ้รู้สึกชอบและอยากได้ จึงแอบหยิบตุ๊กตามาใส่ในกระเป๋าของตนเอง และคิดว่าจะนำไปเล่นที่บ้าน พรุ่งนี้จึงจะนำมาคืนฟ้า

การกระทำของไ้สอดคล้องกับหลักกรรมใดมากที่สุด

1. วชิกรรม 2. กายกรรม
3. มโนกรรม 4. กุศลกรรม

8. จากข้อความในข้อ 7. การกระทำของไ้เหมาะสมหรือไม่ เพราะอะไร

1. เหมาะสม เพราะฟ้ามีของเล่นหลายชิ้น ไ้นำไปแค่ชิ้นเดียวก็ไม่เป็นไร
2. เหมาะสม เพราะไ้นำไปเล่นแล้วนำมาคืน จึงไม่ได้ทำความผิดอะไร
3. ไม่เหมาะสม เพราะไ้ควรไปเล่นของเล่นที่บ้านของฟ้ามากกว่า
4. ไม่เหมาะสม เพราะไ้ไม่บอกฟ้าก่อน

อ่านข้อมูลที่กำหนด แล้วตอบคำถามข้อ 9.-10.

พระครูพิทักษ์นันทคุณ ท่านเป็นเจ้าของาวาสวัดอรัญญาวาสและที่ปรึกษามูลนิธิรักษเมืองน่าน ท่านได้มองเห็นปัญหาป่าไม้และสิ่งแวดล้อมถูกทำลาย ท่านจึงคิดหากุศโลบายโดยการบวชป่าสืบทอดาแม้น เพื่อให้ชาวบ้านช่วยกันดูแลรักษา นอกจากนี้ท่านยังร่วมกับประชาชน พระสงฆ์ กลุ่มชาวบ้านนักพัฒนา และข้าราชการ จัดตั้ง "มูลนิธิรักษเมืองน่าน" เพื่อปลูกให้คนเมืองน่านรักถิ่นเกิด นำมาซึ่งการเกิดกลุ่มเครือข่ายเชื่อมโยงหมู่บ้านและตำบลต่างๆ เข้าด้วยกัน กลุ่มเหล่านี้ได้ช่วยกันทำงานอนุรักษ์ทรัพยากรธรรมชาติและสิ่งแวดล้อม เช่น กลุ่มรักษ์บ้านอำเภอท่าวังผา กลุ่มรักษ์ถิ่นรักษ์ไทย อำเภอ นานาหมื่น เป็นต้น

9.
D

จากข้อมูลที่กำหนด เกี่ยวข้องกับการทำความดีด้านใดมากที่สุด

1. การดูแลรักษาทรัพยากรธรรมชาติ
2. การปราบปรามผู้ตัดไม้ทำลายป่า
3. การบำบัดน้ำเสียและรักษาต้นน้ำ
4. การพัฒนาท้องถิ่นและจังหวัด

10. จากคำตอบในข้อ 9. ส่งผลดีต่อชุมชนอย่างไรมากที่สุด

1. ทำให้ไม่มีผู้ลักลอบตัดไม้ทำลายป่า
2. ทำให้ชุมชนมีทรัพยากรธรรมชาติที่อุดมสมบูรณ์
3. ทำให้ท้องถิ่นและจังหวัดได้รับการพัฒนาในทุกๆ ด้าน
4. ทำให้มีน้ำใช้อุปโภค บริโภค อย่างปลอดภัยและใสสะอาด

11. การกระทำในข้อใด ถ้าปฏิบัติโดยขาดสติแล้ว จะส่งผลเสียต่อตนเองมากที่สุด เพราะอะไร

1. ยื่นเข้าแถวเคารพธงชาติตอนเช้า เพราะทำให้ถูกครูดำหนิและถูกลงโทษ
2. ทำความเคารพคุณครูที่ทางเดิน เพราะถ้าปฏิบัติไม่ถูกต้องอาจส่งผลต่อคะแนนมารยาท
3. ช่วยคุณครูถือหนังสือและกระเป๋าลงบันได เพราะทำให้ของหล่นเสียหาย และตกบันได
4. เคี้ยวอาหารเสียงดัง เพราะทำให้เป็นที่รังเกียจของบุคคลอื่น

12.
E

สาธิตมีหน้าตาหล่อเหลาและมีภรรยาแล้ว แต่เขามักจะเข้าไปคุยกับสาวๆ หน้าตาดีที่พบในห้างสรรพสินค้า และชักชวนไปเที่ยวต่อ

จากข้อความนี้ ถ้านักเรียนเป็นหนึ่งในสาวหน้าตาดีที่สาธิตชักชวนไปเที่ยว นักเรียนจะตอบสาธิตว่าอย่างไร เพราะอะไร และนักเรียนคิดว่าการกระทำของสาธิตจะส่งผลให้ขัดต่อหลักกรรมใดมากที่สุด

1. ไป เพราะสาธิตเป็นคนหน้าตาดี : อริยสัจ 4
2. ไป เพราะสาธิตเป็นคนนิสัยดี : เบญจธรรม
3. ไม่ไป เพราะต้องรีบกลับบ้าน : เบญจศีล
4. ไม่ไป เพราะยังไม่รู้จักสาธิตดีพอ : อกุศลมูล 3

13. นักเรียนและเพื่อนนับถือศาสนาพราหมณ์-ฮินดู วันหนึ่งเพื่อนของนักเรียนโมโห ทะเลาะกับผู้อื่น นักเรียนจะอธิบายหลักธรรมใดให้เพื่อนฟัง เพราะอะไร

1. บัญญัติ 10 ประการ เพราะกล่าวถึงการควบคุมความโกรธ
2. หลักธรรม 10 ประการ เพราะกล่าวถึงการทำความจิตใจให้สงบ
3. หลักศรัทธา 6 ประการ เพราะกล่าวถึงกรรมดีกรรมชั่วของมนุษย์
4. หลักวินัย เพราะส่งเสริมให้คนปฏิบัติดี เชื่อมั่นในคำสอนของพระเจ้า

14. อู้อ่านข้อมูลเกี่ยวกับสถานที่ต่างๆ ในศาสนสถาน แล้วจัดกลุ่มออกเป็น 2 ประเภท ดังนี้

กลุ่ม 1	เจดีย์ พระธาตุ สถูป
กลุ่ม 2	หอระฆัง ศาลาการเปรียญ กุฏิ

จากข้อมูลนี้ อู้อ่านใช้หลักเกณฑ์ใดในการจัดกลุ่ม

1. กลุ่ม 1 เป็นสิ่งปลูกสร้างในเขตพุทธาวาส
2. กลุ่ม 2 เป็นสิ่งปลูกสร้างที่ใช้เก็บอัฐิ
3. กลุ่ม 1 เป็นสิ่งปลูกสร้างที่พระสงฆ์ใช้ทำสังฆกรรม
4. กลุ่ม 2 เป็นสิ่งปลูกสร้างที่เป็นที่อยู่อาศัยของพระสงฆ์

15. สาเหตุหลักที่เราควรแต่งกายให้สุภาพเรียบร้อย เมื่อเข้าไปในเขตศาสนสถานคือข้อใด

1. แสดงถึงจิตใจอันบริสุทธิ์
2. แสดงถึงการให้ความเคารพสถานที่
3. แสดงถึงการปฏิบัติตามหลักธรรมทางศาสนา
4. แสดงถึงการน้อมรับพระพุทธ พระธรรม พระสงฆ์

16. พิธีบั้งสุกุลของพระพุทธศาสนามีความคล้ายคลึงกับพิธีใด ของศาสนาใด

1. พิธีศราภของศาสนาพราหมณ์-ฮินดู
2. พิธีศีลแก้บาปของศาสนาคริสต์
3. พิธีฮัจญ์ของศาสนาอิสลาม
4. พิธีสังคตของศาสนาซิกข์

17. ปีเตอร์เป็นชาวต่างชาติที่อยากเข้าร่วมพิธีกรรมสำคัญทางศาสนาในวันมาฆบูชา เพื่อนของปีเตอร์ที่เป็นพุทธศาสนิกชนจึงแนะนำปีเตอร์ ดังนี้

สุรี “พรุ่งนี้ควรแต่งกายด้วยเสื้อผ้าสีสันสดใส”
 อิงอร “วันนี้ไปซื้ออาหารมาเตรียมไว้ แล้วพรุ่งนี้ไปทำบุญตักบาตรที่วัด”
 อรุณ “ไปซื้อผ้าอาบน้ำฝนมาถวายพระด้วยนะ”
 ฟ้าใส “ฝึกท่องคำขอแสดงตนเป็นพุทธมามกะด้วยนะ”

ปีเตอร์ควรทำตามคำแนะนำของใครมากที่สุด เพราะอะไร

1. สุรี เพราะการเข้าร่วมพิธีกรรมทางศาสนา ควรแต่งกายด้วยเสื้อผ้าสีสันสดใส
2. อิงอร เพราะในวันสำคัญทางศาสนา ชาวพุทธจะไปทำบุญตักบาตรที่วัด
3. อรุณ เพราะในวันมาฆบูชาชาวพุทธนิยมถวายผ้าอาบน้ำฝนให้แก่พระสงฆ์
4. ฟ้าใส เพราะก่อนเข้าร่วมพิธีกรรมทางศาสนา ทุกครั้ง ต้องแสดงตนเป็นพุทธมามกะก่อน

18. “ปอรีบเดินข้ามถนนในทางข้ามที่มีไฟสัญญาณจราจรรูปคนเป็นสีเขียว เพราะต้องรีบตามเพื่อนที่ข้ามถนนไปแล้วให้ทัน” นักเรียนเห็นด้วยกับการกระทำของปอหรือไม่ เพราะอะไร

1. เห็นด้วย เพราะปอทำถูกต้องจราจร
2. เห็นด้วย เพราะปอปฏิบัติตามเป็นเด็กดี
3. ไม่เห็นด้วย เพราะปอปฏิบัติไม่ถูกต้องตามหลักกฎหมาย
4. ไม่เห็นด้วย เพราะปอควรข้ามตอนที่สัญญาณไฟเป็นสีแดง

19. อ่านข้อมูลในตาราง แล้วตอบคำถาม
D ตารางจัดกลุ่มประเภทของวัฒนธรรม

ก.	ภาษาพูด	ภาษาเขียน
ข.	จักสาน	ปั้นพระพุทธรูป
ค.	จริยธรรม	มีเมตตา
ง.	สงกรานต์	ลอยกระทง

นักเรียนจะนำความเชื่อเรื่องพญาแถน เติมลงข้อใด
ในตาราง เพราะเหตุใด

1. ข้อ ก. เพราะเป็นวัฒนธรรมทางภาษา
 2. ข้อ ข. เพราะเป็นวัฒนธรรมทางวัตถุ
 3. ข้อ ค. เพราะเป็นวัฒนธรรมทางจิตใจ
 4. ข้อ ง. เพราะเป็นวัฒนธรรมทางประเพณี
20. การปฏิบัติในข้อใดช่วยอนุรักษ์วัฒนธรรมไทยได้ดี
D ที่สุด

1. อ้อมนำผ้าไหมไทยเนื้อดีมาตัดเป็นชุดหมั้น และชุดแต่งงานเพื่อสวมใส่
 2. กุ้งชนเพื่อนๆ ไปดูพลุที่จุดอย่างสวยงาม ในวันขึ้นปีใหม่
 3. ฟนชมภาพยนตร์ทุกเรื่องที่เป็นของคนไทยและ คนไทยแสดงนำ
 4. น้อยชุดพบวัตถุโบราณในบริเวณบ้านจึงนำมา ตั้งแสดงไว้ในตู้ที่บ้าน
21. “วิภาดาเป็นพี่สาวของวิภาวี วิภาวีเป็นเพื่อนรักกับ
D วิภา” จากข้อความนี้ เมื่อวิภาดาไปซื้อสินค้าที่ ห้างสรรพสินค้าแล้วบังเอิญพบกับวิภา ถ้านักเรียน เป็นวิภา นักเรียนควรทำอย่างไรจึงจะเหมาะสม และสอดคล้องกับวัฒนธรรมไทยมากที่สุด
1. ยิ้มและจับมือ
 2. ยิ้มและเข้าไปโอบกอด
 3. ยิ้มและกล่าวคำว่า “สวัสดี”
 4. ยิ้มและยกมือไหว้โดยให้ปลายนิ้วชี้จรดที่จมูก

22. ใครปฏิบัติตนได้เหมาะสมที่สุดในการรับประทานอาหาร
C

1. จีบเล่าเรื่องอุบัติเหตุที่ตนพบเห็นขณะรับประทานอาหารกับเพื่อน เพราะกลัวจะไม่ได้เล่าให้เพื่อนฟัง
2. จู้ยกวาดเศษอาหารมารวมกันไว้ที่ขอบจานและ รวบรวมช้อนส้อมไว้คู่กันเมื่อรับประทานอาหารเสร็จแล้ว
3. โฉ่พุดกับเพื่อนขณะที่กำลังเคี้ยวอาหารเพราะมี เรื่องสำคัญที่ต้องคุย
4. จำรีบเคี้ยวอาหารอย่างรวดเร็วเพราะเกรงจะ รับประทานอาหารเสร็จไม่พร้อมเพื่อน

23. D “จะไปไหนหรือจ๊ะ” กานดาถาม
“กำลังจะไปตลาด” มยุรีตอบ
“ฉันฝากซื้อชมพูกีโลหนึ่งนะ” กานดาพูด
“ได้จ๊ะ” มยุรีพูด
เมื่อมยุรีกลับมาจากตลาด
“นี่ชมพูของเธอ” มยุรีบอกกานดา
“ไม่ใช่ชมพู นี่ฝรั่งนะ” กานดาพูด

จากข้อความนี้ แสดงถึงความแตกต่าง
ทางวัฒนธรรมด้านใด

1. ภาษา
 2. ศาสนา
 3. การแสดงออก
 4. การรับประทานอาหาร
24. D ดูภาพ แล้วตอบคำถาม



จากภาพแผนที่ นักเรียน
จะพบการแสดงแข็งได้ใน
บริเวณใดมากที่สุด

1. หมายเลข 1
2. หมายเลข 2
3. หมายเลข 3
4. หมายเลข 4

25.
D

นักวิจัยในประเทศสหรัฐอเมริกาได้ศึกษาพบว่าไขมันของผู้ที่น้ำหนักเกินบางคนได้แทรกเข้าไปฝังอยู่ในกระดูก เป็นสาเหตุให้กระดูกเปราะ

จากข่าวนี้น่าจะมีหัวข้อข่าวว่าอย่างไรจึงจะเหมาะสมและทำให้เข้าใจใจความสำคัญของข่าวได้ดีที่สุด

1. โรคอ้วนทำให้เสี่ยงต่อโรคอื่น
2. คนในปัจจุบันเสี่ยงต่อโรค
3. กระดูกเปราะเพราะอ้วน
4. อ้วนทำลายชีวิต

26.
D

การบริหารราชการแผ่นดินในข้อใดแตกต่างจากข้ออื่น

1. อบต.
2. อำเภอ
3. เทศบาล
4. เมืองพัทยา

27.
D

ถ้าประเทศไทยไม่มีการปกครองส่วนท้องถิ่นจะส่งผลในข้อใดมากที่สุด

1. การพัฒนาประเทศดำเนินไปได้อย่างสะดวก เพราะรัฐบาลเป็นผู้ดูแลจัดการเพียงผู้เดียว
2. การพัฒนาประเทศล่าช้า เพราะประชาชนไม่กล้าร้องเรียนหรือติดต่อกับรัฐบาลโดยตรง
3. การพัฒนาประเทศทำได้ไม่สอดคล้องกับความต้องการที่แท้จริงของประชาชน เพราะไม่มีหน่วยงานที่ใกล้ชิดกับประชาชนโดยตรง
4. การพัฒนาประเทศเป็นไปได้อย่างราบรื่น เพราะประชาชนสามารถแสดงความคิดเห็นกับรัฐบาลได้โดยตรง ไม่ต้องผ่านหน่วยงานอื่น

28.
D

บุคคลในข้อใดที่ปฏิบัติตนโดยแสดงถึงการมีส่วนร่วมในกิจกรรมประชาธิปไตย

1. บัญเข้าร่วมประเพณีสำคัญประจำท้องถิ่น
2. แก้วดูรายการสารคดีเกี่ยวกับสัตว์ป่าสงวนในประเทศไทย
3. นิ่งเชื่อมั่นในความคิดของตนเองโดยไม่ฟังความคิดเห็นของเพื่อน
4. ตุ่มเลือกซื้อสินค้าที่นำเข้าจากต่างประเทศและเป็นสินค้าที่คนส่วนใหญ่บอกว่าใช้ดี

29.
D

อนุชาแต่งงานกับจินตนามาเป็นเวลา 20 ปี ในปีแรกที่แต่งงาน จินตนาให้กำเนิดลูกสาว 1 คน คือ นารี ในปีี่ 4 ที่แต่งงาน จินตนาให้กำเนิดลูกคนที่ 2 คือ ธาดา

จากข้อมูลนี้ ถ้าในปีนี้ท้องที่ที่ครอบครัวนี้อาศัยอยู่มีการเลือกตั้งสมาชิกสภาผู้แทนราษฎร ครอบครัวนี้มีผู้ที่สามารถใช้สิทธิเลือกตั้งได้กี่คน ใครบ้าง

1. มีสิทธิเลือกตั้ง 1 คน คือ อนุชา
2. มีสิทธิเลือกตั้ง 2 คน คือ อนุชาและจินตนา
3. มีสิทธิเลือกตั้ง 3 คน คือ อนุชา จินตนา และนารี
4. มีสิทธิเลือกตั้ง 4 คน คือ อนุชา จินตนา นารี และธาดา

30.
C

“การใช้สิทธิออกเสียงเลือกตั้ง ส.จ.” จากข้อความนี้แสดงว่าเกี่ยวข้องกับกาเลือกตั้งในระดับใด บุคคลใดมีสิทธิเลือกตั้ง

1. ตำบล : ทุกคนในตำบล
2. ตำบล : ผู้ที่มีอายุ 18 ปีขึ้นไปอาศัยอยู่ในตำบล
3. จังหวัด : ทุกคนในจังหวัด
4. จังหวัด : ผู้ที่มีอายุ 18 ปีขึ้นไปอาศัยอยู่ในจังหวัด

31. ข้อใดคือประติมากรรมที่เกี่ยวข้องกับพระพุทธศาสนา ประเพณีที่มีความเกี่ยวข้องกับพระพุทธศาสนา และวรรณคดีที่มีที่มาจากพระพุทธศาสนา

ตารางกลุ่มคำตอบ

กลุ่มคำตอบที่ 1		กลุ่มคำตอบที่ 2		กลุ่มคำตอบที่ 3	
1.	พระพุทธรูป	1.	สงกรานต์	A.	ไตรภูมิพระร่วง
2.	ภาพวาดที่ฝาผนังโบสถ์	2.	บายศรีสู่ขวัญ	B.	อิเหนา
3.	ศาลาการเปรียญ	3.	บุญบั้งไฟ	C.	ลิลิตพระลอ

32. “ผู้อ่านพุทธประวัติตอนหนึ่ง ในตอนนี้มีชื่อของพุทธสาวกท่านหนึ่งที่ผู้ไม่รู้จัก ซึ่งมีนามว่า สุภัททปริพาชก” จากข้อความนี้ เกี่ยวข้องกับเหตุการณ์ใดในพุทธประวัติ เกี่ยวข้องกับหลักธรรมใด และเกี่ยวข้องกับวันใด

ตารางกลุ่มคำตอบ

กลุ่มคำตอบที่ 1		กลุ่มคำตอบที่ 2		กลุ่มคำตอบที่ 3	
1.	ปัจฉิมสาวก	1.	โอวาท 3	A.	วันขึ้น 15 ค่ำ เดือน 3
2.	ปรินิพพาน	2.	บุญกิริยาวัตถุ 3	B.	วันขึ้น 15 ค่ำ เดือน 6
3.	ถวายพระเพลิง	3.	มรรค 8	C.	วันขึ้น 15 ค่ำ เดือน 8

33. “นิวติอาศัยอยู่ในบริเวณที่เมื่อครั้งอดีตเรียกว่า ชมพูทวีป เขานับถือศาสนาเก่าแก่ศาสนาหนึ่ง ศาสนานี้จะเห็นการบูชาเทพเจ้า” จากข้อความนี้ เกี่ยวข้องกับศาสนาใด ศาสนิกชนในศาสนานี้นับถือสิ่งใด และศาสนานี้กำเนิดขึ้นที่ใด

ตารางกลุ่มคำตอบ

กลุ่มคำตอบที่ 1		กลุ่มคำตอบที่ 2		กลุ่มคำตอบที่ 3	
1.	คริสต์	1.	พระพรหม	A.	อินเดีย
2.	พราหมณ์-ฮินดู	2.	พระยะโฮวา	B.	บังกลาเทศ
3.	ลัทธิ	3.	วาหคูรู	C.	เนปาล

34. “ท่านจะต้องรักองค์พระผู้เป็นเจ้า พระเจ้าของท่านสุดจิตใจ สุดวิญญาณ สุดสติปัญญาของท่าน” จากข้อความนี้ เกี่ยวข้องกับหลักกรรมใด ศาสนาใด และพระผู้เป็นเจ้าในข้อความนี้คือใคร

C

ตารางกลุ่มคำตอบ

กลุ่มคำตอบที่ 1		กลุ่มคำตอบที่ 2		กลุ่มคำตอบที่ 3	
1.	หลักความรัก	1.	พุทธ	A.	อัลเลาะห์
2.	หลักตรีเอกานุภาพ	2.	คริสต์	B.	พระเยซู
3.	หลักศรัทธา 6 ประการ	3.	อิสลาม	C.	พระยะโฮวา

35. “ก้องกำลังจะเข้าบรรพชา” จากข้อความนี้ แสดงว่าก้องนับถือศาสนาใด ผู้ที่จะบรรพชาต้องมีอายุเท่าใด และต้องปฏิบัติตามหลักกรรมในข้อใด

C

ตารางกลุ่มคำตอบ

กลุ่มคำตอบที่ 1		กลุ่มคำตอบที่ 2		กลุ่มคำตอบที่ 3	
1.	คริสต์	1.	7 ปีขึ้นไป	A.	ศีล 8
2.	พุทธ	2.	20 ปีขึ้นไป	B.	ศีล 10
3.	สิข	3.	อายุเท่าไรก็ได้	C.	ศีล 227

36. “กิจกำลังจะเข้าอุปสมบท” จากข้อความนี้ แสดงว่ากิจนับถือศาสนาใด ผู้ที่จะอุปสมบทต้องมีอายุเท่าใด และต้องปฏิบัติตามหลักกรรมในข้อใด

C

ตารางกลุ่มคำตอบ

กลุ่มคำตอบที่ 1		กลุ่มคำตอบที่ 2		กลุ่มคำตอบที่ 3	
1.	คริสต์	1.	7 ปีขึ้นไป	A.	ศีล 8
2.	พุทธ	2.	20 ปีขึ้นไป	B.	ศีล 10
3.	สิข	3.	อายุเท่าไรก็ได้	C.	ศีล 227

37. การแสดงตนเป็นพุทธมามกะคืออะไร มีวัตถุประสงค์อย่างไร และคำขอแสดงตนมีคำขึ้นต้นว่าอย่างไร

B

ตารางกลุ่มคำตอบ

กลุ่มคำตอบที่ 1		กลุ่มคำตอบที่ 2		กลุ่มคำตอบที่ 3	
1.	พิธีที่ทำให้เกิดความเจริญในชีวิต	1.	เพื่อให้มีจิตใจมั่นคงต่อหลักคำสอน	A.	เอเต มะยัง ภันเต...
2.	การประกาศตนว่านับถือพระพุทธศาสนา	2.	เพื่อกลับสิ่งชั่วร้ายให้กลายเป็นดี	B.	อิมัง มะยัง ภันเต...
3.	การยืนยันความเชื่อเพื่อเป็นศาสนิกชนโดยสมบูรณ์	3.	เพื่อแสดงความจงรักภักดีต่อศาสนา	C.	อิมานิ มะยัง ภันเต...

38. “รสาตลอดลูกเมื่อวันที่ 20 มิถุนายน” จากข้อความนี้ รสาต้องปฏิบัติตามกฎหมายทะเบียนราษฎรในข้อใด
C ไปแจ้งภายในวันที่เท่าใด เมื่อแจ้งแล้วเจ้าหน้าที่จะออกเอกสารใดให้

ตารางกลุ่มคำตอบ

กลุ่มคำตอบที่ 1		กลุ่มคำตอบที่ 2		กลุ่มคำตอบที่ 3	
1.	การแจ้งเกิด	1.	29 มิถุนายน	A.	สูติบัตร
2.	การแจ้งตาย	2.	4 กรกฎาคม	B.	ทะเบียนบ้าน
3.	การแจ้งย้ายที่อยู่	3.	9 กรกฎาคม	C.	บัตรประจำตัวประชาชน

39. “พ่อของลลนาเดิมเป็นคนจังหวัดสุรินทร์ แต่ไปแต่งงานกับคนจังหวัดตาก ตอนนีพ่ของลลนาเสียชีวิตลงด้วยโรคหัวใจ” จากข้อความนี้ ลลนาต้องปฏิบัติตามกฎหมายทะเบียนราษฎรในข้อใด ไปแจ้งภายในกี่วัน เมื่อแจ้งแล้วเจ้าหน้าที่จะออกเอกสารใดให้

ตารางกลุ่มคำตอบ

กลุ่มคำตอบที่ 1		กลุ่มคำตอบที่ 2		กลุ่มคำตอบที่ 3	
1.	การแจ้งเกิด	1.	1 วัน	A.	สูติบัตร
2.	การแจ้งตาย	2.	15 วัน	B.	มรณบัตร
3.	การแจ้งย้ายที่อยู่	3.	30 วัน	C.	บัตรประจำตัวประชาชน

40. “ด้อยนำเงินที่หามาได้ในแต่ละวันไปซื้อยาบ้ามาเสพ” จากข้อความนี้ เกี่ยวข้องกับยาเสพติดประเภทใด ด้อยมีความผิดเกี่ยวกับยาเสพติดอย่างไร และจะได้รับโทษอย่างไร

ตารางกลุ่มคำตอบ

กลุ่มคำตอบที่ 1		กลุ่มคำตอบที่ 2		กลุ่มคำตอบที่ 3	
1.	ยาเสพติดให้โทษชนิดร้ายแรง	1.	ฐานผลิต นำเข้า ส่งออก	A.	จำคุกไม่เกิน 1 ปี
2.	ยาเสพติดให้โทษทั่วไป	2.	ฐานจำหน่าย	B.	จำคุก 6 เดือน - 3 ปี
3.	ยาเสพติดให้โทษที่มีลักษณะเป็นตำรับยา	3.	ฐานเสพยาเสพติดให้โทษ	C.	จำคุก 1 ปี - 10 ปี

ปัจจัยที่ทำให้ครอบครัวราบรื่น 4 ประการ ประกอบด้วย

1. สื่อสารดี พบว่าแม้สังคมจะเปลี่ยนไปจากในอดีต แต่สมาชิกในครอบครัวยังมีการพูดคุย ปรึกษาหารือกันเสมอ พบว่าร้อยละ 34.3 ยังคงพูดคุยกันมากที่สุด ขณะที่ร้อยละ 39 ยังคงพูดคุยกันมาก
2. มีเวลาร่วมกัน พบว่าครอบครัวจำนวนมากยังมีเวลารับประทานอาหารเย็นร่วมกัน หากแต่ข้อสังเกตที่พบ คือ ในช่วงเวลาดังกล่าว ส่วนใหญ่ร้อยละ 43.5 หมดไปกับการดูโทรทัศน์ รองลงมาร้อยละ 32.4 พูดคุยเรื่องสนุกสนาน มีเพียงร้อยละ 7.6 เท่านั้น ที่พูดคุยถึงปัญหาและหาทางแก้ไข แต่ในภาพรวมยังถือว่าครอบครัวไทยส่วนใหญ่ยังมีเวลาอยู่ร่วมกันพอสมควร
3. แบ่งปันใส่ใจ การช่วยเหลือกันในครอบครัว เมื่อสมาชิกคนใดเกิดปัญหา อันเป็นลักษณะเด่นของสังคมไทยยังคงมีอยู่ ในระดับสูง ร้อยละ 31.8 ตอบว่าจริงมากที่สุด ขณะที่ร้อยละ 40.5 ตอบว่าจริงมาก
4. ห่วงใยสุขภาพ ในส่วนนี้พบว่าประชากรส่วนใหญ่ออกกำลังกายกันน้อย โดยร้อยละ 33.4 ตอบว่าใช้เวลาออกกำลังกายปานกลาง ร้อยละ 27.7 ตอบว่าใช้เวลาออกกำลังกายมาก มีเพียงร้อยละ 18 ที่ระบุว่าออกกำลังกายมากที่สุด (สม่ำเสมอ) แต่เมื่อมาดูในส่วนของผู้ป่วย พบว่าพฤติกรรมไม่พึงประสงค์ของครอบครัวไทยยังสูงมากทั้ง 4 ประการ ประกอบด้วย
 1. อบายมุข พบว่าครอบครัวไทย ร้อยละ 61 ยังดื่มสุรา ร้อยละ 53 ยังเล่นหวยใต้ดิน ร้อยละ 52 เสี่ยงโชคกับสลากกินแบ่งรัฐบาล และร้อยละ 31.9 เล่นการพนันอื่นๆ
 2. หนี้สิน พบว่าปี 2555 แม้ส่วนใหญ่ร้อยละ 89.9 ระบุว่ามิรายได้เลี้ยงครอบครัว และร้อยละ 81.6 ระบุว่ามิเงินออม แต่ยังมีครอบครัวร้อยละ 60.9 ที่ระบุว่ามิหนี้สิน เท่ากับว่ามีรายได้มาก แต่เมื่อเทียบกับรายจ่ายแล้วอาจจะยังมากอยู่ด้วยเช่นกัน
 3. ความรุนแรงในครอบครัว เฉลี่ยแล้วทุกภาคในปี 2555 สูงขึ้นเท่าตัวหรือมากกว่า เมื่อเทียบกับปี 2554 เช่น ภาคกลาง ปี 2554 อยู่ที่ร้อยละ 10.8 แต่ปี 2555 เพิ่มขึ้นเป็นร้อยละ 41.9
 4. การนอกใจ ในปี 2554 มีเพียงร้อยละ 12.6 แต่ในปี 2555 กลับพบว่าคู่รัก-คู่สมรสมีสถิติการนอกใจเพิ่มเป็นร้อยละ 28.3 ถือว่าเพิ่มขึ้นกว่าเท่าตัวภายในระยะเวลาเพียงปีเดียวเท่านั้น

แหล่งที่มา : แนวหน้าออนไลน์ วันที่ 14 สิงหาคม พ.ศ. 2556

1. จากข่าวนี้ เป็นข่าวเกี่ยวกับเรื่องใด

B

2. จากข่าวนี้ มีใจความสำคัญเกี่ยวกับเรื่องใด สังเกตได้จากข้อความใด

D

3. นักเรียนคิดว่า ปัจจัยที่ทำให้ครอบครัวล้มเหลว 4 ประการ มาจากการขาดหลักธรรมใด เพราะอะไร

E

4. นักเรียนจะใช้หลักธรรมใด เพื่อทำให้สมาชิกในครอบครัวของนักเรียนอยู่ร่วมกันอย่างมีความสุข

E

5. ถ้าบุคคลในครอบครัวของนักเรียนติดอบายมุขและสิ่งเสพติด นักเรียนจะมีวิธีแก้ไขปัญหาได้อย่างไร

D

ตอนที่ 1

1. **ตอบ ข้อ 1.** เพราะคนไทยกับพระพุทธศาสนามีความสัมพันธ์ใกล้ชิดกันมาอย่างยาวนาน คนไทยส่วนใหญ่ นับถือพระพุทธศาสนาและนำหลักธรรมคำสอนทางพระพุทธศาสนามาปฏิบัติในการดำเนินชีวิต เพื่อให้หลุดพ้นจากความทุกข์ จึงสามารถกล่าวได้ว่าพระพุทธศาสนามีความสำคัญต่อคนไทย ในด้านการนำหลักธรรมคำสอนมาใช้ในการดำเนินชีวิตและใช้พึ่งพิงทางจิตใจ
2. **ตอบ ข้อ 2.** เพราะจากเรื่องสัพพทาฐิชาตก สุนัขจึงจอกต้องการเป็นใหญ่ จึงบังคับสัตว์ต่างๆ ให้ตกอยู่ในอำนาจ อีกทั้งสุนัขจึงจอกยังต้องการจะชิงราชสมบัติของพระเจ้าพรหมทัต ซึ่งเป็นการกระทำ ที่อยากมีอำนาจ ตรงกับสำนวน มักใหญ่ใฝ่สูง
3. **ตอบ ข้อ 1.** เพราะศรัทธา 4 ประกอบด้วย
 - เชื่อว่ากรรมมีอยู่จริง คือ เชื่อว่าเมื่อทำอะไรโดยมีเจตนาย่อมเป็นกรรม
 - เชื่อว่าผลกรรมมีจริง คือ เชื่อว่ากรรมที่ทำแล้วต้องมีผลกรรมตามมา
 - เชื่อว่าสัตว์มีกรรมเป็นของตน คือ เชื่อว่าแต่ละคนเป็นเจ้าของกรรมที่ทำได้ และจะต้องได้รับ ผลกรรมของตน
 - เชื่อพระปัญญาและการตรัสรู้ของพระพุทธเจ้า คือ เชื่อว่าพระพุทธเจ้าตรัสรู้หลักธรรม อันประเสริฐ

ซึ่งการที่ปิ่นดาวตั้งใจทำการบ้าน แสดงว่าเป็นการกระทำที่มีเจตนาหรือตั้งใจทำ ถือเป็นกรรม จึงสอดคล้องกับศรัทธา 4 ข้อที่ว่า เชื่อว่ากรรมมีอยู่จริง
4. **ตอบ ข้อ 2.** จากข้อความที่กำหนด ปุ่มพูดกับเพื่อนอีกคนว่า แก้วสอบได้ที่ 1 เพราะลอกข้อสอบเพื่อน การกระทำของปุ่มเป็นการพูดเท็จ ซึ่งเป็นวจีกรรมที่ทุจริต และการที่ปุ่มรู้สึกอิจฉาโดยพูดว่าเพื่อน ก็ถือเป็นวจีกรรมที่ทุจริตด้วย
5. **ตอบ ข้อ 2.** เพราะจากข้อความกล่าวถึงการประกอบอาชีพของสุนิสา คือ แม่ค้าขายไข่เจียว อาชีพนี้ เป็นอาชีพที่สุจริตและสร้างรายได้ให้กับสุนิสา ซึ่งการประกอบอาชีพที่สุจริตตรงกับเบญจธรรม ข้อ 2 (สัมมาอาชีพะ)
6. **ตอบ ข้อ 2.** เพราะการที่พระพุทธเจ้าทรงแสดงธรรมแก่ประชาชน ซึ่งเป็นกลุ่มบุคคลที่มีจำนวนมาก เมื่อ ประชาชนเข้าใจในธรรมที่พระพุทธเจ้าสอนและนำไปใช้ในการดำเนินชีวิต ส่งผลให้ประชาชน เหล่านั้นหลุดพ้นจากความทุกข์ต่างๆ จึงเป็นการช่วยให้คนพ้นทุกข์ได้มากที่สุด
7. **ตอบ ข้อ 3.** เพราะพุทธศาสนสุภาษิตที่ว่า ยถาวาที ตถากาโร แปลว่า พูดเช่นไร ทำเช่นนั้น ซึ่งบุคคล ที่พูดแล้วทำตามทีพูดก็คืออูฐ เพราะอูฐบอกรักแม่ แล้วก็ทำตามที่ตนเองพูดโดยการดูแลแม่ ที่เจ็บป่วยอย่างสุดความสามารถ
8. **ตอบ ข้อ 2.** เพราะคู่เป็นคนที่มีความเมตตากรุณาซึ่งตรงกับเบญจธรรม ข้อ 1 ความมีเมตตากรุณา

9. **ตอบ ข้อ 4.** เพราะกุศลมูล 3 ประกอบด้วย อโลภะ (ความไม่โลภ) อโทสะ (ความไม่โกรธ) อโมหะ (ความไม่หลงเลอะเลือน) ถ้าเราต้องการปฏิบัติตนตามหลักกุศลมูล 3 ควรปฏิบัติตาม 3 ข้อนี้ ซึ่งหยาบปฏิบัติตนตรงกับกุศลมูล 3 ข้อโทสะ
10. **ตอบ ข้อ 1.** เพราะเมื่อเราศึกษาประวัติของบุคคลที่ทำความดี จะทำให้เข้าใจเรื่องราวประวัติความเป็นมาของบุคคลนั้น ตลอดจนแนวทางในการปฏิบัติตนเป็นคนดีในด้านต่างๆ เช่น การช่วยเหลือผู้อื่น การพัฒนาท้องถิ่น เป็นต้น ซึ่งความรู้เหล่านี้เราสามารถนำมาปรับใช้ในการดำเนินชีวิตของเราได้ เพื่อให้เรามีวิธีการดำเนินชีวิตที่ดี ทำตนให้เป็นประโยชน์ต่อตนเองและผู้อื่นในสังคม
11. **ตอบ ข้อ 3.** เพราะการนั่งสมาธิเป็นสิ่งที่ดี เนื่องจากทำให้จิตใจสงบ แต่เราควรทำในเวลาที่เหมาะสม เช่น ก่อนเข้านอน เมื่อครูให้ทำข้อสอบจิตควรตั้งใจทำข้อสอบไม่ไขว่หน้าสมาธิ
12. **ตอบ ข้อ 3.** เพราะการฝึกยืน เดิน นั่ง นอน อย่างมีสติเป็นประจำ จะทำให้รู้ว่าจะกำลังทำอะไร เมื่อรู้ตัวก็จะปฏิบัติสิ่งต่างๆ ในชีวิตประจำวันได้โดยไม่ผิดพลาด เมื่อไม่ผิดพลาดก็ไม่เกิดอุบัติเหตุ
13. **ตอบ ข้อ 1.** เพราะการที่จะเกิดอุบัติเหตุขึ้น ส่วนใหญ่เกิดจากความประมาท ขาดสติ ซึ่งการดื่มเหล้าทำให้ขาดสติได้ง่ายที่สุด และเมื่อขาดสติ จะส่งผลให้ทำงานผิดพลาดได้ง่าย และอาจนำไปสู่การเกิดอุบัติเหตุได้
14. **ตอบ ข้อ 1.** เพราะธฤติ หมายถึง ความพอใจ ความกล้า ความมั่นคง คือ การที่มีความเพียรพยายามจนได้รับความสำเร็จ เมื่อดาวตั้งใจอ่านหนังสือ แสดงว่ามีความเพียรพยายาม จึงได้รับความสำเร็จคือการสอบได้คะแนนดี
15. **ตอบ ข้อ 4.** เพราะหลักอาศรม 4 ประกอบด้วย 1. พรหมจารี เป็นวัยที่ต้องศึกษาเล่าเรียน
2. คฤหัสถ์ เป็นวัยแห่งการครองเรือน เพื่อการแต่งงานและมีบุตร
3. วานปรสัถ์ เป็นวัยที่จะทำประโยชน์เพื่อสังคม
4. สันन्याสี เป็นวัยแห่งการออกบวชเพื่อบำเพ็ญเพียร
16. **ตอบ ข้อ 2.** เพราะหลักธรรม 10 ประการ ได้กล่าวไว้เกี่ยวกับการไม่ลักขโมยในข้อ 4 อัสเตยะ บัญญัติ 10 ประการ ได้กล่าวไว้ว่าอย่าลักขโมย ในข้อ 7 เภณจศีล ได้กล่าวไว้ในศีล ข้อ 2 งดเว้นจากการลักทรัพย์ หลักศรัทธา 6 ประการ เป็นหลักความเชื่อของมุสลิมที่ไม่ใช่หลักปฏิบัติจึงไม่ได้กล่าวถึงการงดเว้นจากการลักขโมย
17. **ตอบ ข้อ 3.** เพราะผู้ที่อุปสมบทได้ต้องมีอายุ 20 ปีบริบูรณ์ขึ้นไป และเป็นผู้นับถือพระพุทธศาสนา ซึ่งข้อ 1. ตำนับถือศาสนาอื่นที่ไม่ใช่พระพุทธศาสนา
ข้อ 2. ตั้มีอายุถึงเกณฑ์ทำบัตรประจำตัวประชาชน แสดงว่าตั้มีอายุครบ 7 ปีบริบูรณ์ เพราะกฎหมายระบุให้ผู้ที่อายุครบ 7 ปีบริบูรณ์จะต้องไปทำบัตรประจำตัวประชาชน และทำละหมาด แสดงว่านับถือศาสนาอิสลาม
ข้อ 4. ตู้นับถือพระรัตนตรัยแสดงว่านับถือพระพุทธศาสนา มีอายุถึงเกณฑ์เลือกตั้งสมาชิกสภาผู้แทนราษฎร แสดงว่ามีอายุครบ 18 ปีบริบูรณ์ เพราะกฎหมายระบุว่า ผู้ที่สามารถเลือกตั้งได้ต้องมีอายุครบ 18 ปีบริบูรณ์ขึ้นไป
ส่วนข้อ 3. ตึกเป็นพุทธมามกะแสดงว่านับถือพระพุทธศาสนา เกิดเมื่อปี พ.ศ. 2529 ปัจจุบันเป็นปี พ.ศ. 2557 ถ้านำ $2557 - 2529 = 28$ แสดงว่าตึกมีอายุ 28 ปี ซึ่งสามารถอุปสมบทได้

18. **ตอบ ข้อ 3.** เพราะการแสดงตนเป็นพุทธมามกะเป็นการประกาศตนว่ายอมรับนับถือพระพุทธศาสนา พิธีอมฤตสังสการเป็นพิธีกรรมในการรับคนเข้าสู่ศาสนาลิข พิธีศีลจุ่มเป็นพิธีกรรมเพื่อแสดงตนเป็นคริสต์ศาสนิกชน ซึ่งทั้ง 3 พิธีนี้มีความคล้ายคลึงกันเพราะเป็นการแสดงตนว่ายอมรับนับถือศาสนาที่ตนนับถือ ส่วนการละหมาดเป็นการนมัสการพระเจ้าตามหลักศาสนาอิสลาม
19. **ตอบ ข้อ 2.** เพราะจากข้อมูลี่เข้าไปนั่งสมาธิในวิหาร ซึ่งเป็นสิ่งก่อสร้างที่อยู่ในเขตพุทธาวาส
20. **ตอบ ข้อ 1.** เพราะในขณะที่กำลังฟังธรรม เราควรฟังอย่างตั้งใจ ไม่กระทำการใดๆ อันเป็นการรบกวนผู้อื่น หรือเป็นการแสดงความไม่เคารพในพระธรรมและพระสงฆ์ผู้แสดงธรรม ซึ่งกึ่งนั่งพับเพียบอยู่ข้างๆ สมชาย จึงไม่เป็นการรบกวนผู้อื่น
21. **ตอบ ข้อ 2.** เพราะการแสดงตนเป็นพุทธมามกะเป็นการประกาศตนว่ายอมรับนับถือพระพุทธศาสนา รวมทั้งยอมรับพระพุทธ พระธรรม และพระสงฆ์ เป็นที่พึ่ง เป็นที่ยึดเหนี่ยวจิตใจ และระลึกถึงวัตถุประสงค์ของการแสดงตนเป็นพุทธมามกะก็เพื่อให้มีความมั่นคงในการเป็นพุทธบริษัทที่ดี เพื่อให้มีจิตใจมั่นคงในหลักธรรมคำสอน เพื่อช่วยปลูกฝังนิสัยชาวพุทธที่ดีให้กับเยาวชน ซึ่งการทำบุญตักบาตรเป็นการปฏิบัติเพื่อเป็นพุทธบริษัทที่ดีอย่างหนึ่ง
22. **ตอบ ข้อ 4.** เพราะจากข้อความที่ว่า “สมหมายไปขอซื้อยาบ้าจากปัญญา จำนวน 5 เม็ด” แสดงว่าสมหมายเป็นผู้ซื้อและผู้เสพ ปัญญาเป็นผู้ขาย จึงส่งผลให้สมหมายกระทำความผิดฐานเสพยาเสพติดให้โทษ ปัญญากระทำความผิดฐานจำหน่ายหรือมีไว้ในครอบครองเพื่อจำหน่ายซึ่งยาเสพติดให้โทษ
23. **ตอบ ข้อ 4.** เพราะเทศบาลมีบทบาทหน้าที่ในการดูแลสุขภาพของคนในชุมชน ซึ่งการดูแลสุขภาพของคนในชุมชนจะต้องเกี่ยวกับโรคภัยไข้เจ็บ โดยอาจดูแลในเรื่องต่างๆ เช่น การควบคุมโรค การดูแลสุขภาพความสะอาดของอาหาร เป็นต้น ซึ่งการควบคุมแหล่งเพาะพันธุ์ยุงลายถือเป็นการป้องกันไม่ให้เกิดโรคไข้เลือดออก จึงเป็นบทบาทหน้าที่ของเทศบาล
24. **ตอบ ข้อ 3.** เพราะกฎหมายจราจรระบุไว้ว่า ถ้าเดินเท้าให้เดินบนไหล่ทางหรือทางเท้า ถ้าขับขี่รถจักรยานให้ชิดขอบทางด้านซ้ายของทางเดินรถ ถ้าขณะที่สัญญาณจราจรควบคุมเป็นสีเขียวกะพริบให้คนเดินเท้าหยุดรอในที่ปลอดภัย ถ้าเห็นสัญญาณไฟจราจรเป็นสีเหลืองให้เตรียมหยุดรถ หลังเส้นให้หยุดรถ
25. **ตอบ ข้อ 3.** เพราะฝิ่น มอร์ฟีน กระต่อม กัญชา เป็นสารเสพติดที่ได้มาจากธรรมชาติ ส่วนเฮโรอีน แอมเฟตามีน ยาอี ยาไอซ์ เป็นสารเสพติดที่ได้มาจากการสังเคราะห์
26. **ตอบ ข้อ 2.** เพราะวัดโพธิ์ ผ้าขาวม้า บ้านเรือนไทย กี๋ทอผ้า ชุดไทย เรือนปั้นหย่า เป็นวัฒนธรรมทางวัตถุ ส่วนการเวียนเทียนในวันมาฆบูชา การไหว้ ภาษาถิ่นอีสาน ความเชื่อเรื่องผีปู่ย่า ประเพณีสงกรานต์ และการบูชาพญาแถน เป็นวัฒนธรรมที่ไม่ใช่วัตถุ
27. **ตอบ ข้อ 3.** เพราะจากข้อความ ตูเป็นเพื่อนกับดา ดาเป็นเพื่อนกับจี ดังนั้น เมื่อดาแนะนำจีให้รู้จักกับตู่ จีกับตู่ก็ต้องอยู่ในฐานะเพื่อนเช่นเดียวกัน ส่วนการจับมือและการโอบกอดเป็นวัฒนธรรมของต่างชาติ การยกมือไหว้โดยให้ปลายนิ้วชี้จรดที่จมูกเป็นการทำความเคารพบุคคลทั่วไปที่เคารพนับถือตามหลักวัฒนธรรมไทย
28. **ตอบ ข้อ 4.** เพราะจากภาพเป็นการแสดงความเคารพผู้ใหญ่หรือบุคคลทั่วไปที่เคารพนับถือ ซึ่งต้องไหว้ โดยให้ปลายนิ้วชี้จรดที่จมูก ซึ่งภาพที่ 2 ปฏิบัติได้ถูกต้อง

29. **ตอบ ข้อ 4.** เพราะจากข้อความที่ว่า “นอกจากนี้ ยังเป็นกุศโลบายของผู้คนในอดีตให้มีการรวมตัวของคนที่อยู่ในชุมชนเพื่อร่วมกันจัดประเพณีนี้อีกด้วย” การรวมตัวกัน ให้เกิดประเพณีนี้ต้องปฏิบัติกันหลายคน คนในชุมชนจะช่วยกัน ร่วมมือร่วมใจกัน จึงส่งผลให้เป็นการสร้างความสามัคคีในชุมชน
30. **ตอบ ข้อ 1.** เพราะจากข้อความจะเห็นว่าอาหารของภาคกลางนิยมใส่กะทิ เนื่องจากในบริเวณภาคกลางเป็นพื้นที่ที่มีความอุดมสมบูรณ์เหมาะแก่การปลูกพืชชนิดต่างๆ ซึ่งมะพร้าวก็เป็นพืชชนิดหนึ่งที่นิยมปลูกในภาคกลาง คนในภาคกลางจึงนำกะทิจากมะพร้าวมาประกอบอาหาร ส่วนอาหารของภาคตะวันออกเฉียงเหนือนิยมใส่ปลาร้า เนื่องจากในภาคนี้มีความแห้งแล้งผู้คนจึงนิยมถนอมอาหารเพื่อเก็บไว้รับประทาน ปลาร้าก็เป็นการถนอมอาหารอย่างหนึ่งของคนในภาคนี้ เมื่อมีปลาร้าจำนวนมากจึงนำปลาร้ามาเป็นส่วนประกอบในอาหาร จึงแสดงให้เห็นว่า การประกอบอาหารของทั้ง 2 ภาคนี้เกี่ยวข้องกับทรัพยากรธรรมชาติที่มีในพื้นที่
31. **ตอบ ข้อ 3.** เพราะเมื่อได้รับข้อมูลข่าวสารเราควรตรวจสอบความน่าเชื่อถือของข่าวนั้น เช่น ถ้าได้รับข้อมูลว่าให้หยุดเรียนเนื่องจากน้ำท่วมโรงเรียนก็ควรโทรศัพท์ไปสอบถามข้อมูลจากทางโรงเรียน เพราะจะได้ข้อมูลที่ถูกต้องมากที่สุด ส่วนการเชื่อเพื่อนทันทีเป็นการเชื่อข้อมูลโดยไม่มีการตรวจสอบ การไปสอบถามพ่อแม่ พ่อแม่ไม่ใช่ผู้ที่มีความเกี่ยวข้องกับทางโรงเรียน จึงอาจไม่ทราบข้อมูลที่ถูกต้อง การไปโรงเรียนทันทีอาจได้รับความยากลำบากหากเกิดน้ำท่วมจริง
32. **ตอบ ข้อ 2.** เพราะโครงการ 30 บาทรักษาทุกโรค เป็นการให้บริการของรัฐด้านสาธารณสุข โดยให้ประชาชนเข้าโครงการและเมื่อไปรักษาตัวที่ศูนย์บริการทางการแพทย์ก็จะเสียค่าใช้จ่ายเพียง 30 บาท ซึ่งถือเป็นการจัดสวัสดิการให้แก่ประชาชนเพื่อให้ประชาชนมีชีวิตความเป็นอยู่ที่ดีขึ้น
33. **ตอบ ข้อ 3.** เพราะในวัยของนักเรียนควรปฏิบัติกิจกรรมประชาธิปไตยที่เหมาะสมกับวัย ไม่อันตรายไม่ขัดต่อกฎหมาย ดังนั้นเมื่อปีก็จะไปช่วยตำรวจจับกุมขบวนการค้ายาเสพติด แม่จึงควรห้ามไม่ให้ลูกไป เพราะการกระทำนี้เสี่ยงอันตราย อาจถึงแก่ชีวิตได้
34. **ตอบ ข้อ 2.** เพราะผู้มีสิทธิเลือกตั้งต้องมีคุณสมบัติ ดังนี้
- ผู้มีสัญชาติไทย (ถ้าแปลงสัญชาติต้องได้สัญชาติไทยมาแล้วไม่น้อยกว่า 5 ปี)
 - มีอายุไม่ต่ำกว่า 18 ปีบริบูรณ์ ในวันที่ 1 มกราคม ของปีที่มีการเลือกตั้ง
 - มีชื่ออยู่ในทะเบียนบ้านในเขตเลือกตั้งติดต่อกันไม่น้อยกว่า 90 วัน นับถึงวันเลือกตั้ง
 - ไม่มีลักษณะต้องห้าม ได้แก่ เป็นภิกษุ สามเณร นักพรต หรือนักบวช อยู่ในระหว่างถูกเพิกถอนสิทธิเลือกตั้ง ต้องคุมขังอยู่โดยหมายของศาลหรือโดยคำสั่งที่ชอบด้วยกฎหมาย วิกลจริต หรือจิตฟั่นเฟือนไม่สมประกอบ
35. **ตอบ ข้อ 4.** เพราะคูหาเลือกตั้งจะเปิดให้ลงคะแนนเวลา 08.00-15.00 น. การแสดงตัวต่อเจ้าหน้าที่ประจำจุดเลือกตั้งต้องแสดงบัตรประจำตัวประชาชน หรือบัตรที่มีรูปและหมายเลขประจำตัวประชาชน เช่น ใบขับขี่ การทำเครื่องหมายในบัตรเลือกตั้ง ต้องทำเครื่องหมายกากบาทเท่านั้น
36. **ตอบ ข้อ 3., 3., A.** เพราะพิธีปาหูล เป็นพิธีกรรมของ **ศาสนาสิข** การนับถือพระเจ้าองค์เดียวก็เป็นหลักปฏิบัติของศาสนาสิข ศาสดาของศาสนาสิข คือ **ครุฑนาถ** และท่านประสูติที่ **ประเทศอินเดีย**

37. **ตอบ ข้อ 2., 3., C.** เพราะการไปโบสถ์ทุกวันอาทิตย์ เป็นการปฏิบัติตนตามหลักของ**ศาสนาคริสต์** แสดงว่าแอนนา นับถือศาสนาคริสต์ ศาสนานี้มี**พระเยซู**เป็นศาสดา พระองค์ประสูติในดินแดนปาเลสไตน์ **ประเทศอิสราเอล**
38. **ตอบ ข้อ 1., 2., C.** เพราะจากข้อความระบุว่า ราตรีเข้าร่วมพิธีกรรมแรกเพื่อเป็นการล้างบาปและมลทินต่างๆ ก่อนเข้านับถือศาสนา เป็นการปฏิบัติพิธีศีลล้างบาปหรือ**ศีลจุ่ม**ของ**ศาสนาคริสต์** ส่วนชัยไปประกอบศาสนกิจที่เมกกะ เป็นการปฏิบัติ**พิธีฮัจญ์**ของ**ศาสนาอิสลาม**
39. **ตอบ ข้อ 1., 1., A.** เพราะจากข้อความระบุว่า ปีนดาวไปสารถาพาบกับบาทหลวง เป็นการปฏิบัติ**พิธีศีล-แก้บาป**ของ**ศาสนาคริสต์** ส่วนจามรแสดงความจงรักภักดีในความเมตตากรุณาของอัลเลาะห์ วันละ 5 เวลา เป็นการ**ละหมาด**ของ**ศาสนาอิสลาม**
40. **ตอบ ข้อ 2., 1., A.** เพราะวันขึ้น 15 ค่ำ เดือน 6 ตรงกับ**วันวิสาขบูชา** วันนี้มีเหตุการณ์สำคัญ 3 เหตุการณ์ คือ **การประสูติ ตรัสรู้ และปรินิพพานของพระพุทธเจ้า** โดยทั้งสามเหตุการณ์ได้เกิดในวันขึ้น 15 ค่ำ เดือน 6 หรือวันเพ็ญแห่งเดือนวิสาขะ (ต่างปีกัน) ในวันนี้ชาวพุทธจะปฏิบัติกิจกรรมทางศาสนาหลายอย่าง เช่น รักษาศีล ทำบุญตักบาตร นั่งสมาธิ **เวียนเทียน** เป็นต้น ส่วนการตักบาตรเทโวจะปฏิบัติเฉพาะในวันออกพรรษา การถวายผ้าอาบนำฝนจะปฏิบัติเฉพาะในวันเข้าพรรษา



ตอนที่ 2

1. **แนวตอบ** โครงการส่งเสริมการอ่านของประเทศสิงคโปร์
2. **แนวตอบ** ใจความสำคัญของข่าวนี้เกี่ยวกับ การเน้นให้ประชาชนมีนิสัยรักการอ่าน ดังจะเห็นได้จากข้อความในข่าวที่ว่า “ซึ่งเป็นผลจากนโยบายหนึ่งในการพัฒนาประชาชนให้มีคุณภาพและพัฒนาสังคมให้น่าอยู่ คือ นโยบายส่งเสริมการอ่าน” และ “โครงการส่งเสริมการอ่านของประเทศสิงคโปร์นั้นมีหลากหลาย เน้นการเข้าถึงกลุ่มเป้าหมายทุกเพศทุกวัยอย่างกว้างขวาง”
3. **แนวตอบ** หัวข้อข่าว คือ นโยบายส่งเสริมการอ่านของสิงคโปร์ เพราะข่าวนี้เป็นข่าวที่นำเสนอข้อมูลการพัฒนาศักยภาพของประชาชนในสิงคโปร์ โดยการนำนโยบายส่งเสริมการอ่านมาช่วยให้เยาวชนตลอดจนประชาชนในประเทศได้รับความรู้ใหม่ๆ ที่สามารถนำไปใช้ในการเรียนและใช้ในชีวิตประจำวันได้ และยังช่วยให้เกิดทักษะการคิดแบบวิพากษ์วิจารณ์ มีความคิดสร้างสรรค์ และกล้าแสดงออก ซึ่งความสามารถเหล่านี้จะช่วยทำให้ประชาชนของประเทศเป็นคนที่มีคุณภาพ มีศักยภาพ ส่งผลให้ประเทศพัฒนาและมีความเจริญก้าวหน้า
4. **แนวตอบ** นำไปใช้ในการจัดกิจกรรมในโรงเรียน โดยอาจรวมกลุ่มแล้วอ่านหนังสือ จากนั้นนำข้อมูลที่ได้จากการอ่านหนังสือมาร่วมพูดคุยกับเพื่อนในกลุ่ม เพื่อเป็นการฝึกให้เรา มีทักษะการคิดการรับฟังความคิดเห็นของผู้อื่น และยังช่วยให้ได้รับความรู้และประสบการณ์ใหม่ๆ
5. **แนวตอบ** ทำให้เยาวชนไทยมีทักษะการคิดแบบวิพากษ์วิจารณ์ มีความคิดสร้างสรรค์ กล้าแสดงออก มีทักษะทางภาษาที่ดี ซึ่งทักษะเหล่านี้จะทำให้เยาวชนไทยมีศักยภาพ และเมื่อโตขึ้นเป็นผู้ใหญ่ ก็จะเป็นกำลังสำคัญในการพัฒนาประเทศ

ตอนที่ 1

1. **ตอบ ข้อ 2.** เพราะเมื่อที่ฆราวาสมีโอกาสที่จะฆ่าพระเจ้าพรหมทัต เพื่อเป็นการแก้แค้นให้กับพระบิดา และพระมารดา แต่ก็ไม่ทำ เพราะระลึกถึงโอวาทที่พระบิดากับพระมารดาให้ไว้ว่า เวรย่อมระงับด้วยการไม่จองเวร แสดงถึงการให้อภัย ดังนั้นการที่ตะวันไม่โกรธเพื่อนที่แกล้งตน จึงเป็นการให้อภัยเพื่อน ซึ่งสอดคล้องกับคุณธรรมของที่ฆราวาส
2. **ตอบ ข้อ 4.** เพราะเบญจศีล ข้อ 4 งดเว้นจากการพูดเท็จ การเจตนาบิดเบือนความจริงให้ผู้อื่นหลงเชื่อ ซึ่งการที่น้อยพูดความจริงกับแม่ว่าตนเองเป็นคนทำงานแตก เป็นการปฏิบัติตรงกับเบญจศีล ข้อ 4
3. **ตอบ ข้อ 4.** เพราะการแสดงความกตัญญูทวดเวที่ต่อพระมหากษัตริย์ สามารถปฏิบัติได้หลายอย่าง เช่น แสดงความจงรักภักดีด้วยความจริงใจ ปฏิบัติตามพระบรมราโชวาท ถวายพระพรในวันเฉลิมพระชนมพรรษา เป็นต้น แต่การแสดงความกตัญญูทวดเวที่ต่อพระมหากษัตริย์ที่เราสามารถทำได้ทุกวัน ต้องเป็นสิ่งที่ปฏิบัติได้เป็นประจำ เช่น การเป็นพลเมืองดี
4. **ตอบ ข้อ 1.** เพราะพุทธศาสนสุภาษิตที่ว่า สัจจะนะ กิตติงบัพโปติ แปลว่า คนจะได้เกียรติด้วยสัจจะ ซึ่งคนที่จะมีชื่อเสียง มีเกียรติยศ เป็นที่รู้จักของคนทั่วไป ต้องเป็นคนมีสัจจะ การที่สาวเป็นคนพูดจริง ทำจริง แสดงว่าสาวเป็นคนมีสัจจะ ส่วนสัมพูดหวานผ่าซอกแสดงว่าพูดโผงผางไม่เกรงใจใคร สาวพูดเป็นต่อยหอยแสดงว่าพูดไม่หยุดปาก สวยพูดปั้นน้ำเป็นตัวแสดงว่าพูดโกหก
5. **ตอบ ข้อ 1.** เพราะพละ 4 หมายถึง พลัง คือ ธรรมอันเป็นพลัง 4 ประการ ที่ทำให้ดำเนินชีวิตด้วยความมั่นใจ ไม่ต้องหวาดกลัวภัยต่างๆ ได้แก่ ปัญญาพละ (กำลังปัญญา) วิทยพละ (กำลังความเพียร) อนวัชชพละ (กำลังคือการกระทำที่ไม่มีโทษ) และสังคหพละ (กำลังการสงเคราะห์คือการช่วยเหลือเกื้อกูล ทำตนให้เป็นประโยชน์แก่สังคม) การกระทำของนิตาสอดคล้องกับพละ 4 มากที่สุด เพราะนิตาช่วยเหลือเด็กเร่ร่อนอย่างสุดความสามารถและเพียรพยายามแสดงว่านิตามีวิทยพละ การที่นิตาช่วยเหลือเด็กเร่ร่อนให้มีคุณภาพชีวิตที่ดีถือเป็นการทำความดีที่ไม่มีโทษแสดงว่ามือนวัชชพละ อีกทั้งการช่วยเหลือเด็กเร่ร่อนเป็นการช่วยเหลือสังคมอย่างหนึ่งแสดงว่ามีสังคหพละ
6. **ตอบ ข้อ 3.** เพราะการที่บุษบาต้อนรับขับสู้เพื่อนของสามีเป็นอย่างดี สอดคล้องกับการระงับในการต้อนรับ ปฏิสันถาร (เป็นหลักธรรมข้อหนึ่งในการระงับ 6) คือ ตระหนักในการต้อนรับ ไม่ว่าบุคคลใดเมื่อมาหาเราที่บ้านหรือที่ทำงานก็ต้องให้ความสนใจต้อนรับปราศรัยด้วยดี
7. **ตอบ ข้อ 2.** เพราะการที่ไอ้แอบหยิบตุ๊กตาของฟ้ามาใส่กระเป๋าของตนเองถือเป็นการลักขโมย ซึ่งตรงกับกายกรรมที่ทุจริต คือ การทำสิ่งที่ไม่ดีทางกาย

8. **ตอบ ข้อ 4.** เพราะสิ่งที่ไอ้ทำถือเป็นการลักขโมย จึงไม่เหมาะสม ผิดต่อศีลธรรม และผิดต่อกฎหมายด้วย
9. **ตอบ ข้อ 1.** เพราะจากข้อความ “ท่านจึงคิดหากุศโลบายด้วยการบวชป่าสืบชะตาแม่” และ “เพื่อปลุกให้คนเมืองน่านรักถิ่นเกิด นำมาซึ่งการเกิดกลุ่มเครือข่ายเชื่อมโยงหมู่บ้านและตำบลต่างๆ เข้าด้วยกัน กลุ่มเหล่านี้ได้ช่วยกันทำงานอนุรักษ์ทรัพยากรธรรมชาติและสิ่งแวดล้อม” ดังนั้นจึงเกี่ยวข้องข้องกับการดูแลรักษาทรัพยากรธรรมชาติ
10. **ตอบ ข้อ 2.** เพราะเมื่อทรัพยากรธรรมชาติในชุมชนได้รับการดูแลรักษา ก็จะส่งผลให้ชุมชนมีทรัพยากรธรรมชาติที่อุดมสมบูรณ์
11. **ตอบ ข้อ 3.** เพราะการปฏิบัติสิ่งต่างๆ โดยขาดสติจะส่งผลให้เกิดเหตุการณ์ขึ้นหลายอย่าง แต่ที่ส่งผลเสียต่อตนเองมากที่สุดคือการได้รับอุบัติเหตุ เพราะทำให้ร่างกายบาดเจ็บ ซึ่งข้อ 3. การช่วยคุณครูถือหนังสือและกระเป่าลงบันได ถ้าเราไม่ระมัดระวังอาจทำให้ตกบันไดจนทำให้ได้รับอุบัติเหตุต่อร่างกาย ส่วนข้ออื่นๆ ถ้าทำโดยขาดสติก็จะได้รับผลเสียน้อยกว่าข้อนี้
12. **ตอบ ข้อ 3.** เพราะเมื่อมีคนแปลกหน้ามาพูดคุยกับเราและชักชวนไปที่อื่นต่อ่นั้น อาจทำให้เกิดอันตรายกับตัวเราได้ เพราะเราไม่รู้จักคนแปลกหน้าดีพอว่าเขามีนิสัยใจคออย่างไร เป็นคนดีหรือไม่ ดังนั้นจึงควรตอบปฏิเสธโดยใช้ถ้อยคำสุภาพ เช่น หนูต้องรีบกลับบ้านค่ะ ส่วนการกระทำที่สาธิตชักชวนสาว ๆ ไปเที่ยวต่อด้วย อาจทำให้เกิดการประพฤติดินในกามได้ (ตรงกับเบญจศีล ข้อ 3.)
13. **ตอบ ข้อ 2.** เพราะหลักธรรม 10 ประการ ได้กล่าวไว้ชัดเจนในข้อที่ 10 ว่า อโภระ ได้แก่ ความไม่โกรธ คือ การเอาชนะความโกรธด้วยความไม่โกรธ มีความอดทน สงบเสงี่ยม รู้จักทำจิตใจให้สงบ
14. **ตอบ ข้อ 1.** เพราะเจตีย์ พระธาตุ สุธูป เป็นสิ่งปลูกสร้างในเขตพุทธาวาสทั้งหมด ส่วนกุฏิ หอระฆัง ศาลาการเปรียญ เป็นสิ่งปลูกสร้างในเขตสังฆาวาส
15. **ตอบ ข้อ 2.** เพราะศาสนสถานเป็นสถานที่สำคัญทางศาสนา เนื่องจากใช้เป็นที่ประกอบพิธีกรรมทางศาสนา เป็นที่อยู่อาศัยของพระสงฆ์ สามเณร ซึ่งเป็นศาสนบุคคลทางศาสนาที่เราให้ความเคารพนับถือ ดังนั้นเมื่อเราเข้าไปในเขตศาสนสถานจึงควรแต่งกายให้สุภาพเรียบร้อย เพื่อเป็นการแสดงความเคารพต่อศาสนสถาน และศาสนบุคคล
16. **ตอบ ข้อ 1.** เพราะพิธีบังสุกุล เป็นการอุทิศส่วนบุญส่วนกุศลให้แก่ผู้ที่ล่วงลับไปแล้ว จึงมีความคล้ายคลึงกับพิธีศราทของศาสนาพราหมณ์-ฮินดู ซึ่งเป็นพิธีที่ลูกหลานจะทำบุญอุทิศให้แก่ผู้ที่ล่วงลับไปแล้ว
17. **ตอบ ข้อ 2.** เพราะในวันสำคัญทางพระพุทธศาสนา เช่น วันมาฆบูชา พุทธศาสนิกชนมักจะทำบุญตักบาตร รักษาศีล ฟังธรรม นั่งสมาธิ เป็นต้น ส่วนการไปทำบุญที่วัดควรแต่งกายด้วยเสื้อผ้าสีอ่อนๆ และเป็นแบบที่สุภาพเรียบร้อย ส่วนผ้าอาบน้ำฝนจะถวายเฉพาะในวันเข้าพรรษา และการเข้าร่วมพิธีกรรมทางศาสนาไม่จำเป็นต้องแสดงตนเป็นพุทธมามกะก่อนทุกครั้ง

18. **ตอบ ข้อ 1.** เพราะการเดินทางข้ามถนนในทางข้ามที่มีไฟสัญญาณจราจรรูปคน ให้ปฏิบัติ ดังนี้ เมื่อสัญญาณจราจรเป็นสีแดง ให้คนเดินเท้าหยุดรออยู่บนทางเท้า บนเกาะแบ่งทางเดินรถ หรือในเขตที่ปลอดภัย เมื่อสัญญาณจราจรรูปคนเป็นสีเขียว ให้คนเดินเท้าข้ามถนนได้ เมื่อสัญญาณจราจรเป็นสีเขียวกะพริบ ไม่ว่าจะเป็นด้านใดของถนน ให้คนเดินเท้าที่ยังไม่ได้ข้ามหยุดรอในที่ปลอดภัย แต่ถ้ากำลังข้ามถนนให้ข้ามโดยเร็ว ดังนั้นการกระทำของปอจึงถูกต้องตามกฎจราจร
19. **ตอบ ข้อ 3.** เพราะวัฒนธรรมทางจิตใจเป็นวัฒนธรรมที่เกี่ยวกับความคิด ความเชื่อ ความศรัทธาต่อศาสนา พิธีกรรม ศีลธรรม ดังนั้นความเชื่อเรื่องพญาแถนจึงจัดอยู่ในวัฒนธรรมทางจิตใจ
20. **ตอบ ข้อ 1.** เพราะการอนุรักษ์วัฒนธรรมไทยเป็นการสืบทอดวัฒนธรรมไทยให้คงอยู่โดยการเรียนรู้ ศึกษา ถ่ายทอด ใช้ประโยชน์ หรือด้วยวิธีการอื่นๆ เช่น การศึกษาข้อมูลเกี่ยวกับอาหารไทยแล้วไปฝึกทำ การฝึกไหว้ให้ถูกต้อง การนำผ้าไทยมาตัดเย็บเพื่อสวมใส่ เป็นต้น
21. **ตอบ ข้อ 4.** เพราะวิภาวีเป็นเพื่อนกับวิภา วิภาวีเป็นน้องสาวของวิภาดา เมื่อวิภาไปพบพี่สาวของเพื่อน จึงควรแสดงความเคารพด้วยการไหว้ตามมารยาทของไทย ซึ่งการไหว้บุคคลทั่วไปที่เคารพนับถือให้ไหว้โดยจรดปลายนิ้วชี้ที่จมูก
22. **ตอบ ข้อ 2.** เพราะในการรับประทานอาหารเราควรปฏิบัติตนให้เหมาะสม เช่น ไม่พูดเรื่องที่น่าเกลียดหรือน่ากลัว ไม่ควรพูดขณะที่มีอาหารอยู่เต็มปาก ไม่ควรรีบเคี้ยวอาหารเพราะอาจทำให้อาหารติดคอได้ ไม่ควรให้มีเศษอาหารกระจายอยู่เต็มจานเมื่อรับประทานอาหารเสร็จแล้ว ซึ่งการปฏิบัติของจ๋วยเป็นการปฏิบัติที่เหมาะสมที่สุดในการรับประทานอาหาร
23. **ตอบ ข้อ 1.** เพราะจากข้อความ กานดาฝากให้มยุรีซื้อชมพู่ ซึ่งเป็นชื่อเรียกโดยทั่วไปของผลไม้ชนิดหนึ่ง  แต่มยุรีซื้อฝรั่งมาให้กานดา  แสดงว่ามยุรีเป็นคนท้องถิ่นภาคใต้ เพราะคนท้องถิ่นภาคใต้จะเรียกฝรั่งว่าชมพู่ จึงทำให้การสื่อสารในครั้งนี้อผิดพลาดไป ดังนั้นจากข้อความจึงแสดงให้เห็นถึงความแตกต่างทางด้านภาษา
24. **ตอบ ข้อ 3.** เพราะเข็ญ เป็นการแสดงของภาคตะวันออกเฉียงเหนือ เราจึงสามารถพบเห็นการแสดงนี้ได้ ในบริเวณภาคตะวันออกเฉียงเหนือมากที่สุด ซึ่งในแผนที่บริเวณภาคตะวันออกเฉียงเหนือคือ หมายเลข 3
25. **ตอบ ข้อ 3.** เพราะจากข่าว มีใจความสำคัญว่า นักวิจัยได้พบว่าไขมันเข้าไปแทรกฝังในกระดูก ทำให้กระดูกเปราะ ดังนั้นหัวข้อข่าวของข่าวนี้ควรมีเนื้อหาเกี่ยวกับสาเหตุของกระดูกเปราะ
26. **ตอบ ข้อ 2.** เพราะองค์การบริหารส่วนตำบล (อบต.) เทศบาล และเมืองพัทยา เป็นการบริหารราชการส่วนท้องถิ่น ส่วนอำเภอเป็นการบริหารราชการส่วนภูมิภาค
27. **ตอบ ข้อ 3.** เพราะการปกครองส่วนท้องถิ่นเป็นหน่วยงานที่ทำหน้าที่ดูแลและพัฒนาในระดับท้องถิ่น มีผู้แทนที่มาจากกาเลือกตั้งจากประชาชนในท้องถิ่นโดยตรง ทำให้เข้าใจความต้องการของประชาชนในท้องถิ่น และช่วยแก้ไขปัญหที่เกิดขึ้นกับประชาชนในท้องถิ่นได้อย่างตรงสาเหตุ

28. **ตอบ ข้อ 1.** เพราะกิจกรรมประชาธิปไตยเป็นกิจกรรมที่ส่งเสริมให้คนได้แสดงความคิดเห็น ได้ร่วมมือกัน แก้ไขปัญหา ได้ร่วมมือกิจกรรมของชุมชน ท้องถิ่น และประเทศ อีกทั้งยังรวมถึงการอนุรักษ์ ทรัพยากรธรรมชาติ ดังนั้นการที่ปู้ยเข้าร่วมประเพณีสำคัญของท้องถิ่นจึงเป็นการมีส่วนร่วม ในกิจกรรมประชาธิปไตย
29. **ตอบ ข้อ 3.** เพราะผู้ที่มีสิทธิเลือกตั้งจะต้องเป็นผู้ที่มีอายุ 18 ปีบริบูรณ์ขึ้นไป ซึ่งอนุชา กับจินตนาแต่งงาน กันมาเป็นเวลา 20 ปี แสดงว่าทั้ง 2 คนมีอายุเกิน 18 ปีบริบูรณ์ ส่วนนารีมีอายุ 19 ปี เพราะ นารีเกิดตั้งแต่ปีแรกที่อนุชาแต่งงานกับจินตนา ส่วนธาดาเกิดในปีที่ 4 ที่อนุชาแต่งงานกับ จินตนา แสดงว่าธาดามีอายุ 15 ปี ซึ่งยังไม่ถึงเกณฑ์ใช้สิทธิเลือกตั้ง
30. **ตอบ ข้อ 4.** เพราะ ส.จ. ย่อมมาจาก สมาชิกสภาจังหวัด จึงเป็นการเลือกตั้งระดับจังหวัด ผู้ที่มีสิทธิเลือกตั้ง ต้องมีคุณสมบัติ ดังนี้
- ผู้มีสัญชาติไทย (ถ้าแปลงสัญชาติต้องได้สัญชาติไทยมาแล้วไม่น้อยกว่า 5 ปี)
 - มีอายุไม่ต่ำกว่า 18 ปีบริบูรณ์ ในวันที่ 1 มกราคม ของปีที่มีการเลือกตั้ง
 - มีชื่ออยู่ในทะเบียนบ้านในเขตเลือกตั้งติดต่อกันไม่น้อยกว่า 90 วัน นับถึงวันเลือกตั้ง
 - ไม่มีลักษณะต้องห้าม ได้แก่ เป็นภิกษุ สามเณร นักพรต หรือนักบวช อยู่ในระหว่าง ถูกเพิกถอนสิทธิเลือกตั้ง ต้องคุมขังอยู่โดยหมายของศาลหรือโดยคำสั่งที่ชอบด้วยกฎหมาย วิกลจริตหรือจิตฟั่นเฟือนไม่สมประกอบ
31. **ตอบ ข้อ 1., 1., A.** เพราะประติมากรรมเป็นงานศิลปะที่แสดงออกด้วยการปั้น แกะสลัก หล่อ **พระพุทธรูป** จัดเป็นงานประติมากรรม **ประเพณีสงกรานต์** เป็นประเพณีที่ชาวพุทธจะทำบุญตักบาตร สรงน้ำพระ รดน้ำขอพรผู้ใหญ่ **ไตรภูมิพระร่วง** เป็นวรรณคดีที่มีเนื้อหาเกี่ยวกับคติความเชื่อของชาวพุทธ เช่น นรก สวรรค์ การเวียนว่ายตายเกิด ดังนั้นพระพุทธรูป ประเพณีสงกรานต์ และไตรภูมิพระร่วง จึงมีความเกี่ยวข้องกับพระพุทธศาสนา
32. **ตอบ ข้อ 1., 3., B.** เพราะสุภัททปริพาชก เป็นผู้ที่อยู่สมบทและสำเร็จเป็นพระอรหันต์ก่อนที่พระพุทธเจ้า จะเสด็จดับขันธปรินิพพาน จึงนับเป็น **ปัจฉิมสาวก** ส่วนหลักธรรมที่พระพุทธเจ้าทรงแสดง และทำให้สุภัททปริพาชกเลื่อมใสและขอบวช คือ **มรรค 8** และเหตุการณ์นี้เกิดขึ้นใน **วันขึ้น 15 ค่ำ เดือน 3** ก่อนพระพุทธเจ้าเสด็จดับขันธปรินิพพาน 3 เดือน
33. **ตอบ ข้อ 2., 1., A.** เพราะ **ศาสนาพราหมณ์-ฮินดู** เป็นศาสนาที่ไม่มีศาสดา แต่มีการนับถือเทพเจ้า เทพเจ้า ผู้ยิ่งใหญ่มี 3 องค์ ได้แก่ **พระพรหม** (ผู้สร้างโลกและสรรพสิ่งต่างๆ) **พระวิษณุ** (ผู้รักษาดูแลโลก) **พระศิวะ** (ผู้ทำลายโลกเมื่อโลกมีคนชั่วจำนวนมาก) ศาสนานี้ได้เกิดขึ้นใน **ประเทศอินเดีย** หรือที่อดีตเรียกว่า ชมพูทวีป
34. **ตอบ ข้อ 1., 2., C.** เพราะจากข้อความนี้เป็นข้อความที่พระเยซูทรงตรัสไว้ใน **หลักความรัก** ซึ่งเป็น หลักคำสอนสำคัญของ **ศาสนาคริสต์** และพระเจ้าของศาสนาคริสต์ คือ **พระยะโฮวา**

35. **ตอบ ข้อ 2., 1., B.** เพราะการบรรพชาคือการบวชเป็นสามเณรใน**พระพุทธศาสนา** ผู้ที่จะบวชได้ต้องมีอายุตั้งแต่ 7 ปีขึ้นไป เมื่อเข้าบรรพชาแล้วต้องประพฤติปฏิบัติตามพระธรรมวินัยอย่างเคร่งครัด และ**รักษาศีล 10 ข้อ**
36. **ตอบ ข้อ 2., 2., C.** เพราะการอุปสมบทคือการบวชเป็นพระสงฆ์ใน**พระพุทธศาสนา** ผู้ที่จะบวชได้ต้องมีอายุตั้งแต่ 20 ปีขึ้นไป เมื่อเข้าอุปสมบทแล้วต้องประพฤติปฏิบัติตามพระธรรมวินัยอย่างเคร่งครัด และ**รักษาศีล 227 ข้อ**
37. **ตอบ ข้อ 2., 1., A.** เพราะการแสดงตนเป็นพุทธมามกะเป็นการ**ประกาศตนว่ายอมรับนับถือพระพุทธศาสนา** รวมทั้งยอมรับพระพุทธ พระธรรม และพระสงฆ์เป็นที่พึ่ง ที่ยึดเหนี่ยวจิตใจ และระลึกถึงวัตถุประสงค์ของการแสดงตนเป็นพุทธมามกะ มีอยู่ 3 ประการ ได้แก่
1. เพื่อให้มีความมั่นคงในการเป็นพุทธบริษัทที่ดี
 2. **เพื่อให้มีจิตใจมั่นคงต่อหลักธรรมคำสอน**
 3. เพื่อเป็นการช่วยปลูกฝังนิสัยชาวพุทธที่ดีให้กับเด็ก ๆ
- และคำขอแสดงตนเป็นพุทธมามกะ มีดังนี้ **เอเต มะยัง ภันเต** สุจิระประรินิพพุตัมปิ ตัง ภะคะวันตัง สระระณังคัจฉามะ ธัมมังญะ สังฆังญะ พุทธะมามะกาติ โน สังโฆ ธาเรตุ
38. **ตอบ ข้อ 1., 2., A.** เพราะจากข้อความระบุว่า รสาคลดตลูกเมื่อวันที่ 20 มิถุนายน ซึ่งการคลอดลูกก็คือมีคนเกิด จึงต้องไป**ทำการแจ้งเกิด**ต่อนายทะเบียนในท้องที่มีคนเกิดภายใน 15 วัน นับแต่วันที่เกิด ดังนั้นเมื่อเกิดวันที่ 20 มิถุนายน แล้วนับเพิ่มไปอีก 15 วัน คือ **วันที่ 4 กรกฎาคม** และหลังจากที่แจ้งเกิดแล้ว นายทะเบียนจะออก**สูติบัตร** (ใบแจ้งเกิด) ไว้เป็นหลักฐาน
39. **ตอบ ข้อ 2., 1., B.** เพราะเมื่อมีคนตายในบ้าน กฎหมายระบุว่าจะต้องมี**การแจ้งตาย**ต่อนายทะเบียนในท้องที่ที่ผู้ตายมีชื่ออยู่ในทะเบียนราษฎรภายใน 24 ชั่วโมง (**1 วัน**) และเมื่อแจ้งแล้วจะได้รับ**ใบมรณบัตร**ไว้เป็นหลักฐาน
40. **ตอบ ข้อ 1., 3., B.** เพราะจากข้อความ ต้อยซ้อยาบ้า (แอมเฟตามีน) ซึ่งเป็นยาเสพติดประเภทที่ 1 (**เป็นยาเสพติดให้โทษชนิดร้ายแรง**) มาเสพ ดังนั้นต้อยจึงมีความ**ผิดฐานเสพยาเสพติดให้โทษ** และผู้เสพยาเสพติดประเภทที่ 1 นี้ ต้อง **ระวางโทษจำคุกตั้งแต่หกเดือนถึงสามปี** หรือปรับตั้งแต่หนึ่งหมื่นบาทถึงหกหมื่นบาท

1. *แนวตอบ* ปัจจัยที่ทำให้ครอบครัวราบรื่น 4 ประการ
2. *แนวตอบ* ใจความสำคัญของข่าวนี้เกี่ยวกับ ข้อมูลทางสถิติของปัจจัยที่ทำให้ครอบครัวราบรื่น 4 ประการ และพฤติกรรมไม่พึงประสงค์ของครอบครัวไทย 4 ประการ ดังจะเห็นได้จากข้อความในข่าว เช่น พบว่าครอบครัวไทย ร้อยละ 61 ยังดื่มสุรา ร้อยละ 53 ยังเล่นหวยใต้ดิน ร้อยละ 52 ยังเสี่ยงโชคกับสลากกินแบ่งรัฐบาล เป็นต้น
3. *แนวตอบ* ขาดเบญจศีล เพราะเบญจศีลเป็นหลักธรรมเบื้องต้นในการครองตนเพื่อไม่ให้ทำความชั่ว ซึ่งประกอบด้วย งดเว้นจากการฆ่าสัตว์ งดเว้นจากการลักทรัพย์ งดเว้นจากการประพฤติผิดในกาม งดเว้นจากการพูดเท็จ และงดเว้นจากการดื่มสุราและเสพสารเสพติด ซึ่งปัจจัยสำคัญที่ทำให้เกิดความล้มเหลวในครอบครัวส่วนใหญ่ล้วนมาจากการไม่ปฏิบัติตามหลักเบญจศีล เช่น เมื่อดื่มสุราหรือเสพสารเสพติดก็จะทำให้ขาดสติ ซึ่งอาจส่งผลให้ประพฤติตนผิดลูกผิดเมียผู้อื่น หรือทำให้เกิดการใช้ความรุนแรงในครอบครัว เป็นต้น
4. *แนวตอบ* มงคล 38 เช่น ไม่ประมาทในธรรม เพราะเมื่อไม่ประมาทในธรรมก็จะไม่ทำความชั่วต่างๆ ที่จะก่อให้เกิดความทุกข์ทั้งต่อตนเองและผู้อื่น ทำแต่ความดี ซึ่งเมื่อเป็นเช่นนี้แล้วก็จะสามารถอยู่ร่วมกับผู้อื่นได้อย่างมีความสุขทั้งในครอบครัว โรงเรียน ประเทศชาติ และโลก
5. *แนวตอบ* พยายามหากิจกรรมอื่นๆ ที่สามารถทำร่วมกันได้ในครอบครัว เช่น เล่นดนตรี เล่นกีฬา มาปฏิบัติ และชักชวนให้ผู้ที่ติดอบายมุขและสารเสพติดมาร่วมกันทำกิจกรรมต่างๆ โดยขอคำปรึกษาจากผู้ใหญ่ที่สามารถช่วยเหลือเราได้

ตารางวิเคราะห์แบบทดสอบ

ภาคเรียนที่ 2

ชุดที่	ตารางวิเคราะห์มาตรฐานตัวชี้วัด			ตารางวิเคราะห์ระดับพฤติกรรมความคิด		
	มาตรฐาน	ตัวชี้วัด	ชื่อของแบบทดสอบที่สัมพันธ์กับตัวชี้วัด	ระดับพฤติกรรมความคิด	ชื่อของแบบทดสอบที่สัมพันธ์กับระดับพฤติกรรมความคิด	รวม
1	ส 3.1	1	1-3	A ความรู้ความจำ	-	-
		2	4-5	B ความเข้าใจ	-	-
		3	6-9, 36	C การนำไปใช้	6, 10, 14, 16-18, 20-21, 33, 37	10
	ส 3.2	1	10-14	D การวิเคราะห์	1, 4-5, 7-8, 11, 15, 19, 22-27, 29-30, 32, 34-36, 38-40	23
		2	15			
	ส 5.1	1	16-26	E การสังเคราะห์	28, 31	2
		2	27, 29-31, 37-39	F การประเมินค่า	2-3, 9, 12-13	5
	ส 5.2	1	28, 32-33			
		2	34			
3		35, 40				
2	ส 3.1	1	1-5	A ความรู้ความจำ	-	-
		2	6-8	B ความเข้าใจ	-	-
		3	9-14	C การนำไปใช้	16, 24-26	4
	ส 3.2	1	15-21, 36	D การวิเคราะห์	3, 5, 9-12, 15, 17-18, 20, 22-23, 27-33, 36-40	24
		2	22-23			
	ส 5.1	1	24-27, 29-30, 37-39	E การสังเคราะห์	7, 21, 35	3
		2	31, 40	F การประเมินค่า	1-2, 4, 6, 8, 13-14, 19, 34	9
	ส 5.2	1	28			
		2	32, 35			
3		33, 34				

แบบทดสอบ

โครงการบูรณาการ

ชั้นประถมศึกษาปีที่ 6

ชุดที่ 1

ชื่อ นามสกุล

เลขประจำตัวสอบ โรงเรียน

สอบวันที่ เดือน พ.ศ.

โครงการวัดและประเมินผล บริษัท อักษรเจริญทัศน์ อจท. จำกัด

ตอนที่ 1 ส่วนที่ 1 : แบบทดสอบฉบับนี้มีทั้งหมด 35 ข้อ 35 คะแนน
ให้นักเรียนเลือกคำตอบที่ถูกต้องที่สุดเพียงข้อเดียว

คะแนนที่ได้

คะแนนเต็ม

35

1. อะไรเป็นสาเหตุสำคัญที่สุดที่ทำให้ผู้ผลิตประสบปัญหาเกี่ยวกับการขาดแคลนทรัพยากรที่นำมาใช้ในการผลิต

1. ปริมาณทรัพยากรลดลง
2. ราคาทรัพยากรสูงขึ้นมาก
3. ทรัพยากรที่นำมาใช้มีคุณภาพไม่ดีเท่าที่ควร
4. มีผู้ผลิตจำนวนมากทำให้มีการแย่งทรัพยากร

2. ด้อยเป็นเจ้าของโรงงานทำปลากระป๋อง เมื่อมีชิ้นส่วนปลาจำนวนมากเหลือจากกระบวนการผลิต ด้อยจะนำชิ้นส่วนปลาเหล่านั้นไปฝังกลบใกล้กับแหล่งชุมชน

จากข้อความนี้ นักเรียนคิดว่าด้อยทำถูกต้องหรือไม่ เพราะอะไร

1. ถูกต้อง เพราะช่วยเพิ่มธาตุอาหารให้กับดิน
2. ถูกต้อง เพราะมีการกำจัดชิ้นส่วนอาหารที่เหลือ
3. ไม่ถูกต้อง เพราะชิ้นส่วนอาหารที่เหลือจะไม่เพิ่มปุ๋ยให้กับดิน
4. ไม่ถูกต้อง เพราะอาจเกิดปัญหากลิ่นเน่าเหม็นต่อคนในชุมชน

3. F

กุกโก้เป็นชาวสวนกล้วยที่อยู่ในต่างอำเภอซึ่งไกลจากตัวจังหวัดมาก ในปีนี้กล้วยในสวนของกุกโก้มีผลผลิตจำนวนมากทำให้ขายไม่ทัน

จากข้อความนี้ นักเรียนคิดว่ากุกโก้ควรทำอย่างไรจึงจะเหมาะสมที่สุด เพราะอะไร

1. แปรรูป เพราะช่วยให้กล้วยไม่เน่าเสียและช่วยเพิ่มราคาให้กับผลผลิต
2. ส่งขายต่อ เพราะเป็นการกระจายสินค้าไปยังตลาดอื่นและช่วยเพิ่มรายได้
3. บริจาคให้วัดและโรงเรียน เพราะเป็นการทำบุญและได้ช่วยเหลือผู้อื่น
4. ให้เพื่อนบ้าน เพราะเป็นการเชื่อมโยงมิตรกับเพื่อนบ้าน

ความรู้ ความจำ	ความเข้าใจ	การนำไปใช้	การวิเคราะห์	การสังเคราะห์	การประเมินค่า
A	B	C	D	E	F

4. การวางแผนก่อนการเลือกซื้อสินค้าและบริการ มีความจำเป็นต่อเราหรือไม่ เพราะอะไร

D

1. จำเป็น เพราะจะได้ซื้อสินค้าที่มีคุณภาพดีที่สุด และซื้อจากร้านค้าที่เป็นที่นิยม
2. จำเป็น เพราะจะได้ซื้อสินค้าที่ตรงกับความต้องการ และสอดคล้องกับเงินที่มีอยู่
3. ไม่จำเป็น เพราะการวางแผนต้องใช้เวลานาน ทำให้อาจซื้อสินค้าได้ไม่ทันตามความต้องการ
4. ไม่จำเป็น เพราะการวางแผนเลือกซื้อสินค้า จะใช้กับผู้ที่ต้องการซื้อสินค้าจำนวนมากเท่านั้น

5. แม่ค้าจัดของขายเป็นชุดๆ ดังนี้

D

ชุดที่ 1 ดินสอกับสติ๊กเกอร์

แถม หุ่นยนต์ ราคา 20 บาท

ชุดที่ 2 ดินสอกับพวงกุญแจ

แถม ลูกอม ราคา 20 บาท

ชุดที่ 3 ดินสอกับหนังสือการ์ตูน

แถม หมากฝรั่ง ราคา 20 บาท

ชุดที่ 4 ดินสอกับไม้บรรทัด

แถม ลูกข้าง ราคา 20 บาท

ถ้านักเรียนต้องการซื้อดินสอและมีเงินอยู่ 20 บาท

นักเรียนควรเลือกซื้อสินค้าชุดใด เพราะอะไร

1. ชุดที่ 1 เพราะได้ทั้งของใช้และของเล่น
2. ชุดที่ 2 เพราะได้ทั้งของใช้และของกิน
3. ชุดที่ 3 เพราะได้รับความรู้จากหนังสือการ์ตูน
4. ชุดที่ 4 เพราะได้ของที่มีประโยชน์ต่อการเรียนหนังสือ

6. ใครปฏิบัติตนได้ตรงกับการใช้ทรัพยากรให้คุ้มค่า โดยการลดปริมาณการใช้

C

1. นิดซื้อข้าวกล่องกลับบ้านโดยนำปิ่นโตไปใส่แทนกล่องโฟม
2. นวนำขวดแก้วที่ผ่านการหลอมมาใช้อีกครั้ง
3. นุชเก็บขวดน้ำพลาสติกมาทำเป็นแจกันดอกไม้
4. น้อยเย็บต่อแขนตุ๊กตาที่ขาดให้กับน้อง

7.

D

โด่งเป็นเจ้าของร้านอาหารแห่งหนึ่ง โด่งมีลูกจ้างในร้าน 4 คน ได้แก่ แม่ครัว 1 คน พนักงานบริการในร้าน 3 คน ร้านนี้เป็นความใฝ่ฝันของโด่งตั้งแต่เด็ก โด่งจึงลงทุนตกแต่งร้านให้ออกมาสวยงามที่สุด

จากข้อมูลนี้ แม่ครัว คือทรัพยากรการผลิตในข้อใด

1. ทุน
2. ที่ดิน
3. แรงงาน
4. ผู้ประกอบการ

อ่านข้อมูลที่กำหนด แล้วตอบคำถามข้อ 8.-9.

การขยายพันธุ์และการคัดเลือกพันธุ์พืช แต่เดิมใช้วิธีปลูกพืชจำนวนมาก แล้วคัดเลือกเอาเฉพาะต้นที่มีลักษณะดีตามที่ต้องการ แต่อาจเกิดการผสมข้ามพันธุ์ หรือเกิดจากการกลายพันธุ์ได้ การเพาะเลี้ยงเนื้อเยื่อพืชจึงได้นำมาใช้เพื่อเพิ่มประสิทธิภาพในกระบวนการคัดเลือก และขยายพันธุ์พืช เพราะสามารถควบคุมสภาพแวดล้อมต่างๆ ที่พืชใช้ในการเจริญเติบโตได้ ต้นพืชที่ได้จากการเพาะเลี้ยงจึงมีลักษณะตรงตามลักษณะทางพันธุกรรม สามารถใช้เพิ่มจำนวนต้นพืชให้ได้ปริมาณมาก โดยทุกต้นจะมีลักษณะเหมือนกับพืชต้นแบบทุกประการ

สารานุกรมไทยสำหรับเยาวชน เล่มที่ 28

8. จากข้อมูลนี้ มีเนื้อหาเกี่ยวข้องกับเรื่องใดมากที่สุด

D

1. การใช้ทรัพยากรโดยการประยุกต์เทคนิคและวิธีการใหม่
2. การสร้างจิตสำนึกให้รู้คุณค่าของทรัพยากรที่มีอยู่
3. การใช้ทรัพยากรให้เกิดประโยชน์สูงสุด
4. การเข้าใจลักษณะของทรัพยากร

9. จากข้อมูลนี้ นักเรียนคิดว่าการเพาะเลี้ยงเนื้อเยื่อส่งผลอย่างไรต่อเกษตรกร เพราะอะไร
1. ส่งผลดี เพราะทำให้ได้ต้นพืชในปริมาณมาก
 2. ส่งผลดี เพราะทำให้ได้พืชที่มีลักษณะใหม่ๆ
 3. ส่งผลเสีย เพราะพืชจะมีสารเคมีตกค้าง
 4. ส่งผลเสีย เพราะพืชจะมีการเปลี่ยนแปลงทางพันธุกรรม
10. “ปิดเป็นหัวหน้าครอบครัว เขาเปิดร้านขายข้าวแกง โดยขอกู้เงินจากธนาคารมาลงทุน” จากข้อความนี้ ไม่ปรากฏหน่วยเศรษฐกิจในข้อใด
1. ธนาคาร
 2. หน่วยธุรกิจ
 3. หน่วยรัฐบาล
 4. หน่วยครัวเรือน
11. ข้อใดกล่าวถึงหน่วยครัวเรือนเพียงหน่วยเดียว
1. ปลาเป็นพนักงานบริษัทและได้รับเงินเดือนเดือนละ 15,000 บาท
 2. ปอยมีรายได้และจ่ายภาษีให้กับกรมสรรพากร
 3. ปิ่นกู้เงินจากธนาคารมาลงทุนขายสินค้า
 4. ปุ่มได้รับเงินจากการเปิดร้านขายตุ๋กตา
- อ่านข้อมูลที่กำหนด แล้วตอบคำถามข้อ 12.-13.

นางสุรีได้ยืมเพื่อนบ้านบอกว่าใช้ครีมโลชั่นยี่ห้อขาวใสทาใบหน้าจะทำให้ใบหน้าขาวใสภายใน 3 วัน จึงไปซื้อมาใช้ หลังจากใช้นาน 2 เดือน ใบหน้าเริ่มลอกออกเป็นแผ่น บางจุดก็ยังเป็นสีดำแดงเช่นเดิม ทำให้ใบหน้าต่างแต่ก็ยังใช้ครีมดังกล่าวทาบริเวณที่เป็นสีดำแดงหวังจะให้ผิวหน้าลอกออกเป็นแผ่นเหมือนกัน แต่กลับไม่เป็นเช่นนั้น ผิวหน้าไม่ยอมลอกแต่มีอาการปวดแสบปวดร้อน จึงไปแจ้งความไว้เป็นหลักฐาน และเข้าร้องเรียนต่อสำนักงานคณะกรรมการคุ้มครองผู้บริโภค (สคบ.)

12. จากข้อมูลนี้ การที่นางสุรีเข้าร้องเรียนต่อสำนักงานคณะกรรมการคุ้มครองผู้บริโภคถูกต้องหรือไม่ เพราะอะไร
1. ถูกต้อง เพราะสคบ. จะชดใช้ค่าเสียหายให้แก่ผู้บริโภค
 2. ถูกต้อง เพราะสคบ. จะรับเรื่องราวร้องทุกข์จากผู้บริโภคเพื่อดำเนินการต่อไป
 3. ไม่ถูกต้อง เพราะควรไปร้องเรียนกับทางบริษัทผู้ผลิตโดยตรง
 4. ไม่ถูกต้อง เพราะนางสุรีไม่ควรเชื่อคำพูดของเพื่อนบ้านตั้งแต่แรก
13. จากข้อความที่ขีดเส้นใต้ ผู้ผลิตมีความผิดหรือไม่ เพราะอะไร
1. ผิด เพราะโฆษณาเกินจริง
 2. ผิด เพราะบอกข้อมูลไม่ชัดเจน
 3. ไม่ผิด เพราะอธิบายสรรพคุณอย่างละเอียด
 4. ไม่ผิด เพราะบอกจำนวนวันที่ใช้แล้วเห็นผล
14. “ปีกไปรับประทานอาหารกับครอบครัวที่ร้านอาหารชื่อดังแห่งหนึ่ง” จากข้อความนี้ ปีกจะต้องจ่ายภาษีประเภทใด ให้กับหน่วยงานใด
1. ภาษีเงินได้บุคคลธรรมดา - กรมสรรพากร
 2. ภาษีเงินได้บุคคลธรรมดา - กรมศุลกากร
 3. ภาษีมูลค่าเพิ่ม - กรมสรรพากร
 4. ภาษีมูลค่าเพิ่ม - กรมศุลกากร

15. กลุ่มแม่บ้านในตำบลขอนแก่น อำเภอบ้านหมี่ จังหวัดลพบุรี ส่วนใหญ่ประกอบอาชีพทำไร่เสร็จจากไร่ก็จับงานบ้าน นอกเหนือจากนั้นก็รวมกลุ่มคิดหาวิธีการพัฒนาคุณภาพชีวิตด้วยการเพิ่มรายได้ให้กับครอบครัว

- จากข้อความนี้ สาเหตุที่รวมกลุ่มแม่บ้านมาจากข้อใด
1. ต้องการมีรายได้เพิ่ม
 2. ต้องการแปรรูปผลผลิตที่มีอยู่
 3. ต้องการใช้เวลาว่างให้เกิดประโยชน์
 4. ต้องการเพิ่มความรู้ความสามารถให้กับตนเอง

ดูภาพแผนที่ที่กำหนด แล้วตอบคำถามข้อ 16.-19.



แบบทดสอบ

โครงการบูรณาการ

16. จากภาพแผนที่ ไม่ปรากฏข้อมูลใด
- C
1. ความสูงต่ำของพื้นที่
 2. สถานที่ท่องเที่ยว
 3. ที่ตั้งชุมชน
 4. แหล่งน้ำ
17. จากภาพแผนที่ ข้อมูลใด ไม่ถูกต้อง
- C
1. บริเวณนี้มีสถานที่ท่องเที่ยวทางธรรมชาติหลายแห่ง
 2. แสดงอาณาเขตของอำเภอห้วยคตเพียงอำเภอเดียว
 3. มีการแสดงบริเวณใกล้เคียงที่มีอาณาเขตต่อเนื่องกัน
 4. มีการแสดงเส้นทางของทางหลวงแผ่นดิน

18. จากภาพแผนที่ เป็นข้อมูลของภาคใด
- C
1. ภาคเหนือ
 2. ภาคกลาง
 3. ภาคตะวันตก
 4. ภาคตะวันออก
19. จากภาพแผนที่ นักเรียนคิดว่า เพราะเหตุใด ในบริเวณนี้จึงมีถ้ำและน้ำตกหลายแห่ง
- D
1. เพราะมีเขตรักษาพันธุ์สัตว์ป่า
 2. เพราะมีแม่น้ำไหลผ่านหลายสาย
 3. เพราะมีลักษณะภูมิประเทศเป็นป่าและภูเขา
 4. เพราะมีอาณาเขตติดต่อกับประเทศเพื่อนบ้าน

ดูภาพแผนที่ที่กำหนด แล้วตอบคำถามข้อ 20.-23.



20. จากภาพแผนที่ เป็นแผนที่แสดงภูมิภาคใดของประเทศไทย สังเกตได้จากข้อมูลใดง่ายที่สุด
1. ภาคตะวันออกเฉียงเหนือ สังเกตจากเส้นแบ่งเขตจังหวัด
 2. ภาคตะวันออกเฉียงเหนือ สังเกตจากชื่อจังหวัด
 3. ภาคเหนือ สังเกตจากชื่ออุทยานแห่งชาติ
 4. ภาคเหนือ สังเกตจากทิศในแผนที่
21. จากภาพแผนที่ สัญลักษณ์ ● ที่ปรากฏในแผนที่แสดงอะไร
1. ที่ตั้งอำเภอ
 2. ที่ตั้งจังหวัด
 3. ที่ตั้งสนามบิน
 4. ที่ตั้งเขตรักษาพันธุ์สัตว์ป่า

22. จากภาพแผนที่ ถ้านักเรียนอาศัยอยู่ในจังหวัดบุรีรัมย์ และต้องการเดินทางไปทางทิศเหนือ นักเรียนจะพบกับจังหวัดใด
1. สุรินทร์
 2. ยโสธร
 3. อุบลราชธานี
 4. มหาสารคาม
23. จากภาพแผนที่ ถ้าเราอาศัยอยู่ในกรุงเทพมหานคร และต้องการเดินทางไปจังหวัดอุบลราชธานี เราควรเดินทางด้วยวิธีใดจึงจะรวดเร็วที่สุด
1. รถยนต์
 2. รถไฟ
 3. เรือ
 4. เครื่องบิน

24.

D



ภูมิภาคหมายเลข 3 มีการปลูกพืชประเภทอ้อย ปอ มันสำปะหลังเป็นจำนวนมาก เป็นเพราะสาเหตุใด

1. เป็นพื้นที่สูง
2. เป็นพื้นที่ชุ่มน้ำ
3. เป็นพื้นที่แห้งแล้ง
4. เป็นพื้นที่ชายฝั่งทะเล

25.

D

“มีภูมิลักษณะคล้ายกับภาคเหนือตอนบน และยังมีชายฝั่งทะเลที่สวยงามเหมาะแก่การท่องเที่ยว”

จากภาพในข้อ 24. หมายเลขใดมีลักษณะตรงกับข้อความที่กำหนด และคือภาคใด

1. หมายเลข 1 ภาคกลาง
2. หมายเลข 4 ภาคตะวันออก
3. หมายเลข 5 ภาคตะวันตก
4. หมายเลข 6 ภาคใต้

26.

D

ความใกล้-ไกลทะเลมีอิทธิพลต่อลักษณะภูมิอากาศของประเทศไทย โดยภาคที่อยู่ใกล้ทะเลจะมีฝนตกชุก และมีความแตกต่างระหว่างอากาศร้อนกับอากาศหนาวไม่มาก

จากข้อความนี้ ส่งผลให้หมายเลขใดจากภาพในข้อ 24. มีฤดูกาลเพียง 2 ฤดู และคือภาคใด

1. หมายเลข 1 ภาคกลาง
2. หมายเลข 4 ภาคตะวันออก
3. หมายเลข 5 ภาคตะวันตก
4. หมายเลข 6 ภาคใต้

27.

D

จากภาพในข้อ 24. หมายเลขใดเกิดแผ่นดินไหวบ่อยครั้ง คือภาคใด เพราะอะไร

1. หมายเลข 2 ภาคเหนือ - เพราะอยู่ในบริเวณที่มีรอยเลื่อน
2. หมายเลข 1 ภาคกลาง - เพราะอยู่ในบริเวณที่มีแม่น้ำหลายสาย
3. หมายเลข 2 ภาคเหนือ - เพราะอยู่ในบริเวณที่มีภูเขาสูง
4. หมายเลข 1 ภาคกลาง - เพราะอยู่ในบริเวณที่มีที่ราบลุ่มจำนวนมาก

28.

E

“มีลักษณะทางภูมิศาสตร์เป็นแหลมยื่นยาวลงไปในทะเล” จากลักษณะทางภูมิศาสตร์แบบนี้ ส่งผลให้หมายเลขใดจากภาพในข้อ 24. น่าจะมีการประกอบอาชีพประมงน้ำเค็ม คือภาคใด และเพราะเหตุใด จึงมีการประกอบอาชีพนี้

1. หมายเลข 5 ภาคตะวันตก - เพราะมีอุปกรณืจับปลาที่ดี
2. หมายเลข 5 ภาคตะวันตก - เพราะชายฝั่งทะเลมีความอุดมสมบูรณ์
3. หมายเลข 6 ภาคใต้ - เพราะชาวประมงมีความสามารถ
4. หมายเลข 6 ภาคใต้ - เพราะมีพื้นที่ติดต่อกับทะเล

29.

D

เมื่อเวลา 14.30 น. วันที่ 16 ก.ค. 56 ได้เกิดฝนตกหนักติดต่อกันเกิน 200 มิลลิเมตรในพื้นที่ตำบลตรอกนอง อำเภอขลุง จังหวัดจันทบุรี ส่งผลให้เกิดน้ำป่าไหลหลากลงจากเทือกเขาสะระบาป เข้าท่วมบ้านเรือนเป็นวงกว้างใน 5 หมู่บ้าน

จากข่าวนี้ เกิดภัยธรรมชาติในข้อใด

1. อุทกภัย
2. วาตภัย
3. คลื่นพายุซัดฝั่ง
4. พายุฝนฟ้าคะนอง

30. จากข่าวในข้อ 29. ผู้ที่อยู่ในบริเวณนั้นไม่ควรปฏิบัติ
D อย่างไร

1. จัดหาน้ำสะอาด
2. เตรียมอาหารแห้ง
3. ขนย้ายสิ่งของหนีน้ำ
4. เตรียมอุปกรณ์เล่นน้ำ

31. ถ้านักเรียนอาศัยอยู่ในบริเวณตามข่าวในข้อ 29.
E นักเรียนจะมีวิธีปฏิบัติตนอย่างไรเมื่อเกิดเหตุการณ์
เช่นนี้

1. อพยพไปอยู่บนที่สูง
2. หลบอยู่ใต้ต้นไม้ใหญ่
3. รีบออกจากตัวบ้านหรืออาคารให้เร็วที่สุด
4. อยู่ในบ้านหรืออาคารโดยไม่ออกไปด้านนอก

32. ประเพณีและวัฒนธรรมใดที่มีความเกี่ยวข้องกับ
D สิ่งแวดล้อมมากที่สุด

1. ประเพณีบายศรีสู่ขวัญ
2. ประเพณีตัดบวบรดอกไม้
3. ประเพณีแห่เทียนพรรษา
4. ประเพณีการบูชาพญาแถน

33. “อนุชาติขึ้นนอนตั้งแต่เช้าตรู่ เขาอาบน้ำ แปรงฟัน
C ก่อนที่จะเดินทางไปทำงาน”

จากข้อความนี้ มนุษย์มีความสัมพันธ์กับ
สิ่งแวดล้อมด้านใดมากที่สุด

1. การสร้างสรรควัฒนธรรม
2. การประกอบอาชีพ
3. การตั้งถิ่นฐาน
4. การดำรงชีวิต

34. จากข้อความในข้อ 33. เมื่อมนุษย์มีจำนวน
D เพิ่มมากขึ้น ส่งผลให้สิ่งแวดล้อมนั้นมีการ
เปลี่ยนแปลงไปอย่างไร

1. มีคุณภาพลดลง
2. มีคุณภาพดีขึ้น
3. มีปริมาณลดลง
4. มีปริมาณเพิ่มขึ้น

35. จากข้อความในข้อ 33. เราจะมีแนวทางการใช้
D และการอนุรักษ์สิ่งแวดล้อมนั้นด้วยวิธีใด
จึงจะเหมาะสมที่สุด

1. การใช้สิ่งอื่นทดแทน
2. การบูรณะซ่อมแซม
3. การนำกลับมาใช้ซ้ำอีก
4. การบำบัดและการฟื้นฟู

36. “กระต่ายหูชูเป็นกระต่ายที่ผลิตจากเยื่อต้นไม้ม” จากข้อความนี้ แสดงว่าเกี่ยวข้องกับทรัพยากรประเภทใด
 D ทรัพยากรใดจัดอยู่ในประเภทเดียวกันกับทรัพยากรนี้ และมีวิธีการอย่างไรเพื่อจะใช้ทรัพยากรนี้ให้คุ้มค่า

ตารางกลุ่มคำตอบ

กลุ่มคำตอบที่ 1		กลุ่มคำตอบที่ 2		กลุ่มคำตอบที่ 3	
1.	ทรัพยากรธรรมชาติ	1.	ผู้ประกอบการ	A.	การลดปริมาณการใช้
2.	ทรัพยากรที่มนุษย์สร้างขึ้น	2.	อากาศ	B.	การใช้ซ้ำ
3.	ทรัพยากรมนุษย์	3.	โรงงาน	C.	การซ่อมแซม

37. “มีภูเขากระจายอยู่เกือบทั้งภาค มีที่ราบอยู่เพียงเล็กน้อย” จากข้อความนี้ กล่าวถึงคือภาคใด มีทิวเขาใด
 C อยู่ในภาคนี้ และผู้คนที่อาศัยในบริเวณนี้มักจะมีประเพณีใด

ตารางกลุ่มคำตอบ

กลุ่มคำตอบที่ 1		กลุ่มคำตอบที่ 2		กลุ่มคำตอบที่ 3	
1.	ภาคเหนือ	1.	ทิวเขาบรรทัด	A.	ประเพณีปอยส่างลอง
2.	ภาคกลาง	2.	ทิวเขาตะนาวศรี	B.	ประเพณีวิ่งควาย
3.	ภาคตะวันออก	3.	ทิวเขาถนนธงชัย	C.	ประเพณีบูชาแม่โพสพ

38. สึนามิเกิดขึ้นจากภัยธรรมชาติในข้อใด ภัยนี้เกิดขึ้นกับภูมิภาคลักษณะใด และบริเวณในพื้นที่ใดมีโอกาส
 D จะเกิดสึนามิ

ตารางกลุ่มคำตอบ

กลุ่มคำตอบที่ 1		กลุ่มคำตอบที่ 2		กลุ่มคำตอบที่ 3	
1.	วาทภัย	1.	ทะเล	A.	ฟิลิปปินส์
2.	แผ่นดินไหว	2.	ภูเขา	B.	สระแก้ว
3.	อุทกภัย	3.	แม่น้ำ	C.	กระบี่

39. “มาติกาและครอบครัวสร้างบ้านอยู่บริเวณเชิงเขาถนนธงชัย และประกอบอาชีพทำไร่” จากข้อความนี้ มาติกา น่าจะอยู่ในจังหวัดใด ภาคใด และในบริเวณที่มาติกาและครอบครัวอาศัยอยู่จะมีโอกาสเกิดภัยธรรมชาติในข้อใด มากที่สุด

ตารางกลุ่มคำตอบ

กลุ่มคำตอบที่ 1		กลุ่มคำตอบที่ 2		กลุ่มคำตอบที่ 3	
1.	แม่ฮ่องสอน	1.	ภาคเหนือ	A.	วาตภัย
2.	เลย	2.	ภาคตะวันออกเฉียงเหนือ	B.	ภัยแล้ง
3.	สระบุรี	3.	ภาคกลาง	C.	ดินถล่ม

40. D



จากภาพที่กำหนด เกี่ยวข้องกับทรัพยากรธรรมชาติชนิดใด น่าจะเกิดผลกระทบในข้อใดเป็นอันดับแรกจากการทำลายทรัพยากรธรรมชาติชนิดนี้ และควรมีวิธีอนุรักษ์ทรัพยากรนี้อย่างไรจึงจะเหมาะสมที่สุด

ตารางกลุ่มคำตอบ

กลุ่มคำตอบที่ 1		กลุ่มคำตอบที่ 2		กลุ่มคำตอบที่ 3	
1.	ป่าไม้	1.	หน้าดินพังทลาย	A.	ปลุกทดแทน
2.	ดิน	2.	ภาวะโลกร้อน	B.	ใส่ปุ๋ยพืชสด
3.	น้ำ	3.	พืชและสัตว์ป่ามีจำนวนลดลง	C.	ไม่ทิ้งขยะ



1. จากภาพ เกี่ยวข้องกับปัญหาในเรื่องใด

D

.....

2. ปัญหาในภาพ มีสาเหตุมาจากอะไร

D

.....

3. ปัญหาในภาพ ส่งผลเสียต่อมนุษย์อย่างไร

D

.....

4. นักเรียนจะมีวิธีแก้ปัญหานั้นภาพอย่างไร

D

.....

5. มีทรัพยากรธรรมชาติและสิ่งแวดล้อมใดบ้างที่ได้รับผลกระทบจากปัญหาในภาพ เพราะอะไร

D

.....

.....

ชั้นประถมศึกษาปีที่ 6

ชุดที่ 2

ชื่อ นามสกุล

เลขประจำตัวสอบ โรงเรียน

สอบวันที่ เดือน พ.ศ.

โครงการวัดและประเมินผล บริษัท อักษรเจริญทัศน์ อจท. จำกัด

ตอนที่ 1 ส่วนที่ 1 : แบบทดสอบฉบับนี้มีทั้งหมด 35 ข้อ 35 คะแนน
ให้นักเรียนเลือกคำตอบที่ถูกต้องที่สุดเพียงข้อเดียว

คะแนนที่ได้

คะแนนเต็ม

35

1. F ที่เป็นเจ้าของผลิตภัณฑ์มันฝรั่งแผ่นทอดกรอบ ยี่ห้อกรอบอร่อย ที่เลือกซื้อมันฝรั่งที่มีคุณภาพ มาผลิตเป็นขนมของเขา

จากข้อความนี้ นักเรียนคิดว่าที่ทำเหมาะสมหรือไม่ เพราะอะไร

1. เหมาะสม เพราะใช้วัตถุดิบที่มีคุณภาพ
2. เหมาะสม เพราะทำให้ตั้งราคาขายขนมสูงได้
3. ไม่เหมาะสม เพราะผลิตขนมที่ไม่มีประโยชน์
4. ไม่เหมาะสม เพราะทำให้ขนมมีราคาสูง

2. F รัตมีทำขนมขายเป็นจำนวนมาก ประมาณ 500 ห่อต่อวัน ในการทำขนมจำนวนมากนี้ จะต้องใส่สารกันบูดจำนวนมากลงไป ในขนม เพื่อให้ขนมอยู่ได้นาน เพราะกว่าที่ขนม จะไปถึงผู้บริโภคใช้เวลาขนส่งหลายวัน

จากข้อความนี้ รัตมีทำเหมาะสมหรือไม่ เพราะอะไร

1. เหมาะสม เพราะป้องกันขนมเน่าเสีย
2. เหมาะสม เพราะขายขนมปริมาณมากทำให้ ได้เงินมาก
3. ไม่เหมาะสม เพราะถ้าใส่สารกันบูดมากเกินไป จะเป็นอันตรายต่อผู้บริโภค
4. ไม่เหมาะสม เพราะควรใส่สารเนื้อแดงแทนเพื่อ จูงใจผู้บริโภค

3. D จากข้อความในข้อ 2. ผู้ผลิตปฏิบัติไม่เหมาะสม ในด้านใดมากที่สุด

1. ไม่คำนึงถึงสิ่งแวดล้อม
2. ไม่ซื้อตรงซื้อสัต์ต่อผู้บริโภค
3. ขาดจิตสำนึกที่ดีในการผลิตสินค้าและบริการ
4. ไม่มีการวางแผนก่อนเริ่มลงมือทำกิจกรรมทาง เศรษฐกิจ

4. F • วันเป็นเจ้าของโรงงานตัดเย็บเสื้อผ้า ในการ ผลิตจะมีน้ำที่เหลือจากกระบวนการผลิต วันจะปล่อยลงแม่น้ำทันที

• ฟางอยากจะทำเค้กขาย จึงสำรวจก่อนว่าในย่าน ที่ขายนั้นคนนิยมรับประทานเค้กแบบไหน

• ผึ้งเป็นแม่ค้าขายผลไม้ เมื่อมีลูกค้ามาซื้อ เธอจะชั่งสินค้าพร้อมตะกร้าผลไม้เสมอ

• ดาวนำสมุดที่ยังไม่ได้ใช้ มาผลิตเป็นตุ๊กตา กระดาษเพื่อจำหน่าย

จากข้อมูล ใครเป็นผู้ผลิตที่มีความรับผิดชอบ มากที่สุด เพราะอะไร

1. วัน เพราะรีบะบายน้ำออกจากโรงงานโดยเร็ว
2. ฟาง เพราะมีการวางแผนก่อนเริ่มลงมือขายจริง
3. ผึ้ง เพราะทำให้ได้กำไรเพิ่มมากขึ้น
4. ดาว เพราะนำวัสดุที่มีคุณภาพมาใช้

ความรู้ ความจำ	ความเข้าใจ	การนำไปใช้	การวิเคราะห์	การสังเคราะห์	การประเมินค่า
A	B	C	D	E	F

5. จากคำตอบในข้อ 4. การกระทำของผู้ผลิตที่มีความรับผิดชอบต่อส่งผลดีต่อผู้บริโภคอย่างไร

D

1. ทำให้ผู้บริโภคได้รับความปลอดภัยในชีวิต
2. ทำให้ผู้บริโภคได้สินค้าที่ตรงตามความต้องการ
3. ทำให้ผู้บริโภคได้สินค้าที่ดี คุ่มค่ากับเงินที่จ่ายไป
4. ทำให้ผู้บริโภคเกิดความมั่นใจและเชื่อถือในคุณภาพของสินค้า

6. ก้อยได้รับเงินเดือน 15,000 บาท ก้อยแบ่งเงินไปใช้จ่ายส่วนตัว 5,000 บาท อีก 10,000 บาท ก้อยนำไปซื้อเสื้อผ้า กระเป๋า และรองเท้าจนหมด

F

จากข้อความนี้ ก้อยปฏิบัติได้เหมาะสมหรือไม่ เพราะอะไร

1. เหมาะสม เพราะแบ่งเงินไว้ใช้จ่ายส่วนตัวแล้ว
2. เหมาะสม เพราะเงินเป็นของก้อย ก้อยสามารถนำไปใช้อย่างไรก็ได้
3. ไม่เหมาะสม เพราะควรแบ่งเงินบางส่วนไว้เก็บออม
4. ไม่เหมาะสม เพราะควรนำเงินไปซื้ออย่างอื่นด้วย เช่น เครื่องประดับ

7. มีนาได้ยีนโฆษณาจากวิทยุว่า น้ำดื่มดีดีดีดื่มแล้วผิวใส สวย เพราะมีอนุภาคนาโน ซึมเข้าสู่ผิวได้ง่าย อีกทั้งยังอุดมไปด้วยวิตามิน A-Z ช่วยบำรุงสายตาและสมอง

E

จากข้อความนี้ ถ้านักเรียนเป็นมีนา นักเรียนจะปฏิบัติอย่างไร เพราะอะไร

1. รีบไปซื้อทันที เพราะเป็นน้ำดื่มที่ดีมีประโยชน์
2. ลองถามเพื่อนก่อน เพราะเพื่อนอาจจะเคยดื่ม
3. ตรวจสอบข้อมูลก่อนซื้อ เพราะมีการอวดอ้างสรรพคุณไว้หลายอย่าง
4. ไปแจ้งความไว้ที่สถานีตำรวจ เพื่อความปลอดภัยก่อนดื่ม

8.

F

อรซื้อยาสระผมจากร้านค้า ก ราคา 25 บาท เพราะอยู่ใกล้บ้าน กบเสียค่ารถโดยสาร 5 บาท เพื่อเดินทางไปซื้อยาสระผมจากร้าน ข ราคา 20 บาท

จากข้อความนี้ นักเรียนจะปฏิบัติตามใคร เพราะอะไร

1. อร เพราะไม่เสียเวลาเดินทาง
2. อร เพราะได้สินค้าที่มีคุณภาพ
3. กบ เพราะได้สินค้าที่มีราคาถูก
4. กบ เพราะได้นั่งรถออกไปข้างนอก

9. ต่อยอ่านข้อมูลเกี่ยวกับทรัพยากร แล้วจัดกลุ่มออกเป็น 2 ประเภท ดังนี้

D

กลุ่ม 1	แสงอาทิตย์ ดิน น้ำมันปิโตรเลียม
กลุ่ม 2	ไขควง โรงงาน เครื่องจักร

จากข้อมูล ต่อยใช้หลักเกณฑ์ใดในการจัดกลุ่ม

1. กลุ่ม 1 เป็นทรัพยากรที่ใช้แล้วไม่หมด
2. กลุ่ม 2 เป็นทรัพยากรที่ใช้แล้วหมดไป
3. กลุ่ม 1 เป็นทรัพยากรธรรมชาติ
4. กลุ่ม 2 เป็นทรัพยากรมนุษย์

10.

D

กล้าต้องการเปิดโรงงานเงาะกระป๋อง จึงกำหนดปัจจัยการผลิตสินค้าขึ้นมา 4 อย่าง ได้แก่ โรงงาน เครื่องจักรที่ใช้ในการผลิต พนักงานในโรงงาน และเงินเดือนพนักงาน

จากข้อความนี้ แสดงว่ากล้ากำหนดปัจจัยการผลิตบ้าง

1. ที่ดิน
2. ทุน แรงงาน
3. ที่ดิน ผู้ประกอบการ
4. แรงงาน ที่ดิน ทุน

อ่านข้อมูลที่กำหนด แล้วตอบคำถามข้อ 11.-13.

- จับซื้อขนมจากร้านค้าและถือถุงขนมกลับบ้านโดยไม่ใส่ถุงพลาสติก
- จับนำเสื้อผ้าที่ไม่ใช้แล้วมาเย็บเป็นผ้าเช็ดเท้า
- จำซื้อกล้วยทอดที่ใส่ในถุงกระดาษที่พับจากหนังสือพิมพ์มารับประทาน
- จ้อยซื้อกระจกที่ผลิตมาจากทราย
- จอมใช้โปรแกรมกราฟิกออกแบบโลโก้ของสินค้า

11. จากข้อมูล ใครปฏิบัติตนได้ตรงกับการลดปริมาณการใช้

- D
1. จับ
 2. จีบ
 3. จ้อย
 4. จอม

12. จากข้อมูล ใครปฏิบัติตนได้ตรงกับการใช้ซ้ำ

- D
1. จับ
 2. จีบ
 3. จำ
 4. จ้อย

13. จากข้อมูล จำปฏิบัติได้ถูกต้องหรือไม่ เพราะอะไร

- F
1. ถูกต้อง เพราะซื้อสินค้าที่ใส่ในถุงกระดาษ
 2. ถูกต้อง เพราะช่วยลดการสิ้นเปลืองทรัพยากร
 3. ไม่ถูกต้อง เพราะกระดาษหนังสือพิมพ์ไม่ปลอดภัยที่จะนำมาใส่อาหารที่ทอดร้อนๆ
 4. ไม่ถูกต้อง เพราะการรับประทานอาหารที่ทอดด้วยน้ำมันจะทำให้เป็นโรคอ้วน

14. อีรวมกลุ่มกับเพื่อนจัดอบรมความรู้เกี่ยวกับ การอนุรักษ์ทรัพยากรธรรมชาติให้คนในชุมชน

จากข้อความนี้ นักเรียนเห็นด้วยกับการกระทำของอีหรือไม่ เพราะอะไร

1. เห็นด้วย เพราะช่วยให้คนในชุมชนได้เข้าใจวิธีการอนุรักษ์ทรัพยากร
2. เห็นด้วย เพราะช่วยให้คนในชุมชนใช้ประโยชน์จากทรัพยากรได้อย่างสูงสุด
3. ไม่เห็นด้วย เพราะควรจัดอบรมวิธีการอนุรักษ์ควบคู่ไปกับการซ่อมแซมสิ่งของต่างๆ
4. ไม่เห็นด้วย เพราะควรมีการจัดอบรมความรู้เกี่ยวกับเรื่องนี้ให้กับคนทุกคนในประเทศ

15. ข้อใดกล่าวถึงหน่วยธุรกิจเพียงหน่วยเดียว

- D
1. ร้านหนังสือกึ่งเงินจากธนาคารเพื่อมาขยายร้าน
 2. พนักงานร้านขายเสื้อผ้าจ่ายภาษีให้รัฐบาลทุกปี
 3. หัวหน้าครอบครัวดูแลภรรยาและลูกเป็นอย่างดี
 4. ห้างสรรพสินค้าแห่งนี้ขายสินค้าหลายชนิด

16. “จรรุวรรณเป็นเจ้าของกิจการกระเป๋าผ้าทำมือ เธอส่งออกกระเป๋าผ้าไปขายยังประเทศอังกฤษ” จากข้อความนี้ จรรุวรรณต้องเสียภาษีประเภทใด

- C
1. ภาษีศุลกากร - กรมศุลกากร
 2. ภาษีศุลกากร - กรมสรรพากร
 3. ภาษีสรรพสามิต - กรมศุลกากร
 4. ภาษีสรรพสามิต - กรมสรรพากร

17. หวายอ่านข้อมูลเกี่ยวกับภาษี แล้วจัดกลุ่มออกเป็น 2 ประเภท ดังนี้

กลุ่ม 1	เงินเดือนข้าราชการ ห้างหุ้นส่วน การรับมรดก
กลุ่ม 2	การซื้อสินค้า ขายบุหรี่ยานพาหนะนำเข้าสินค้าจากต่างประเทศ

จากข้อมูลนี้ หวายใช้หลักเกณฑ์ใดในการจัดกลุ่ม

1. กลุ่ม 1 เป็นภาษีเงินได้นิติบุคคล
2. กลุ่ม 2 เป็นภาษีสรรพสามิต
3. กลุ่ม 1 เป็นภาษีศุลกากร
4. กลุ่ม 2 เป็นภาษีทางอ้อม

18. หมวยทำน้ำพริกบรรจุกระปุกขายและติดฉลาก ซึ่งมีรายละเอียดของน้ำพริกปรากฏอยู่ เช่น ชื่ออาหาร ปริมาณ ที่ตั้งผู้ผลิต วัน เดือน ปีที่ผลิต วันหมดอายุ

จากข้อความนี้ แสดงว่าหมวยปฏิบัติได้สอดคล้องกับสิทธิของผู้บริโภคในข้อใด

1. สิทธิที่จะได้รับการพิจารณาและชดเชยความเสียหาย
2. สิทธิที่จะได้รับข่าวสาร รวมทั้งคำพรรณนาคุณภาพ
3. สิทธิที่จะได้รับความปลอดภัยจากการใช้สินค้า
4. สิทธิที่จะมีอิสระในการเลือกหาสินค้า

19.
F

แก้วเป็นเจ้าของบริษัทส่งออกสินค้าประเภทอาหารแช่แข็งแห่งหนึ่ง เธอกำหนดให้ลูกจ้างทำงาน 8 ชั่วโมง/วัน ให้ลูกจ้างพักได้ในช่วงกลางวัน 1 ชั่วโมง/วัน และให้ลูกจ้างที่ทำงานครบ 1 ปี หยุดพักผ่อนได้ 3 วัน

จากข้อความนี้ แก้วทำตัวเป็นนายจ้างที่เหมาะสมหรือไม่ เพราะอะไร

1. เหมาะสม เพราะปฏิบัติตามกฎหมายแรงงาน
2. เหมาะสม เพราะกำหนดเวลาทำงานและวันพักผ่อนไว้ชัดเจน
3. ไม่เหมาะสม เพราะไม่ปฏิบัติตามสิทธิของผู้ใช้แรงงาน
4. ไม่เหมาะสม เพราะควรให้ลูกจ้างพักในวันทำงานได้ 2 ชั่วโมง/วัน

20.
D

นายจ้างคนใดปฏิบัติตนไม่ถูกต้อง ตามกฎหมายแรงงาน

1. พิกให้ลูกจ้างหยุดพักผ่อนปีละ 15 วัน
2. พายให้ลูกจ้างพักกลางวัน 1.5 ชั่วโมง
3. พิกให้ลูกจ้างทำงานสัปดาห์ละ 48 ชั่วโมง
4. พริงให้ลูกจ้างหยุดตามวันหยุดประเพณีปีละ 12 วัน

21.
E

ชานนท์เป็นเจ้าของโรงงานผลิตเหล็กเส้น เขาเปิดรับสมัครพนักงาน มีเด็กคนหนึ่งอายุ 13 ปี มาขอสมัครงาน และบอกว่าจำเป็นต้องทำงาน เพราะต้องหาเงินไปเป็นค่ารักษาแม่ที่ป่วยหนัก เนื่องจากเป็นโรคมะเร็งลำไส้ระยะสุดท้าย

จากข้อความนี้ ชานนท์ควรรับเด็กคนนั้นทำงานหรือไม่ เพราะอะไร

1. รับ เพราะสงสาร
2. รับ เพราะต้องการแรงงาน
3. ไม่รับ เพราะผิดกฎหมายแรงงาน
4. ไม่รับ เพราะต้องจ่ายค่าจ้างสูงเนื่องจากเป็นเด็ก

อ่านข้อมูลที่กำหนด แล้วตอบคำถามข้อ 22.-23.

หมู่บ้านห้วยสาธิตเป็นหมู่บ้านที่คนในชุมชนประกอบอาชีพเกษตรกรรมเป็นส่วนใหญ่ มีการปลูกพืชชนิดเดียวกัน ทำให้ผลผลิตที่ได้ออกมาพร้อมกัน ราคาผลผลิตจึงตกต่ำ จนบางครั้งผลผลิตเน่าเสีย

ดังนั้นคนในชุมชนจึงมีความคิดที่จะแปรรูปผลผลิตทางการเกษตร โดยต่อมาได้จัดตั้งกลุ่มแม่บ้านเยาวชนหมู่บ้านห้วยสาธิตขึ้น และศึกษาหาความรู้ด้านการแปรรูปผลผลิตกล้วยเป็นกล้วยฉาบโบราณ กล้วยเส้น กล้วยม้วน กล้วยกรอบเค็ม ขนุนเค็มและเผือกเค็ม จนพัฒนาแบบการแปรรูปกล้วยและแปรรูปพืชชนิดอื่นให้มีหลากหลายรสชาติ จนเป็นที่นิยมของตลาด

22.
D

จากข้อมูล มีใจความสำคัญเกี่ยวกับเรื่องอะไรมากที่สุด

1. การจัดตั้งกลุ่มแปรรูปผลผลิตทางการเกษตร
2. วิธีการแปรรูปผลผลิตทางการเกษตร
3. ปัญหาผลผลิตทางการเกษตรตกต่ำ
4. การประกอบอาชีพในชุมชน

23.
D

จากข้อมูล ปัญหาที่ชาวหมู่บ้านห้วยสาธิตประสบคืออะไร

1. การปลูกพืชชนิดเดียวกัน ทำให้ราคาตกต่ำ
2. การขาดความรู้ในการปรับปรุงผลผลิต
3. การขอเงินทุนจากทางราชการ
4. การพัฒนารูปแบบสินค้าใหม่

24.
C



จากภาพแผนที่ที่กำหนด ไม่ปรากฏข้อมูลใด

1. แนวภูเขา
2. แหล่งน้ำ
3. อาณาเขตจังหวัด
4. อาณาเขตประเทศ

25. จากภาพแผนที่ในข้อ 24. ข้อมูลใด **ไม่ถูกต้อง**
C

1. แม่น้ำท่าจีนไหลลงสู่อ่าวไทย
2. ภูเขาขุนตาลอยู่ระหว่างแม่น้ำยมกับแม่น้ำปิง
3. ภูเขาสัณกาลาศีร์อยู่ทางตอนใต้ของประเทศไทย
4. แม่น้ำสงครามอยู่ทางตอนบนของภาคตะวันออกเฉียงเหนือ

26. จากภาพแผนที่ในข้อ 24. ถ้านักเรียนต้องการเดินทาง
C ไปท่องเที่ยวบริเวณใกล้กับแม่น้ำตาปี จะต้องเดินทางไปในภูมิภาคใด

1. ภาคใต้
2. ภาคเหนือ
3. ภาคตะวันออก
4. ภาคตะวันออกเฉียงเหนือ

27.
D



จากภาพที่กำหนด ถ้านักเรียนต้องการเดินทางไป
ท่องเที่ยวสถานที่คล้ายกับในภาพ ควรเดินทางไป
จังหวัดใด เพราะอะไร

1. กาญจนบุรี เพราะมีธรรมชาติที่สวยงาม
2. สมุทรปราการ เพราะอยู่ใกล้กับอ่าวไทย
3. ฉะเชิงเทรา เพราะมีอาณาเขตติดต่อกับทะเล
4. สตูล เพราะอยู่ทางภาคใต้ที่ติดกับทะเลอันดามัน

28. จากภาพในข้อ 27. ลักษณะภูมิประเทศแบบในภาพ
D ส่งผลกระทบต่อผู้ที่อาศัยอยู่ในบริเวณนั้นอย่างไร

1. ทำให้ย้ายถิ่นฐานไปยังบริเวณที่มีทรัพยากรอุดมสมบูรณ์กว่า
2. ทำให้หันมาประกอบอาชีพด้านการท่องเที่ยวมากขึ้น
3. ทำให้ประกอบอาชีพประมงเพียงอย่างเดียว
4. ทำให้ต้องเผชิญกับภัยธรรมชาติหลายอย่าง

29.
D

มรสุมตะวันตกเฉียงใต้ที่พัดปกคลุมบริเวณทะเลอันดามัน ประเทศไทย และอ่าวไทย มีกำลังค่อนข้างแรง ทำให้บริเวณอ่าวไทยตอนบน และทะเลอันดามันจะมีคลื่นสูงประมาณ 2 เมตร

จากข้อมูลนี้ ถ้าต้องการไปเที่ยวทะเล ไม่ควรไป
ท่องเที่ยวในจังหวัดใด

1. พังงา
2. พัทลุง
3. สงขลา
4. นราธิวาส

30.

D

รู้จะไปท่องเที่ยวที่จังหวัดหนึ่งช่วงกลางเดือนมกราคม และพบกับลักษณะอากาศค่อนข้างร้อน จึงต้องสวมใส่เสื้อผ้าที่โปร่ง ระบายอากาศ

จากข้อมูลนี้ แสดงว่ารู้จะไปเที่ยวที่ภาคใด เพราะอะไร

1. ภาคใต้ เพราะช่วงต้นปีที่ภาคใต้จะเป็นหน้าร้อน
2. ภาคเหนือ เพราะที่สูงจะอยู่ใกล้กับดวงอาทิตย์ จึงทำให้ร้อน
3. ภาคกลาง เพราะได้รับอิทธิพลจากความกดอากาศจึงทำให้ร้อน
4. ภาคตะวันออกเฉียงเหนือ เพราะลมมรสุมเขตร้อนพัดเข้ามา อากาศจึงร้อน

31.

D

หมอกควันในภาคเหนือของประเทศไทย เป็นปัญหามลพิษที่เกิดขึ้นเป็นประจำทุกปี สาเหตุหลักเกิดจากไฟป่า ประกอบกับสภาพภูมิประเทศที่มีภูเขาล้อมรอบ ทำให้ฝุ่นละอองและควันถูกกักไว้และแผ่ปกคลุมไปทั่ว

จากข้อมูลนี้ ส่งผลให้เกิดปัญหาใดต่อประชาชนในภาคเหนือมากที่สุด

1. ป่วยเป็นโรคทางผิวหนังมากขึ้น
2. ขาดแคลนอากาศหายใจและตายในทันที
3. ป่วยเป็นโรคระบบทางเดินหายใจมากขึ้น
4. ขาดแคลนแหล่งน้ำสะอาด เพราะฝุ่นละอองปนเปื้อนในน้ำ

32. ตีктаอ่านข้อมูลเกี่ยวกับการเปลี่ยนแปลงสภาพธรรมชาติ แล้วจัดกลุ่มออกเป็น 2 ประเภท ดังนี้

D

กลุ่ม 1	ละลุ ดินดอนสามเหลี่ยมปากแม่น้ำ แผ่นดินไหว
กลุ่ม 2	นาขั้นบันได เขื่อน คลองขุด

จากข้อมูลนี้ ตีктаใช้หลักเกณฑ์ใดในการจัดกลุ่ม

1. กลุ่ม 1 เป็นการเปลี่ยนแปลงที่เกิดจากธรรมชาติ
2. กลุ่ม 2 เป็นการเปลี่ยนแปลงที่เกิดจากภัยธรรมชาติ
3. กลุ่ม 1 เป็นการเปลี่ยนแปลงที่เกิดจากการกระทำของมนุษย์
4. กลุ่ม 2 เป็นการเปลี่ยนแปลงที่เกิดจากวัฒนธรรม

33. ใครใช้ทรัพยากรอย่างประหยัด

D

1. ตักใช้ไฟฟ้าจากแผงโซลาร์เซลล์
2. ตักปิดไฟเมื่อไม่ใช้
3. ตักปลูกป่าชายเลน
4. โตทำแนวป้องกันไฟ

34.

F



ในอีก 20 ปีข้างหน้า ถ้ามนุษย์มีการใช้สิ่งแวดล้อมในภาพอย่างไม่เหมาะสม สิ่งแวดล้อมในภาพอาจหมดไป เราควรปฏิบัติอย่างไร จึงจะเหมาะสมที่สุด

1. ไม่ใช้เลย
2. ปลูกทดแทน
3. ใช้วัสดุอื่นแทน
4. ปรับเป็นพื้นที่เกษตรกรรม

35.

E

“ดูสิ น้ำในหนองแห้งขอดเลย” ออมพูด
“นั่นสิ ปลาสักตัวก็ไม่เหลือแล้ว” ป๋วยพูด
“ฝนก็แล้งมาหลายปีแล้ว นาก็ขาดน้ำ ต่อไปเราจะทำยังไงกันดี” ออมพูด

จากบทสนทนา นี้ น่าจะเกิดเหตุการณ์ใดตามมามากที่สุด

1. การย้ายถิ่นที่อยู่
2. การชุดบ่อเลี้ยงปลา
3. การรวมตัวกันชุมนุมประท้วง
4. การร้องเรียนต่อหน่วยงานของรัฐ

36. “ดาริกาเป็นพนักงานบริษัท เเธนำเงินเดือนที่ได้แบ่งออกเป็น 4 ส่วน นำเงิน 1 ส่วนไปฝากธนาคาร นำเงินอีก 1 ส่วนไว้ใช้จ่ายในชีวิตประจำวัน อีก 2 ส่วนที่เหลือนำไปผ่อนชำระบัตรเครดิต และซื้อสินค้าที่อยากได้จากห้างสรรพสินค้า” จากข้อความนี้ ดาริกาจะต้องเสียภาษีประเภทใดจากการเป็นพนักงานบริษัท การซื้อสินค้าในห้างสรรพสินค้าดาริกาจะต้องเสียภาษีประเภทใด และดาริกาจัดเป็นหน่วยทางเศรษฐกิจหน่วยใด

ตารางกลุ่มคำตอบ

กลุ่มคำตอบที่ 1		กลุ่มคำตอบที่ 2		กลุ่มคำตอบที่ 3	
1.	ภาษีเงินได้บุคคลธรรมดา	1.	ภาษีศุลกากร	A.	หน่วยธุรกิจ
2.	ภาษีทรัพย์สิน	2.	ภาษีมูลค่าเพิ่ม	B.	หน่วยรัฐบาล
3.	ภาษีสรรพสามิต	3.	ภาษีเงินได้นิติบุคคล	C.	หน่วยครัวเรือน

ดูภาพที่กำหนด แล้วตอบคำถามข้อ 37.-39.



37. ภูมิภาคหมายเลข 1 คือภูมิภาคใด มีทิวเขาใดตั้งอยู่ทางด้านตะวันออกของภูมิภาค และมีแม่น้ำสายใดไหลผ่าน

ตารางกลุ่มคำตอบ

กลุ่มคำตอบที่ 1		กลุ่มคำตอบที่ 2		กลุ่มคำตอบที่ 3	
1.	ภาคเหนือ	1.	ทิวเขาพนมดงรัก	A.	แม่น้ำยม
2.	ภาคกลาง	2.	ทิวเขาหลวงพระบาง	B.	แม่น้ำประแสร์
3.	ภาคตะวันออกเฉียงเหนือ	3.	ทิวเขาเพชรบูรณ์	C.	แม่น้ำแควใหญ่
4.	ภาคตะวันออก	4.	ทิวเขาบรรทัด	D.	แม่น้ำท่าจีน
5.	ภาคตะวันตก	5.	ทิวเขาสันกาลาศีรี	E.	แม่น้ำโก-ลก
6.	ภาคใต้	6.	ทิวเขาตะนาวศรี	F.	แม่น้ำสงคราม

38. ภูมิภาคหมายเลข 2 คือภูมิภาคใด มีทิวเขาใดตั้งอยู่ในภูมิภาค และมีแม่น้ำสายใดไหลผ่าน

D

ตารางกลุ่มคำตอบ

กลุ่มคำตอบที่ 1		กลุ่มคำตอบที่ 2		กลุ่มคำตอบที่ 3	
1.	ภาคเหนือ	1.	ทิวเขาพนมดงรัก	A.	แม่น้ำยม
2.	ภาคกลาง	2.	ทิวเขาหลวงพระบาง	B.	แม่น้ำประแสร์
3.	ภาคตะวันออกเฉียงเหนือ	3.	ทิวเขาเพชรบูรณ์	C.	แม่น้ำแควใหญ่
4.	ภาคตะวันออก	4.	ทิวเขาบรรทัด	D.	แม่น้ำท่าจีน
5.	ภาคตะวันตก	5.	ทิวเขาสันกาลาคีรี	E.	แม่น้ำโก-ลก
6.	ภาคใต้	6.	ทิวเขาตะนาวศรี	F.	แม่น้ำสงคราม

39. ภูมิภาคใดที่มีพื้นที่ติดต่อกับประเทศมาเลเซีย มีทิวเขาใดเป็นแนวเส้นเขตแดน และแม่น้ำที่เกี่ยวข้องกับทิวเขาแห่งนี้คือแม่น้ำสายใด

D

ตารางกลุ่มคำตอบ

กลุ่มคำตอบที่ 1		กลุ่มคำตอบที่ 2		กลุ่มคำตอบที่ 3	
1.	ภาคเหนือ	1.	ทิวเขาพนมดงรัก	A.	แม่น้ำยม
2.	ภาคกลาง	2.	ทิวเขาหลวงพระบาง	B.	แม่น้ำประแสร์
3.	ภาคตะวันออกเฉียงเหนือ	3.	ทิวเขาเพชรบูรณ์	C.	แม่น้ำแควใหญ่
4.	ภาคตะวันออก	4.	ทิวเขาบรรทัด	D.	แม่น้ำท่าจีน
5.	ภาคตะวันตก	5.	ทิวเขาสันกาลาคีรี	E.	แม่น้ำโก-ลก
6.	ภาคใต้	6.	ทิวเขาตะนาวศรี	F.	แม่น้ำสงคราม

40. “ทับทิมทำไร่อยู่ใกล้กับทุ่งกุลาร้องไห้ เธออาศัยอยู่กับพ่อ แม่ และน้องชาย” จากข้อความนี้ ทับทิมอาศัยอยู่ในจังหวัดใด ภาคใด ในบริเวณที่ทับทิมและครอบครัวอาศัยอยู่มีโอกาสเกิดภัยธรรมชาติในข้อใดมากที่สุด

D

ตารางกลุ่มคำตอบ

กลุ่มคำตอบที่ 1		กลุ่มคำตอบที่ 2		กลุ่มคำตอบที่ 3	
1.	ร้อยเอ็ด	1.	ภาคเหนือ	A.	ภัยแล้ง
2.	ราชบุรี	2.	ภาคตะวันตก	B.	ไฟป่า
3.	อุตรดิตถ์	3.	ภาคตะวันออกเฉียงเหนือ	C.	แผ่นดินถล่ม

นับวันปัญหาของผู้บริโภคมีแนวโน้มเพิ่มสูงขึ้น มีความสลับซับซ้อนของปัญหาหลายระดับ ไม่ว่าจะเป็นความแตกต่างระหว่างผู้บริโภคในเมืองหรือตามชนบท และระหว่างผู้ผลิตกับผู้บริโภค ซึ่งมีศักยภาพต่างกัน โดยผู้ผลิตสามารถสร้างเงื่อนไขอยู่เหนือผู้บริโภคได้ตลอดเวลา แต่ในขณะเดียวกันผู้บริโภคยังแยกกันอยู่อย่างกระจัดกระจาย ขาดการรวมกลุ่มกันเป็นพลังในการร้องเรียน เพื่อแก้ไขปัญหาทั้งระดับส่วนตัวและส่วนรวมอย่างเข้มแข็ง ตลอดจนมิได้ทำหน้าที่ให้ความเห็นในด้านกรรการร้องเรียนเพื่อแก้ไขปัญหาแต่อย่างใด

ผู้บริโภคที่ดีควรสร้างทัศนคติใหม่ทางสังคมให้เห็นคุณค่าของสิทธิที่ตนมีอยู่ ให้ตระหนักรู้ว่าทุกคน คือผู้บริโภคที่รู้จักพิทักษ์สิทธิของตนเอง ไม่เอาเปรียบผู้อื่น และร่วมกันพิทักษ์สิทธิของผู้อื่นในการซื้อสินค้าหรือบริการ แม้จะได้รับความคุ้มครองอันพึงมีตามกฎหมาย แต่เพื่อรักษาไว้ซึ่งสิทธิประโยชน์ของผู้บริโภค ผู้บริโภคยังมีหน้าที่อันพึงปฏิบัติด้วย เช่น

- ตรวจสอบหรือตกลงราคาก่อนใช้บริการทุกครั้ง หากไม่มีป้ายราคาควรสอบถามราคาให้ชัดเจนก่อน
- เปรียบเทียบราคา ปริมาณของสินค้าชนิดเดียวกันหลายๆ ยี่ห้อก่อนตัดสินใจซื้อ
- ตรวจสอบข้อมูลบนฉลากสินค้าทุกครั้ง และสินค้าบางประเภทควรมีเครื่องหมายรับรองอย่างถูกต้อง
- ตรวจสอบสินค้าให้ตรงตามใบเสร็จทุกครั้งก่อนชำระเงิน
- สังเกตข้อมูลวันผลิต วันหมดอายุ สำหรับสินค้าบางประเภท
- ควรซื้อสินค้าจากร้านประจำที่ไว้ใจได้
- อย่าห่วงการโปรโมชัน ในเรื่องลด แลก แจก แถม จนลืมประโยชน์ที่แท้จริง
- เปรียบเทียบอายุการใช้งาน ดูที่การประหยัดพลังงานและไม่ทำลายสิ่งแวดล้อม
- สอบถามตัวเองทุกครั้งว่าสินค้าที่กำลังจะซื้อ ถูกใจ และมีความจำเป็นต่อชีวิตหรือไม่

แหล่งที่มา : กรมการค้าภายใน กระทรวงพาณิชย์

1. จากข้อมูลนี้ มีใจความสำคัญเกี่ยวกับเรื่องใด

D

2. จากข้อมูลนี้ เพราะเหตุใดผู้บริโภคจึงควรรู้จักพิทักษ์สิทธิของตนเอง

D

3. จากข้อความ “ผู้บริโภคที่ดีควรสร้างทัศนคติใหม่ทางสังคม” นักเรียนเห็นตรงกับข้อความนี้หรือไม่ เพราะอะไร

F

4. ในฐานะที่นักเรียนเป็นผู้บริโภค ควรปฏิบัติตนอย่างไรจึงจะถือว่าเป็นผู้บริโภคที่ดี

D

5. จากข้อความ “ควรซื้อสินค้าจากร้านประจำที่ไว้ใจได้” ถ้านักเรียนไม่มีร้านค้าประจำ นักเรียนจะอย่างไร

E

ตอนที่ 1

1. **ตอบ ข้อ 1.** เพราะในปัจจุบันประชากรมีจำนวนเพิ่มมากขึ้น ทำให้ความต้องการด้านต่างๆ เพิ่มมากขึ้นตามไปด้วย จึงต้องมีการผลิตสินค้าและบริการเพิ่มเป็นจำนวนมากเพื่อให้เพียงพอต่อความต้องการของมนุษย์ ซึ่งทรัพยากรต่างๆ ที่นำมาใช้ในการผลิตสินค้าและบริการมีจำนวนลดลงส่งผลให้เกิดการขาดแคลนทรัพยากรที่นำมาใช้ในการผลิต
2. **ตอบ ข้อ 4.** เพราะชิ้นส่วนของปลาเมื่อมีการย่อยสลายจะเกิดกลิ่นเหม็น ถ้าฝังกลบไม่ถูกสุขลักษณะจะเป็นแหล่งแพร่กระจายของเชื้อโรค อีกทั้งการที่ต้อนนำไปฝังกลบใกล้กับแหล่งชุมชนก็จะส่งผลให้มีกลิ่นเหม็นรบกวนผู้ที่อยู่อาศัยในบริเวณใกล้กับหลุมฝังกลบ
3. **ตอบ ข้อ 1.** เพราะเมื่อผลผลิตกล้วยมีจำนวนมากจนขายไม่ทัน ควรนำกล้วยที่เหลือส่งขายต่อยังตลาดอื่นๆ หรืออาจนำมาแปรรูปเพื่อให้ผลผลิตคงอยู่ได้นาน แต่เนื่องจากถูกไถ่อาศัยอยู่ในต่างอำเภอที่ห่างไกล ดังนั้นการกระจายสินค้าต่อไปยังตลาดอื่นอาจทำได้ลำบากและส่งผลให้มีค่าขนส่งเพิ่มเติม ดังนั้นถูกไถ่จึงควรแปรรูปกล้วยจึงจะเหมาะสมที่สุด
4. **ตอบ ข้อ 2.** เพราะการวางแผนเลือกซื้อสินค้าเป็นการพิจารณาแนวทางในการเลือกซื้อสินค้าจากจำนวนเงินที่มีอยู่ ความต้องการ ความจำเป็น เราจึงควรวางแผนก่อนการเลือกซื้อสินค้าและบริการทุกครั้ง เพื่อจะสามารถใช้เงินที่มีอยู่ได้อย่างคุ้มค่า และยังสามารถใช้ประโยชน์จากสินค้าและบริการนั้นได้อย่างคุ้มค่าเช่นเดียวกัน
5. **ตอบ ข้อ 4.** เพราะการเลือกซื้อสินค้าและบริการควรคำนึงถึงความจำเป็น ประโยชน์ และประหยัด ซึ่งสินค้าทั้ง 4 ชุดมีราคาเท่ากันคือ 20 บาท จึงไม่สามารถเปรียบเทียบทางด้านราคาได้ ดังนั้นจึงนำหลักความจำเป็นและประโยชน์มาตัดสิน ซึ่งสินค้าในชุดที่ 4 เป็นสินค้าที่มีความจำเป็น เพราะเป็นของที่ใช้ในการเรียน และยังได้รับประโยชน์จากของเล่นที่ให้ความเพลิดเพลินได้
6. **ตอบ ข้อ 1.** เพราะการลดปริมาณการใช้เป็นการลดปริมาณเพื่อให้เหลือขยะน้อยที่สุด ซึ่งในฐานะผู้บริโภคควรลดการบริโภคสินค้าฟุ่มเฟือย ใช้สินค้าที่ประหยัดพลังงาน ซึ่งการที่นิตินำปิ่นโตไปใส่ข้าวแทนกล่องโฟมเป็นการช่วยลดปริมาณการใช้กล่องโฟมวิธีหนึ่ง
7. **ตอบ ข้อ 3.** เพราะทรัพยากรในการผลิตประกอบด้วย
 1. ที่ดิน หมายถึง พื้นที่ที่ใช้ในการประกอบกิจการต่างๆ
 2. แรงงาน หมายถึง แรงกายและปัญญา รวมทั้งความคิดที่ใช้ในการผลิตสินค้าและบริการ
 3. ทุน หมายถึง สิ่งต่างๆ ที่นำมาใช้ผลิตสินค้าหรือบริการ เช่น เครื่องจักร อาคาร
 4. ผู้ประกอบการ หมายถึง บุคคลที่นำปัจจัยการผลิตทั้งหมดมาผสมผสานให้เกิดเป็นสินค้าและบริการ ซึ่งจากข้อมูลนี้ ต้องเป็นผู้ประกอบการ แม่ครัวและพนักงานบริการในร้านเป็นแรงงาน ร้านอาหารและการลงทุนตกแต่งร้านให้สวยงามเป็นทุน ส่วนที่ดินไม่ได้กล่าวถึง

8. **ตอบ ข้อ 1.** เพราะจากข้อมูลกล่าวถึงการเพาะเลี้ยงเนื้อเยื่อพืช ซึ่งเป็นเทคนิคและวิธีการใหม่ที่น่าสนใจ เพื่อช่วยเพิ่มประสิทธิภาพในกระบวนการคัดเลือกและขยายพันธุ์พืช (วิธีเดิมคือการปลูกและคัดเลือกต้นที่สมบูรณ์) ซึ่งการเพาะเลี้ยงเนื้อเยื่อคือการนำเอาส่วนใดส่วนหนึ่งของพืช ไม่ว่าจะป็นอวัยวะ เนื้อเยื่อเซลล์ หรือเซลล์ไม่มีผนัง มาเลี้ยงในอาหารเลี้ยงในสภาพปลอดเชื้อ จุลินทรีย์ และอยู่ในสภาพควบคุมอุณหภูมิ แสง และความชื้น เพื่อให้เซลล์พืชที่นำมาเพาะเลี้ยงนั้น ปราศจากเชื้อที่มารบกวนและทำลายการเจริญเติบโตของพืช
9. **ตอบ ข้อ 1.** เพราะจากข้อมูลที่กล่าวว่า “ต้นพืชที่ได้จากการเพาะเลี้ยงจึงมีลักษณะตรงตามลักษณะทางพันธุกรรม สามารถใช้เพิ่มจำนวนต้นพืชให้ได้ปริมาณมาก โดยทุกต้นจะมีลักษณะเหมือนกับพืชต้นแบบทุกประการ” จึงสามารถสรุปได้ว่า ส่งผลดีต่อเกษตรกร เพราะทำให้ได้ต้นพืชในปริมาณมาก มีลักษณะเหมือนต้นแบบ ไม่เกิดการข้ามพันธุ์หรือกลายพันธุ์เหมือนวิธีอื่น
10. **ตอบ ข้อ 3.** เพราะจากข้อความ ปิติเป็นหัวหน้าครอบครัว ปรากฏหน่วยครัวเรือน (หน่วยครัวเรือน หมายถึง หน่วยของบุคคลหรือครอบครัวที่มักจะมีรายได้จากการทำงาน) เปิดร้านขายข้าวแกงปรากฏหน่วยธุรกิจ (หน่วยธุรกิจ หมายถึง หน่วยที่ทำหน้าที่นำเอาปัจจัยการผลิตมาดำเนินการผลิต ซึ่งจะทำให้เกิดสินค้าและบริการ ในที่นี้ ปิตินำเอาพืชผัก เนื้อสัตว์ และอื่นๆ มาทำให้เกิดเป็นสินค้า คือ ข้าวแกง) การขอกู้เงินจากธนาคาร จึงเกี่ยวข้องกับธนาคารโดยนำเงินจากธนาคารมาลงทุน
11. **ตอบ ข้อ 1.** เพราะหน่วยครัวเรือน หมายถึง หน่วยของบุคคลหรือครอบครัวที่มักจะมีแหล่งรายได้จากการทำงาน ดังนั้น จากข้อความจึงปรากฏหน่วยครัวเรือนเพียงหน่วยเดียว
12. **ตอบ ข้อ 2.** เพราะเมื่อผู้บริโภคได้รับความเสียหายจากการบริโภคสินค้าหรือบริการต่างๆ ผู้บริโภคมีสิทธิที่จะได้รับการพิจารณาและชดเชยความเสียหาย (สิทธิตามพระราชบัญญัติคุ้มครองผู้บริโภค) โดยสามารถร้องเรียนต่อสำนักงานคณะกรรมการคุ้มครองผู้บริโภค (สคบ.) และทาง สคบ. จะพิจารณาข้อมูลต่างๆ เพื่อดำเนินการกับผู้ผลิตที่ละเมิดสิทธิของผู้บริโภคต่อไป
13. **ตอบ ข้อ 1.** เพราะจากข้อความที่ขีดเส้นใต้ ระบุว่า “ทาใบหน้าจะทำให้ใบหน้าขาวใสภายใน 3 วัน” ซึ่งเป็นกล่าวอ้างสรรพคุณเกินความเป็นจริง ครีมทาหน้าโดยทั่วไปจะต้องใช้เวลาสักระยะในการปรับสภาพผิวเพื่อให้ผิวย่อยๆ ผลัดเซลล์และกระจ่างใส แต่ทางผู้ผลิตโฆษณาว่าเห็นผลภายใน 3 วัน จึงมีความผิดตามพระราชบัญญัติคุ้มครองผู้บริโภค
14. **ตอบ ข้อ 3.** เพราะภาษีมูลค่าเพิ่มเป็นภาษีที่รัฐเรียกเก็บจากผู้ซื้อสินค้าและบริการต่างๆ ซึ่งการที่ปีกับครอบครัวไปรับประทานอาหารที่ร้านอาหารจะถูกเรียกเก็บภาษีมูลค่าเพิ่ม โดยทางร้านอาหารจะแจ้งไว้ในใบเสร็จรับเงิน และภาษีนี้อีกกรมสรรพากรเป็นหน่วยงานที่จัดเก็บ
15. **ตอบ ข้อ 1.** เพราะจากข้อความที่ว่า “นอกเหนือจากนั้นก็รวมกลุ่มคิดหาวิธีการพัฒนาคุณภาพชีวิตด้วยการเพิ่มรายได้ให้กับครอบครัว” แสดงว่าแม่บ้านในชุมชนรวมกลุ่มกันเพื่อสร้างรายได้เพิ่มนอกจากการทำไร่
16. **ตอบ ข้อ 1.** เพราะจากภาพแผนที่ ปรากฏข้อมูลหลายอย่าง เช่น สถานที่ท่องเที่ยว (เช่น เขตรักษาพันธุ์สัตว์ป่าห้วยขาแข้ง น้ำตกอีซ่า) ที่ตั้งชุมชน (เช่น บ้านน้ำพุ บ้านคลองหวาย บ้านห้วยแห้ง) แหล่งน้ำ (แม่น้ำเจ้าพระยา) ส่วนความสูงต่ำของพื้นที่ไม่ปรากฏในแผนที่นี้

17. **ตอบ ข้อ 2.** เพราะจากภาพแผนที่แสดงบริเวณของหลายอำเภอ เช่น อำเภอห้วยคต อำเภอหนองผาง อำเภอหนองขาหย่าง เป็นต้น ดังนั้นที่กล่าวว่าแสดงอาณาเขตของอำเภอห้วยคตเพียงอำเภอเดียว จึงไม่ถูกต้อง
18. **ตอบ ข้อ 2.** เพราะจากแผนที่แสดงข้อมูลบางส่วนของจังหวัดอุทัยธานี จังหวัดนครสวรรค์ และจังหวัดชัยนาท ซึ่งเป็นจังหวัดที่อยู่ในภาคกลางของประเทศไทย
19. **ตอบ ข้อ 3.** เพราะถ้าและน้ำตกส่วนใหญ่จะเกิดขึ้นในบริเวณที่มีความอุดมสมบูรณ์ของทรัพยากรป่าไม้ ซึ่งเป็นแหล่งกำเนิดของน้ำ ส่วนภูเขาที่มีความสูงจึงทำให้สายน้ำไหลลดหลั่นกลายเป็นน้ำตก และภูเขาบางส่วนอาจถูกทำให้สึกกร่อนจากกระบวนการทางธรรมชาติ เช่น ลม ฝน จึงอาจทำให้เกิดถ้ำขึ้น
20. **ตอบ ข้อ 2.** เพราะแผนที่นี้เป็นแผนที่แสดงอุทยานแห่งชาติในภาคตะวันออกเฉียงเหนือ สังเกตได้จากชื่อจังหวัด ซึ่งเป็นชื่อจังหวัดที่อยู่ในภาคตะวันออกเฉียงเหนือ
21. **ตอบ ข้อ 2.** เพราะจุดวงกลม ● ในแผนที่นี้เป็นจุดแสดงที่ตั้งของจังหวัด สังเกตได้จากจุดนี้จะอยู่บริเวณใกล้กับชื่อของจังหวัด
22. **ตอบ ข้อ 4.** เพราะจากแผนที่ จะเห็นว่าจังหวัดที่อยู่ทางด้านทิศเหนือของจังหวัดบุรีรัมย์ คือ จังหวัดมหาสารคาม ขอนแก่น อุตรดิตถ์ และหนองคาย
23. **ตอบ ข้อ 4.** เพราะจากแผนที่ จะเห็นสัญลักษณ์แสดงที่ตั้งของสนามบินในบริเวณจังหวัดอุบลราชธานี ดังนั้นถ้าจะเดินทางไปจังหวัดอุบลราชธานีจึงควรเดินทางโดยเครื่องบินจึงจะรวดเร็วที่สุด
24. **ตอบ ข้อ 3.** เพราะจากภาพ หมายเลข 3 คือภาคตะวันออกเฉียงเหนือของประเทศไทย ซึ่งภาคนี้จะมีลักษณะทางกายภาพส่วนใหญ่เป็นพื้นที่ดอนที่มีความแห้งแล้ง ซึ่งเหมาะแก่การปลูกพืชที่ทนแล้งได้ดี เช่น อ้อย มันสำปะหลัง เป็นต้น
25. **ตอบ ข้อ 3.** เพราะจากข้อความเป็นลักษณะทางกายภาพของภาคตะวันตก ซึ่งก็คือหมายเลข 5
26. **ตอบ ข้อ 4.** เพราะกรมอุตุนิยมวิทยาได้จัดให้ประเทศไทยตอนล่าง (ภาคใต้นับตั้งแต่จังหวัดเพชรบุรีลงไป) มีเพียง 2 ฤดู คือ ฤดูฝนกับฤดูร้อน ซึ่งหมายเลข 6 คือบริเวณของภาคใต้ การที่ภาคใต้มีเพียง 2 ฤดู เนื่องจากได้รับอิทธิพลจากลมมรสุมตะวันตกเฉียงใต้ช่วงเดือนพฤษภาคม-ตุลาคม และอิทธิพลจากลมมรสุมตะวันออกเฉียงเหนือช่วงเดือนพฤศจิกายน-มกราคม จึงทำให้มีฝนตกชุก และในช่วงที่ไม่ได้รับลมมรสุมก็จะมีอากาศร้อน
27. **ตอบ ข้อ 1.** เพราะแผ่นดินไหวเกิดจากการเคลื่อนที่ของแผ่นเปลือกโลกเนื่องจากอิทธิพลของหินหนืดใต้ชั้นเปลือกโลก ทำให้บริเวณรอยเลื่อนต่างๆ ของเปลือกโลกเคลื่อนไหว รอยเลื่อนที่สำคัญในประเทศไทยจะอยู่บริเวณภาคเหนือ เช่น รอยเลื่อนเชียงแสน รอยเลื่อนแม่ทา ซึ่งในภาพนี้ภาคเหนือคือบริเวณหมายเลข 2
28. **ตอบ ข้อ 4.** เพราะบริเวณภาคใต้ของประเทศไทยมีทะเลขนานเป็นแนวยาวทั้ง 2 ด้าน มีลักษณะเป็นแหลมยื่นยาวลงไปทะเล ทำให้มีความเหมาะสมต่อการทำประมงน้ำเค็ม ซึ่งในภาพนี้ภาคใต้คือบริเวณหมายเลข 6
29. **ตอบ ข้อ 1.** เพราะจากข้อความ “เข้าท่วมบ้านเรือนเป็นวงกว้าง” แสดงว่าเกิดเหตุการณ์น้ำท่วม ซึ่งก็คืออุทกภัย (ภัยที่เกิดจากสภาวะน้ำท่วมหรือน้ำหลากอย่างฉับพลัน)

30. **ตอบ ข้อ 4.** เพราะเมื่อเกิดน้ำท่วมเราไม่ควรออกไปเล่นน้ำที่ท่วมนั้น เนื่องจากอาจทำให้ป่วยเป็นโรคต่างๆ เช่น น้ำกัดเท้า หรืออาจถูกสัตว์มีพิษต่างๆ ที่มากับน้ำกัด เช่น งู ตะขาบ
31. **ตอบ ข้อ 1.** เพราะจากข่าวนี้เป็นข่าวเกี่ยวกับการเกิดอุทกภัย ซึ่งเมื่อเกิดแล้วควรปฏิบัติเพื่อให้เกิดความปลอดภัยทั้งต่อชีวิตและทรัพย์สินหลายประการ เช่น ติดตามรายงานของกรมอุตุนิยมวิทยา และปฏิบัติตามอย่างเคร่งครัด อพยพคนและสัตว์เลี้ยงไปอยู่ในพื้นที่สูง ทำคันดินหรือกำแพงกั้นน้ำโดยรอบ เตรียมอาหารและน้ำดื่มสำรองไว้ เป็นต้น
32. **ตอบ ข้อ 4.** เพราะประเพณีที่เกี่ยวข้องกับสิ่งแวดล้อมคือประเพณีที่เกิดขึ้นจากสภาพภูมิประเทศ ภูมิอากาศ และสิ่งแวดล้อมต่างๆ ในบริเวณนั้นๆ การบูชาพญาแถนหรือที่เรียกว่า ประเพณีบุญบั้งไฟ เป็นประเพณีที่นิยมจัดในบางจังหวัดภาคตะวันออกเฉียงเหนือ ในบริเวณที่มีความแห้งแล้งฝนไม่ตกตามฤดูกาล ชาวบ้านจึงทำการจุดบั้งไฟบูชาพญาแถนเพื่อให้ฝนตก
33. **ตอบ ข้อ 4.** เพราะมนุษย์กับสิ่งแวดล้อมมีความสัมพันธ์กัน 4 ด้านใหญ่ๆ ดังนี้
1. ด้านการดำรงชีวิต โดยการนำทรัพยากรธรรมชาติ เช่น น้ำ ดิน มาเป็นปัจจัยพื้นฐานในการดำรงชีวิต โดยนำน้ำมาดื่ม อาบ ชำระล้าง ใช้ดินในการเพาะปลูก เป็นต้น
 2. ด้านการสร้างสรรควัฒนธรรม ชนบทรรมนิยม ประเพณี เช่น บริเวณที่มีน้ำอุดมสมบูรณ์ จะมีประเพณีการแข่งขันเรือยาว เป็นต้น
 3. ด้านการตั้งถิ่นฐานและการเลือกที่อยู่อาศัย เช่น บริเวณที่มีทรัพยากรอุดมสมบูรณ์ มักจะมีผู้คนตั้งบ้านเรือนอยู่หนาแน่น เป็นต้น
 4. ด้านการประกอบอาชีพ เช่น ผู้ที่อาศัยอยู่ใกล้แม่น้ำจะทำอาชีพประมง เป็นต้น
34. **ตอบ ข้อ 1.** เพราะสิ่งแวดล้อมจากข้อความในข้อ 33. คือ น้ำ เมื่อมนุษย์นำน้ำสะอาดมาใช้ในการดำเนินกิจกรรมต่างๆ เช่น นำน้ำสะอาดมาชำระล้างร่างกายก็จะทำให้น้ำมีสารเคมีที่เกิดจากสบู่ จากยาสระผม หรืออื่นๆ ปนเปื้อนลงไป เป็นต้น ยิ่งมนุษย์มีจำนวนเพิ่มขึ้น การใช้น้ำในการทำกิจกรรมต่างๆ ก็เพิ่มขึ้นตามไปด้วย ส่งผลให้น้ำมีคุณภาพลดลง จากน้ำดีกลายเป็นน้ำเสีย
35. **ตอบ ข้อ 4.** เพราะสิ่งแวดล้อมจากข้อความในข้อ 33. คือ น้ำ ซึ่งน้ำเป็นทรัพยากรธรรมชาติที่ไม่สามารถหาสิ่งอื่นมาใช้ทดแทนได้ ไม่สามารถบูรณะซ่อมแซมได้ สามารถนำกลับมาใช้ซ้ำได้แต่ในปริมาณที่น้อย เช่น นำน้ำในการล้างผ้าในที่สุดท้ายมารดต้นไม้ เป็นต้น ส่วนการบำบัดและการฟื้นฟู เป็นวิธีการที่จะช่วยลดความเสื่อมโทรมของน้ำที่สามารถทำได้ในปริมาณมาก เช่น การบำบัดน้ำเสียจากบ้านเรือนหรือโรงงานอุตสาหกรรมก่อนปล่อยลงสู่แหล่งน้ำ เป็นต้น
36. **ตอบ ข้อ 1., 2., A.** เพราะจากข้อความ กล่าวถึงสิ่งของที่ผลิตจากเยื่อต้นไม้ ซึ่งต้นไม้เป็นทรัพยากรธรรมชาติอย่างหนึ่ง และทรัพยากรที่จัดอยู่ในประเภททรัพยากรธรรมชาติ คือ อากาศ ส่วนการใช้ทรัพยากรต้นไม้ให้คุ้มค่า คือเราควรลดปริมาณการใช้ เช่น ใช้ผ้าเช็ดหน้าแทนกระดาษทิชชู ก็จะทำให้การผลิตกระดาษทิชชูมีปริมาณลดลง การตัดต้นไม้ที่จะนำมาทำกระดาษทิชชูก็จะลดลงตามไปด้วย

37. **ตอบ ข้อ 1., 3., A.** เพราะลักษณะทางกายภาพที่มีภูเขากระจายอยู่เกือบทั้งภาค มีที่ราบอยู่เพียงเล็กน้อย เป็นลักษณะทางกายภาพของภาคเหนือ ซึ่งในภาคเหนือมีทิวเขาที่สำคัญหลายทิวเขา เช่น ทิวเขาแดนลาว ทิวเขาถนนธงชัย ทิวเขาผีปันน้ำ ส่วนบริเวณพื้นที่สูงของภาคเหนือจะเป็นที่อยู่อาศัยของชนเผ่าหลายชนเผ่า ทำให้มีประเพณีและวัฒนธรรมที่เป็นเอกลักษณ์ เช่น ประเพณีปอยส่างลอง (ประเพณีของชาวไทใหญ่ที่นับถือพระพุทธศาสนา ซึ่งชาวไทใหญ่ส่วนใหญ่จะอาศัยอยู่ในบริเวณพื้นที่สูงของภาคเหนือ เช่น บริเวณจังหวัดแม่ฮ่องสอน)
38. **ตอบ ข้อ 2., 1., C.** เพราะสึนามิเป็นคลื่นทะเลขนาดใหญ่ที่เคลื่อนที่อย่างรวดเร็วจนมีพลังมาก เกิดจากมวลน้ำในทะเลและมหาสมุทรได้รับแรงสั่นสะเทือนจากแผ่นดินไหวใต้ทะเล บริเวณที่จะเกิดสึนามิ จึงต้องมีพื้นที่ติดต่อกับทะเล กระบี่จึงมีโอกาสเกิดสึนามิเพราะมีพื้นที่ติดต่อกับทะเล
39. **ตอบ ข้อ 1., 1., C.** เพราะทิวเขาถนนธงชัยเป็นทิวเขาที่ทอดตัวยาวผ่านภาคเหนือ ภาคกลาง และภาคตะวันตก ซึ่งจังหวัดแม่ฮ่องสอนเป็นจังหวัดหนึ่งในภาคเหนือที่ทิวเขาถนนธงชัยพาดผ่าน ส่วนดินถล่มมักเกิดขึ้นในภูมิลักษณะที่เป็นภูเขา เนินเขาที่มีความลาดชันมาก และพื้นที่บริเวณเชิงเขาที่มีการตัดไม้ทำลายป่าเพื่อเปลี่ยนเป็นพื้นที่เกษตรกรรม ทำให้ไม่มีป่าไม้ที่จะช่วยดูดซับน้ำฝน เมื่อมีฝนตกในปริมาณมากๆ ทำให้ดินอุ้มน้ำมาก เมื่อปริมาณน้ำมากเกินไปที่ดินจะรับได้ ทำให้เกิดการไหลลงมาตามทางลาดเชิงเขา ซึ่งเรียกว่า ดินถล่มหรือโคลนถล่ม การที่บ้านของมาติกาตั้งอยู่บริเวณเชิงเขาจึงเสี่ยงต่อดินถล่มมากที่สุด
40. **ตอบ ข้อ 1., 3., A.** เพราะจากภาพเป็นภาพท่อนไม้ที่ถูกตัด จึงเกี่ยวข้องกับทรัพยากรธรรมชาติประเภทป่าไม้ เมื่อป่าไม้ถูกทำลายทำให้มีปริมาณลดลง จึงส่งผลทั้งทางตรงและทางอ้อมต่อทรัพยากรธรรมชาติและสิ่งแวดล้อม แต่ที่เห็นได้ชัดเจนที่สุด คือ จำนวนของต้นไม้มีลดลง ทำให้สัตว์ป่าไม่มีที่อยู่อาศัย จึงมีจำนวนลดลงตามไปด้วย ดังนั้นเราจึงควรปลูกป่าทดแทนป่าไม้ที่ถูกตัดไป จึงจะเหมาะสมที่สุด

1. *แนวตอบ* ปัญหาการทิ้งขยะ
2. *แนวตอบ* ความมั่งง่ายและขาดความสำนึกถึงผลเสียที่จะเกิดขึ้น ซึ่งจะเห็นได้จากการทิ้งขยะลงบนพื้นหรือแหล่งน้ำ โดยไม่ทิ้งให้เรียบร้อยลงในถังขยะ
3. *แนวตอบ* จากปัญหาการทิ้งขยะไม่เป็นที่ ส่งผลให้เกิดปัญหาต่อมนุษย์หลายอย่าง เช่น
 - เป็นแหล่งเพาะและแพร่เชื้อโรค โดยเฉพาะขยะติดเชื้อจากสถานพยาบาล และขยะเปียกซึ่งมนุษย์อาจได้รับเชื้อโรคจากขยะเหล่านั้น ที่อาจปนเปื้อนมาในแหล่งน้ำที่มนุษย์ใช้ในการดำรงชีวิต
 - ทำให้ดินเสื่อมและเกิดมลพิษ เพราะจะทำให้พื้นดินสกปรก ดินมีสภาพเป็นเกลือ ต่าง กรด หรือมีสารพิษที่เป็นอันตรายต่อสิ่งมีชีวิตในดิน ซึ่งอาจส่งผลให้มนุษย์ไม่มีพื้นที่ที่เหมาะสมในการเพาะปลูกพืชเพื่อใช้ในการบริโภคหรือใช้เลี้ยงสัตว์
4. *แนวตอบ* การแก้ปัญหามลพิษมีปริมาณมากและทิ้งไม่เป็นที่ เป็นทางสามรถทำได้หลายวิธี เช่น
 - คัดแยกขยะก่อนนำไปทิ้งเพื่อให้สะดวกแก่การนำไปกำจัด หรือนำไปใช้ประโยชน์ได้ใหม่
 - ทิ้งขยะลงในภาชนะรองรับ เช่น ถังขยะ ให้เรียบร้อย
 - การปฏิเสธหรือหลีกเลี่ยงสิ่งของหรือบรรจุภัณฑ์ที่จะสร้างปัญหาขยะ รวมทั้งเป็นมลพิษต่อสิ่งแวดล้อม เช่น กล่องโฟม
 - การเลือกใช้สินค้าชนิดเติมซึ่งใช้บรรจุภัณฑ์น้อยกว่า ขยะก็น้อยกว่าด้วย
 - การนำบรรจุภัณฑ์ที่ใช้แล้วกลับมาใช้ใหม่
5. *แนวตอบ* ทรัพยากรธรรมชาติและสิ่งแวดล้อมที่ได้รับผลกระทบ เช่น
 - ดิน เพราะขยะกองทับถมอยู่บนดิน อาจทำให้ดินได้รับการปนเปื้อนจากขยะ
 - น้ำ เพราะขยะที่ทิ้งอยู่ใกล้แหล่งน้ำ อาจทำให้น้ำเน่าเสียได้และได้รับการปนเปื้อนจากขยะ

ตอนที่ 1

1. **ตอบ ข้อ 1.** เพราะจากข้อความ ผู้ผลิตใช้วัตถุดิบที่มีคุณภาพมาผลิตสินค้า ซึ่งเป็นการกระทำที่เหมาะสม เนื่องจากในการผลิตอาหารควรคัดเลือกวัตถุดิบที่มีคุณภาพ เมื่อใช้วัตถุดิบที่ดี ขนมที่ผลิตก็จะมีคุณภาพดีตามไปด้วย ส่งผลให้ผู้บริโภคได้รับสินค้าที่ดีเหมาะสมกับเงินที่จ่ายไป
2. **ตอบ ข้อ 3.** เพราะจากข้อความ แสดงว่าในการผลิตขนม รัศมีใส่สารกันบูดลงไปในขนมจำนวนมาก ซึ่งการกระทำของรัศมีไม่เหมาะสม เพราะการใส่สารกันบูดลงไปในการอาหารจำนวนมาก จะมีผลทำให้ผู้บริโภคท้องเสีย คลื่นไส้ อาเจียน วิงเวียนศีรษะ ในรายที่มีอาการรุนแรงจะทำให้เม็ดเลือดแดงหมดสภาพในการพาออกซิเจนไปเลี้ยงเซลล์ต่างๆ ของร่างกาย จะเกิดอาการตัวเขียวหายใจไม่ออก และอาจถึงตายได้
ดังนั้น ผู้ผลิตอาหารที่ใช้สารกันบูดผสมลงในอาหารต้องคำนึงถึงความปลอดภัยของผู้บริโภค เลือกใช้สารกันบูดให้เหมาะสมกับชนิดของอาหารแต่ละประเภท ในปริมาณที่สำนักงานคณะกรรมการอาหารและยากำหนดให้ใช้เท่านั้น ถ้าปฏิบัติไม่ถูกต้องผู้บริโภคอาจจะได้รับโทษตามกฎหมาย
3. **ตอบ ข้อ 3.** เพราะการมีจิตสำนึกที่ดีในการผลิตสินค้าและบริการ เป็นการคำนึงถึงความปลอดภัยของผู้บริโภค เช่น ไม่ใส่สารสังเคราะห์ต่างๆ ที่เป็นอันตรายต่อผู้บริโภคลงไปในการอาหาร เป็นต้น ดังนั้นการที่รัศมีใส่สารกันบูดจำนวนมากลงไปในการขนม จึงเป็นการปฏิบัติที่ไม่เหมาะสมต่อบทบาทของผู้ผลิตในข้อนี้มากที่สุด
4. **ตอบ ข้อ 2.** เพราะการที่อุ่นปล่อยน้ำจากกระบวนการผลิตลงสู่ม้าน้ำโดยเร็วเป็นการกระทำที่ไม่ถูกต้อง วัจนควรบำบัดน้ำนั้นก่อนปล่อยลงสู่แหล่งน้ำ การที่ฝั่งซึ่งผลไม้พร้อมกับตะกร้าเป็นการกระทำที่ไม่ถูกต้อง เพราะทำให้ลูกค้าได้ผลไม้ที่ไม่ตรงตามน้ำหนักจริง ถือว่าไม่ซื่อสัตย์ต่อผู้บริโภค การที่ดาวนำสมุดที่ยังไม่ได้ใช้มาผลิตเป็นของเล่นเป็นการกระทำที่ไม่ถูกต้องเพราะสิ้นเปลืองทรัพยากร ก่อนที่จะนำสมุดมาทำเป็นของเล่นควรใช้กระดาษในสมุดให้หมดก่อน ส่วนฟางปฏิบัติได้ถูกต้องเพราะมีการวางแผนก่อนเริ่มลงมือทำกิจกรรมทางเศรษฐกิจ เพื่อให้สอดคล้องกับความต้องการของผู้บริโภค
5. **ตอบ ข้อ 2.** เพราะการวางแผนก่อนเริ่มลงมือทำกิจกรรมทางเศรษฐกิจ (จากข้อมูลในข้อ 4. วางแผนและสำรวจตลาดก่อนที่จะขายเค้ก) ทำให้ผลิตสินค้าได้ตรงตามกับความต้องการของผู้บริโภค
6. **ตอบ ข้อ 3.** เพราะการนำเงินเดือนที่ได้มาใช้จ่ายควรมีการจัดสรร โดยแบ่งเป็นค่าใช้จ่ายส่วนตัว เงินเก็บ และเงินที่จะนำไปซื้อสินค้าต่างๆ ซึ่งการเลือกซื้อสินค้าก็ควรคำนึงถึงความจำเป็น ประโยชน์ใช้สอย และความประหยัด ในที่นี้ก็นำเงิน 10,000 บาท ไปซื้อเสื้อผ้า กระเป๋า และรองเท้าจนหมด จึงเป็นการปฏิบัติไม่เหมาะสม เพราะใช้จ่ายฟุ่มเฟือยเกินความจำเป็น

7. **ตอบ ข้อ 3.** เพราะเมื่อได้ยิน ได้อ่าน โฆษณาผลิตภัณฑ์ต่างๆ ไม่ควรหลงเชื่อคำโฆษณาโดยง่าย ควรศึกษา รายละเอียดของสินค้าก่อนตัดสินใจซื้อ เพราะการโฆษณาส่วนใหญ่ผู้ประกอบธุรกิจจะเสนอ แต่ข้อดีและเงื่อนไขที่เป็นประโยชน์ ส่วนข้อเสียมักจะไม่กล่าวถึง
8. **ตอบ ข้อ 1.** เพราะสินค้าจาก 2 ร้านนี้มีราคาไม่เท่ากัน ถ้าซื้อจากร้าน ก ราคา 25 บาท ถ้าซื้อจากร้าน ข ราคา 20 บาท แต่ต้องเพิ่มค่าเดินทางอีก 5 บาท รวมเป็น 25 บาท (เมื่อรวมราคาสินค้ากับค่ารถ ทำให้มีค่าใช้จ่ายเท่ากัน คือ 25 บาท) ถ้าเลือกซื้อสินค้าจากร้าน ข จะต้องเสียเวลาในการเดินทางอีก ดังนั้นจึงควรเลือกซื้อสินค้าจากร้าน ก เพราะสะดวก และประหยัดเวลาในการเดินทาง
9. **ตอบ ข้อ 3.** เพราะแสงอาทิตย์ ดิน (เป็นทรัพยากรธรรมชาติที่ใช้แล้วไม่หมดสิ้น) น้ำมันปิโตรเลียม (เป็นทรัพยากรธรรมชาติที่ใช้แล้วหมดสิ้น) เป็นทรัพยากรธรรมชาติทั้งหมด (ทรัพยากรธรรมชาติคือ สิ่งต่างๆ ที่เกิดขึ้นเองตามธรรมชาติ)
ใบควง โรงงาน และเครื่องจักรเป็นทรัพยากรที่มนุษย์สร้างขึ้น (ทรัพยากรที่มนุษย์สร้างขึ้นคือ ทรัพยากรที่มนุษย์สร้างขึ้นมาเพื่อใช้เป็นเครื่องมือ หรือปัจจัยในการผลิตสินค้าและบริการ)
10. **ตอบ ข้อ 1.** เพราะทรัพยากรในการผลิตประกอบด้วย
1. ที่ดิน หมายถึง พื้นที่ที่ใช้ในการประกอบกิจการต่างๆ
 2. แรงงาน หมายถึง แรงกายและปัญญา รวมทั้งความคิดที่ใช้ในการผลิตสินค้าและบริการ
 3. ทุน หมายถึง สิ่งต่างๆ ที่นำมาใช้ผลิตสินค้าหรือบริการ เช่น เครื่องจักร อาคาร
 4. ผู้ประกอบการ หมายถึง บุคคลที่นำปัจจัยการผลิตทั้งหมดมาผสมผสานให้เกิดเป็นสินค้าและบริการ (จากข้อมูลนี้ กล่าวกำหนดปัจจัยการผลิตสินค้าขึ้นมา 4 อย่าง ได้แก่ โรงงาน ซึ่งรวมถึงที่ดินที่ตั้งโรงงานด้วย (ที่ดินและทุน) เครื่องจักรที่ใช้ในการผลิต (ทุน) พนักงานในโรงงาน (แรงงาน) และเงินเดือนพนักงาน (ทุน)
11. **ตอบ ข้อ 1.** เพราะการลดปริมาณการใช้เป็นการลดปริมาณเพื่อให้เหลือขยะน้อยที่สุด ซึ่งในฐานะผู้บริโภค ควรลดการบริโภคสินค้าฟุ่มเฟือย ใช้สินค้าที่ประหยัดพลังงาน การที่จับซื้อขนมจากร้านค้า และถือถุงขนมกลับบ้านโดยไม่ใส่ถุงพลาสติก เป็นการช่วยลดการใช้ถุงพลาสติก
12. **ตอบ ข้อ 2.** เพราะการใช้ซ้ำเป็นการนำสิ่งของต่างๆ ที่ใช้แล้ว กลับมาใช้ประโยชน์ให้คุ้มค่า การที่จับนำเสื้อผ้าที่ไม่ใช้แล้วมาเย็บเป็นผ้าเช็ดเท้า เป็นการนำเสื้อผ้าเก่ามาใช้ให้เกิดประโยชน์
13. **ตอบ ข้อ 3.** เพราะกระดาษหนังสือพิมพ์จะมีหมึกอยู่ เมื่อนำมาบรรจุหรือห่ออาหารจะทำให้หมึกเหล่านั้นแทรกซึมเข้าสู่อาหาร ก่อให้เกิดอันตรายต่อร่างกายได้ ดังนั้นการกระทำของจำจึงไม่ถูกต้อง
14. **ตอบ ข้อ 1.** เพราะการที่อุ้มรวมกลุ่มกับเพื่อนเพื่อถ่ายทอดความรู้เกี่ยวกับการอนุรักษ์ทรัพยากรธรรมชาติให้คนในชุมชนเป็นการปฏิบัติที่ถูกต้อง เพราะช่วยสร้างความรู้ความเข้าใจในการอนุรักษ์ทรัพยากรให้กับคนในชุมชน เมื่อคนในชุมชนเข้าใจวิธีการอนุรักษ์ทรัพยากรแล้ว จะทำให้ปฏิบัติได้อย่างถูกต้อง และส่งผลให้มีทรัพยากรใช้ไปได้อีกนาน

15. **ตอบ ข้อ 4.** เพราะหน่วยธุรกิจ หมายถึง หน่วยที่นำเอาปัจจัยการผลิตมาดำเนินการผลิต ซึ่งจะทำให้เกิดสินค้าและบริการเพื่อตอบสนองต่อความต้องการผู้บริโภค รวมทั้งขนส่งสินค้าและบริการเพื่อนำไปจำหน่ายยังผู้บริโภค โดยมีวัตถุประสงค์เพื่อแสวงหากำไรจากการดำเนินกิจกรรมทางเศรษฐกิจ โดยข้อที่กล่าวว่า ห้างสรรพสินค้าแห่งนี้ขายสินค้าหลายชนิด ข้อนี้กล่าวถึงหน่วยธุรกิจ (ห้างสรรพสินค้า) เพียงหน่วยเดียว
16. **ตอบ ข้อ 1.** เพราะการส่งออกสินค้าไปขายต่างประเทศต้องเสียภาษีศุลกากร มีกรมศุลกากรเป็นผู้เรียกเก็บภาษีประเภทนี้
17. **ตอบ ข้อ 4.** เพราะเงินเดือนข้าราชการ ห้างหุ้นส่วน การรับมรดก เป็นภาษีทางตรง โดยผู้ที่รับราชการต้องเสียภาษีเงินได้บุคคลธรรมดา ห้างหุ้นส่วนต้องเสียภาษีเงินได้นิติบุคคล การรับมรดกต้องเสียภาษีมรดก ซึ่งภาษีเงินได้บุคคลธรรมดา ภาษีเงินได้นิติบุคคล และภาษีมรดก เป็นภาษีทางตรงทั้งสิ้น
- ส่วนการซื้อสินค้า บุหรี่ การนำเข้าสินค้า เป็นภาษีทางอ้อม โดยผู้ที่ซื้อสินค้าจะต้องเสียภาษีมูลค่าเพิ่ม ผู้ที่ขายบุหรี่จะต้องเสียภาษีสรรพสามิต ผู้ที่นำเข้าสินค้าจากต่างประเทศจะต้องเสียภาษีศุลกากร ซึ่งภาษีมูลค่าเพิ่ม ภาษีสรรพสามิต และภาษีศุลกากร เป็นภาษีทางอ้อมทั้งสิ้น
18. **ตอบ ข้อ 2.** เพราะสินค้าของหมวยมีการระบุรายละเอียดต่างๆ เช่น วัน เดือน ปีที่ผลิต วันหมดอายุ ปริมาณ ชื่ออาหาร ที่ตั้งผู้ผลิต เป็นต้น ซึ่งข้อมูลเหล่านี้เป็นข้อมูลที่ผู้บริโภคควรได้รับเพื่อจะได้เข้าใจข้อมูลเกี่ยวกับสินค้าอย่างถูกต้องและเพียงพอต่อการตัดสินใจเลือกซื้อสินค้านั้น (สอดคล้องกับสิทธิของผู้บริโภคตามพระราชบัญญัติคุ้มครองผู้บริโภค ข้อที่ระบุว่า สิทธิที่จะได้รับข่าวสารรวมทั้งคำพรรณนาคุณภาพที่ถูกต้องและเพียงพอเกี่ยวกับสินค้าและบริการ)
19. **ตอบ ข้อ 3.** เพราะการที่แก้วให้ลูกจ้างที่ทำงานครบ 1 ปี หยุดพักผ่อนได้เพียง 3 วัน ถือเป็นการขัดต่อกฎหมายแรงงานและขัดต่อสิทธิของผู้ใช้แรงงาน ที่กำหนดว่าลูกจ้างที่ทำงานครบ 1 ปี มีสิทธิหยุดพักผ่อนได้ไม่น้อยกว่าปีละ 6 วัน
20. **ตอบ ข้อ 4.** เพราะตามกฎหมายแรงงานระบุไว้ว่า ในเวลาทำงานให้ลูกจ้างทำงานไม่เกิน 8 ชั่วโมงต่อวัน และไม่เกิน 48 ชั่วโมงต่อสัปดาห์
- ลูกจ้างมีสิทธิพักได้วันละไม่น้อยกว่า 1 ชั่วโมง
- ลูกจ้างมีสิทธิหยุดพักผ่อนประจำปีได้ไม่น้อยกว่าปีละ 6 วัน (เมื่อทำงานติดต่อกันมาครบ 1 ปี)
- ลูกจ้างมีสิทธิหยุดตามวันหยุดประเพณีไม่น้อยกว่าปีละ 13 วัน โดยรวมวันแรงงานแห่งชาติ ดังนั้นข้อที่กล่าวไม่ถูกต้อง คือ ข้อ 4. เพราะพริ้งให้ลูกจ้างหยุดตามวันหยุดประเพณีปีละ 12 วัน ซึ่งน้อยกว่าที่กฎหมายกำหนด
21. **ตอบ ข้อ 3.** เพราะพระราชบัญญัติคุ้มครองแรงงานได้ระบุไว้ในมาตราที่ 44 ว่า ห้ามมิให้นายจ้างจ้างเด็กอายุต่ำกว่า 15 ปีเป็นลูกจ้าง
22. **ตอบ ข้อ 1.** เพราะจากข้อมูลที่กำหนดกล่าวถึงการรวมกลุ่มของเกษตรกรที่มีปัญหาเกี่ยวกับการจำหน่ายผลผลิต จึงทำให้รวมตัวกันจัดตั้งเป็นกลุ่มแม่บ้านเย็บผ้าชนหมู่บ้านห้วยสาธิต

23. **ตอบ ข้อ 1.** เพราะจากข้อมูล “หมู่บ้านห้วยสาธิตเป็นหมู่บ้านที่คนในชุมชนประกอบอาชีพเกษตรกรรม เป็นส่วนใหญ่ มีการปลูกพืชชนิดเดียวกัน ทำให้ผลผลิตที่ได้ออกมาพร้อมกัน ราคาผลผลิต จึงตกต่ำ จนบางครั้งผลผลิตเน่าเสีย” ทำให้สามารถสรุปได้ว่า เกษตรกรในชุมชนนี้ประสบ ปัญหาการปลูกพืชชนิดเดียวกันทำให้ราคาผลผลิตตกต่ำ
24. **ตอบ ข้อ 3.** เพราะจากภาพแผนที่ ปรากฏข้อมูลหลายอย่าง เช่น แนวของภูเขา (เช่น ภูเขาสันกำแพง ภูเขาพนมดงรัก) แหล่งน้ำ (เช่น แม่น้ำตาปี แม่น้ำบางปะกง) และแสดงอาณาเขตของ ประเทศไทย ส่วนอาณาเขตจังหวัดไม่ปรากฏในแผนที่นี้
25. **ตอบ ข้อ 2.** เพราะจากแผนที่ แสดงตำแหน่งที่ตั้งของภูเขาขุนตาลอยู่ระหว่างแม่น้ำปิงกับแม่น้ำวัง ดังนั้น ที่กล่าวว่า ภูเขาขุนตาลอยู่ระหว่างแม่น้ำยมกับแม่น้ำปิงจึงไม่ถูกต้อง
26. **ตอบ ข้อ 1.** เพราะจากแผนที่ จะเห็นว่าแม่น้ำตาปีอยู่ใกล้กับภูเขาภูเก็จ ซึ่งอยู่ทางภาคใต้ของประเทศไทย
27. **ตอบ ข้อ 4.** เพราะลักษณะภูมิประเทศแบบในภาพถ่ายนี้ ส่วนใหญ่จะปรากฏในบริเวณภาคใต้ของไทย ส่วนภาคเหนือไม่มีพื้นที่ติดต่อกับทะเล สมุทรปราการและฉะเชิงเทราอยู่ใกล้และมีอาณาเขต ติดต่อกับอ่าวไทยซึ่งเป็นทะเล แต่ลักษณะจะแตกต่างจากในภาพ เพราะบริเวณอ่าวไทยที่ ติดต่อกับจังหวัดสมุทรปราการและฉะเชิงเทรา มีลักษณะเป็นหาดเลน น้ำไม่ใสเหมือนเกาะ และอ่าวในทะเลอันดามัน
28. **ตอบ ข้อ 2.** เพราะจากภาพในข้อ 27. เป็นภาพหาดทรายและเกาะที่มีลักษณะสวยงาม ทำให้มีนักท่องเที่ยว ไปเที่ยวเป็นจำนวนมาก ส่งผลให้ชาวบ้านจากที่เคยประกอบอาชีพประมงหันมาประกอบ อาชีพเกี่ยวกับการท่องเที่ยวมากขึ้น เช่น ขายอาหารให้นักท่องเที่ยว ทำโฮมสเตย์ ขับเรือ รับส่งนักท่องเที่ยว เป็นต้น
29. **ตอบ ข้อ 1.** เพราะจากข้อมูลกล่าวถึงคลื่นสูงบริเวณอ่าวไทยตอนบน และทะเลอันดามัน ซึ่งจังหวัดพังงา อยู่ติดกับทะเลอันดามัน จึงไม่ควรเดินทางไปท่องเที่ยว ส่วนจังหวัดพัทลุง สงขลา และนราธิวาส อยู่ติดกับอ่าวไทยตอนล่าง จึงสามารถท่องเที่ยวได้
30. **ตอบ ข้อ 1.** เพราะภาคใต้มี 2 ฤดู คือ ฤดูฝนกับฤดูร้อน โดยฤดูร้อนเริ่มตั้งแต่กลางเดือนธันวาคมไปจนถึง กลางเดือนพฤษภาคม เมื่อรู้ไปท่องเที่ยวช่วงกลางเดือนมกราคมแล้วพบกับหน้าร้อน แสดงว่า รู้ไปเที่ยวทางภาคใต้ของประเทศไทย
31. **ตอบ ข้อ 3.** เพราะเมื่อมีไฟป่าเกิดขึ้นจะส่งผลให้มีปัญหาฝุ่นละอองและหมอกควันตามมา ทำให้ประชาชน ได้รับฝุ่นละอองและหมอกควันจากการหายใจ ส่งผลให้ป่วยเป็นโรคที่เกี่ยวกับระบบทางเดิน หายใจมากขึ้น
32. **ตอบ ข้อ 1.** เพราะลุ่ม ดินดอนสามเหลี่ยมปากแม่น้ำ แผ่นดินไหว เป็นการเปลี่ยนแปลงที่เกิดจากธรรมชาติ ส่วนนาขั้นบันได เขื่อน คลองขุด เป็นการเปลี่ยนแปลงที่เกิดจากการกระทำของมนุษย์
33. **ตอบ ข้อ 2.** เพราะการใช้อย่างประหยัด คือ ใช้เท่าที่มีความจำเป็น เพื่อให้มีทรัพยากรไว้ใช้ได้ยาวนาน ซึ่งตรงกับการกระทำของดีก ส่วนการกระทำของดีกตรงกับการใช้สิ่งอื่นทดแทน การกระทำ ของดีกตรงกับการบำบัดและฟื้นฟู การกระทำของดีกตรงกับการเฝ้าระวังดูแลและป้องกัน

34. **ตอบ ข้อ 2.** เพราะในอีก 20 ปีข้างหน้า เมื่อมนุษย์มีจำนวนเพิ่มมากขึ้น ความต้องการในการใช้ทรัพยากรของมนุษย์ก็จะเพิ่มมากขึ้นตามไปด้วย และถ้ามีการใช้อย่างไม่จำกัด จะส่งผลให้ทรัพยากรธรรมชาติในภาพมีจำนวนลดลง ดังนั้น เราจึงควรปลูกทดแทนเพื่อให้ป่าไม้มีจำนวนเพิ่มขึ้น
35. **ตอบ ข้อ 1.** เพราะเมื่อทรัพยากรธรรมชาติขาดแคลน เช่น ไม้มีน้ำ ไม้มีปลา จึงส่งผลให้ประชาชนย้ายถิ่นฐานไปยังบริเวณที่มีความอุดมสมบูรณ์มากกว่า
36. **ตอบ ข้อ 1., 2., C.** เพราะภาษีเงินได้บุคคลธรรมดาเป็นภาษีที่ผู้มีรายได้ เช่น ข้าราชการ พ่อค้า แม่ค้า พนักงานบริษัท เป็นต้น เป็นผู้จ่ายให้กับกรมสรรพากร การซื้อสินค้าในห้างสรรพสินค้า ผู้ซื้อจะต้องเสียภาษีมูลค่าเพิ่ม เพราะภาษีมูลค่าเพิ่มเป็นภาษีที่กรมสรรพากรเรียกเก็บจากผู้ซื้อสินค้าและบริการต่างๆ ส่วนหน่วยครัวเรือน หมายถึง หน่วยของบุคคลหรือครอบครัวที่มักจะมีแหล่งรายได้จากการทำงาน จึงสอดคล้องกับอาชีพของดาริกาที่เป็นพนักงานบริษัท
37. **ตอบ ข้อ 2., 3., D.** เพราะภูมิภาคหมายเลข 1 คือภาคกลางของประเทศไทย ในภูมิภาคนี้จะมีทิวเขาเพชรบูรณ์อยู่ทางด้านตะวันออกของภูมิภาค ส่วนแม่น้ำที่ไหลผ่านภาคกลาง คือ แม่น้ำท่าจีน
38. **ตอบ ข้อ 1., 2., A.** เพราะภูมิภาคหมายเลข 2 คือภาคเหนือของประเทศไทย ในภูมิภาคนี้จะมีทิวเขาหลวงพระบาง ส่วนแม่น้ำที่ไหลผ่านภาคเหนือ คือ แม่น้ำยม
39. **ตอบ ข้อ 6., 5., E.** เพราะภูมิภาคที่มีพื้นที่ติดต่อกับประเทศมาเลเซีย คือ บริเวณภาคใต้ของประเทศไทย ทิวเขาที่เป็นแนวเส้นเขตแดนระหว่างไทยกับมาเลเซีย คือ ทิวเขาสันกาลาคีรี แม่น้ำที่เกี่ยวข้องกับทิวเขาแห่งนี้ คือ แม่น้ำโก-ลก ซึ่งเป็นแม่น้ำที่มีต้นกำเนิดจากทิวเขาสันกาลาคีรี
40. **ตอบ ข้อ 1., 3., A.** เพราะทุ่งกุลาร้องไห้เป็นที่ราบขนาดใหญ่ มีพื้นที่ประมาณ 2 ล้านไร่ อยู่ในเขตจังหวัดสุรินทร์ มหาสารคาม บุรีรัมย์ ศรีสะเกษ ยโสธร และร้อยเอ็ด ซึ่งจังหวัดเหล่านี้อยู่ในภาคตะวันออกเฉียงเหนือของประเทศไทยทั้งหมด การที่ได้ชื่อว่าทุ่งกุลาร้องไห้ มีเรื่องเล่าสืบต่อกันมาว่า ชนเผ่ากุลาซึ่งเป็นชนกลุ่มน้อยจากเมืองเมาะตะมะ ประเทศพม่า ได้เดินทางมาค้าขายผ่านทุ่งแห่งนี้ ต้องใช้เวลาเดินทางหลายวัน ไม่พบหมู่บ้านใดๆ เลย น้ำก็ไม่มีดื่ม ดินไม้ก็ไม่มีที่จะให้ร่มเงา มีแต่ทุ่งหญ้าเต็มไปหมด พื้นดินก็เป็นทราย การเดินทางยากลำบากเหมือนอยู่กลางทะเลทราย ทำให้คนพวกนี้ถึงกับร้องไห้ ดังนั้น จึงได้ชื่อว่า ทุ่งกุลาร้องไห้ ซึ่งลักษณะภูมิประเทศแบบที่กล่าวมานี้จึงมีโอกาสเกิดภัยแล้งมากที่สุด

1. *แนวตอบ* สิทธิประโยชน์ของผู้บริโภค
2. *แนวตอบ* การที่ผู้บริโภครู้จักพิทักษ์สิทธิของตน ส่งผลดีหลายประการ เช่น ไม่เสียเปรียบผู้ผลิต ไม่ตกเป็นเหยื่อของการโฆษณา ไม่หลงเป็นเหยื่อสินค้าที่ไม่ได้มาตรฐานหรือไม่ปลอดภัย เพื่อให้ใช้สินค้าและบริการต่างๆ ได้อย่างปลอดภัย เป็นต้น
3. *แนวตอบ* เห็นด้วย เพราะในอดีตผู้บริโภคจะไม่เห็นถึงความสำคัญในสิทธิของตนเองตามพระราชบัญญัติคุ้มครองผู้บริโภค เมื่อเกิดปัญหาเกี่ยวกับการละเมิดสิทธิของผู้บริโภค ตัวผู้บริโภคเองก็จะปล่อยผ่านไป โดยไม่ทำการฟ้องร้องต่อผู้ผลิต ทำให้ปัญหาการละเมิดสิทธิผู้บริโภคมีมาอย่างต่อเนื่อง ดังนั้นผู้บริโภคจึงควรสร้างทัศนคติใหม่ทางสังคมให้เห็นคุณค่าของสิทธิที่ตนมีอยู่ให้ตระหนักรู้ว่าทุกคนคือผู้บริโภคที่รู้จักพิทักษ์สิทธิของตนเอง ไม่เอาเปรียบผู้อื่น และร่วมกันพิทักษ์สิทธิของผู้อื่นในการซื้อสินค้าหรือบริการ เพื่อให้เกิดความปลอดภัยในการเลือกซื้อและเลือกใช้สินค้าและบริการ
4. *แนวตอบ* ผู้บริโภคที่ดีควรรู้จักพิทักษ์สิทธิของตนเอง ไม่เอาเปรียบผู้อื่น และร่วมกันพิทักษ์สิทธิของผู้อื่นในการซื้อสินค้าหรือบริการ เช่น ศึกษาข้อมูลของสินค้านก่อนซื้อ เลือกซื้อสินค้าและบริการตามความจำเป็น คุณภาพ และประโยชน์ เป็นต้น
5. *แนวตอบ* ควรเลือกซื้อจากร้านค้าที่มีลักษณะที่ดี เช่น ดูน่าเชื่อถือ ร้านมีความสะอาด มีป้ายราคาบอกไว้ชัดเจน เป็นต้น