


วิเคราะห์ข้อสอบ O-NET ปีการศึกษา 2555  
กลุ่มสาระการเรียนรู้อาชีพและเทคโนโลยี  
ชั้นประถมศึกษาปีที่ 6



กลุ่มงานวัดและประเมินผลการศึกษา  
กลุ่มนิเทศ ติดตามและประเมินผลการศึกษา  
สำนักงานเขตพื้นที่การศึกษาประถมศึกษาขอนแก่น เขต 3

วิเคราะห์ข้อสอบ O-NET ปีการศึกษา 2555 : กลุ่มสาระการงานอาชีพและเทคโนโลยี ชั้นประถมศึกษาปีที่ 6

**ข้อสอบ**

1. ข้อใดเป็นวิธีการเปิดเอกสาร ( ไฟล์ ) ในคอมพิวเตอร์
  1. ใช้เมาส์เลื่อนลูกศรให้ไปชี้ที่เอกสาร แล้วกดปุ่มซ้ายของเมาส์หนึ่งครั้ง
  2. ใช้เมาส์เลื่อนลูกศรให้ไปชี้ที่เอกสาร แล้วกดปุ่มขวาของเมาส์หนึ่งครั้ง
  3. ใช้เมาส์เลื่อนลูกศรให้ไปชี้ที่เอกสาร แล้วกดปุ่มซ้ายของเมาส์สองครั้งติดกัน
  4. ใช้เมาส์เลื่อนลูกศรให้ไปชี้ที่เอกสาร แล้วกดปุ่มซ้ายของเมาส์ค้างไว้

**เฉลย**

ตอบข้อ 3

**ลักษณะเฉพาะของข้อสอบ**

มาตรฐาน : มฐ.3.1

สาระ : 3. เทคโนโลยีสารสนเทศและการสื่อสาร

ตัวชี้วัด : 6/2

รูปแบบข้อสอบ : ปรนัย 4 ตัวเลือก

**ระดับ ร้อยละนักเรียนตอบถูก**

ประเทศ 53.74

สพฐ. 52.20

สพป.ขก.3 50.55

**ข้อสอบ**

2. ข้อใดไม่ถูกต้องเมื่อนำข้อมูลจากอินเทอร์เน็ตมาจัดทำรายงาน
  1. อ้างอิงแหล่งที่มาของข้อมูลเพื่อให้ผู้อ่านสามารถค้นคว้าเพิ่มเติมได้
  2. คัดลอกข้อความจากแหล่งข้อมูลต่างๆ มาใส่รายงานอย่างครบถ้วน
  3. ขออนุญาตเจ้าของรูปภาพบนอินเทอร์เน็ตก่อนจะนำรูปนั้นมาใส่รายงาน
  4. พิจารณาแหล่งข้อมูลว่ามีความน่าเชื่อถือมากน้อยเพียงใด

**เฉลย**

ตอบข้อ 2

**ลักษณะเฉพาะของข้อสอบ**

มาตรฐาน : มฐ.3.1

สาระ : 3. เทคโนโลยีสารสนเทศและการสื่อสาร

ตัวชี้วัด : 6/5

รูปแบบข้อสอบ : ปรนัย 4 ตัวเลือก

**ระดับ ร้อยละนักเรียนตอบถูก**

ประเทศ 32.36

สพฐ. 29.85

สพป.ขก.3 24.76

**ข้อสอบ**

3. ในซอฟต์แวร์ตารางทำงาน เช่น Excel ถ้าเราเขียนสูตรคำนวณเป็น  $= 20+5*10-5$  จะได้ผลลัพธ์เป็นเท่าไร

- |        |        |
|--------|--------|
| 1. 65  | 2. 245 |
| 3. 125 | 4. 45  |

**เฉลย**

ตอบข้อ 1

**ลักษณะเฉพาะของข้อสอบ**

มาตรฐาน : มฐ.3.1

สาระ : 3. เทคโนโลยีสารสนเทศและการสื่อสาร

ตัวชี้วัด : 4/2,6/1

รูปแบบข้อสอบ : ปรนัย 4 ตัวเลือก

**ระดับ ร้อยละนักเรียนตอบถูก**

ประเทศ	42.37
สพฐ.	18.41
สปป.ชก.3	19.53

**ข้อสอบ**

4. ข้อใดไม่ใช่อุปกรณ์นำเข้า

- |               |                 |
|---------------|-----------------|
| 1. แป้นพิมพ์  | 2. หน้าจอสัมผัส |
| 3. ฮาร์ดดิสก์ | 3. เมาส์        |

**เฉลย**

ตอบข้อ 2

**ลักษณะเฉพาะของข้อสอบ**

มาตรฐาน : มฐ.3.1

สาระ : 3. เทคโนโลยีสารสนเทศและการสื่อสาร

ตัวชี้วัด : 4/1


รูปแบบข้อสอบ : ปรนัย 4 ตัวเลือก

**ระดับ ร้อยละนักเรียนตอบถูก**

ประเทศ	37.14
สพฐ.	38.21
สปป.ชก.3	43.11

**ข้อสอบ**

5. ถ้านักเรียนต้องการวาดเส้นสีในโปรแกรมวาดภาพ ต้องเลือกเครื่องมือใด



**เฉลย**

ตอบข้อ 3

**ลักษณะเฉพาะของข้อสอบ**

มาตรฐาน : มฐ.3.1

สาระ : 3. เทคโนโลยีสารสนเทศและการสื่อสาร

ตัวชี้วัด : 4/5

รูปแบบข้อสอบ : ปรนัย 4 ตัวเลือก

**ระดับ ร้อยละนักเรียนตอบถูก**

ประเทศ 55.51

สพฐ. 53.97

สพป.ขก.3 51.29

**ข้อสอบ**

6. ถ้าหลังคารั่วจะใช้เครื่องมือ – อุปกรณ์ใดในการซ่อมแซมหลังคาบ้านที่รั่ว

1. ประแจเลื่อน

2. เลื่อยมือ

3. ชิลิโคน

4. แปรง

**เฉลย**

ตอบข้อ 3 เพราะชิลิโคนเป็นกาวที่ใช้อุดรูรั่ว

**ลักษณะเฉพาะของข้อสอบ**

มาตรฐาน : มฐ. 1.1

สาระ : 1. การดำรงชีวิตและครอบครัว

ตัวชี้วัด : 5/1,6/1

รูปแบบข้อสอบ : ปรนัย 4 ตัวเลือก

**ระดับ ร้อยละนักเรียนตอบถูก**

ประเทศ 62.95

สพฐ. 61.28

สพป.ขก.3 55.95

**ข้อสอบ**

7. เครื่องใช้ไฟฟ้าข้อใดให้ความร้อนมากที่สุด

1. เครื่องเป่าผม
2. เครื่องซักผ้า
3. เครื่องปิ้งขนมปัง
4. เต้าไมโครเวฟ

**เฉลย**

ตอบข้อ 4 เต้าไมโครเวฟ เป่าเครื่องใช้ไฟฟ้าที่ทำให้อาหารสุกต้องใช้พลังงานความร้อนสูง

**ลักษณะเฉพาะของข้อสอบ**

มาตรฐาน : มฐ. 1.1

สาระ : 1. การดำรงชีวิตและครอบครัว

ตัวชี้วัด : 4/4

รูปแบบข้อสอบ : ปรนัย

**ระดับ ร้อยละนักเรียนตอบถูก**

ประเทศ	66.41
สพฐ.	63.30
สพป.ขก.3	58.42

**ข้อสอบ**

8. การใช้เครื่องมือใดผิดประเภท

1. ใช้ค้อนตอกตะปู
2. ใช้ไขควงไขสกรู
3. ใช้เลื่อยฉลุตัดเหล็ก
4. ใช้คีมจับชิ้นงาน

**เฉลย**

ตอบข้อ 3 ใช้เลื่อยฉลุ ต้องใช้กับงานไม้

**ลักษณะเฉพาะของข้อสอบ**

มาตรฐาน : มฐ. 1.1

สาระ : 1. การดำรงชีวิตและครอบครัว

ตัวชี้วัด : 5/2,6/2

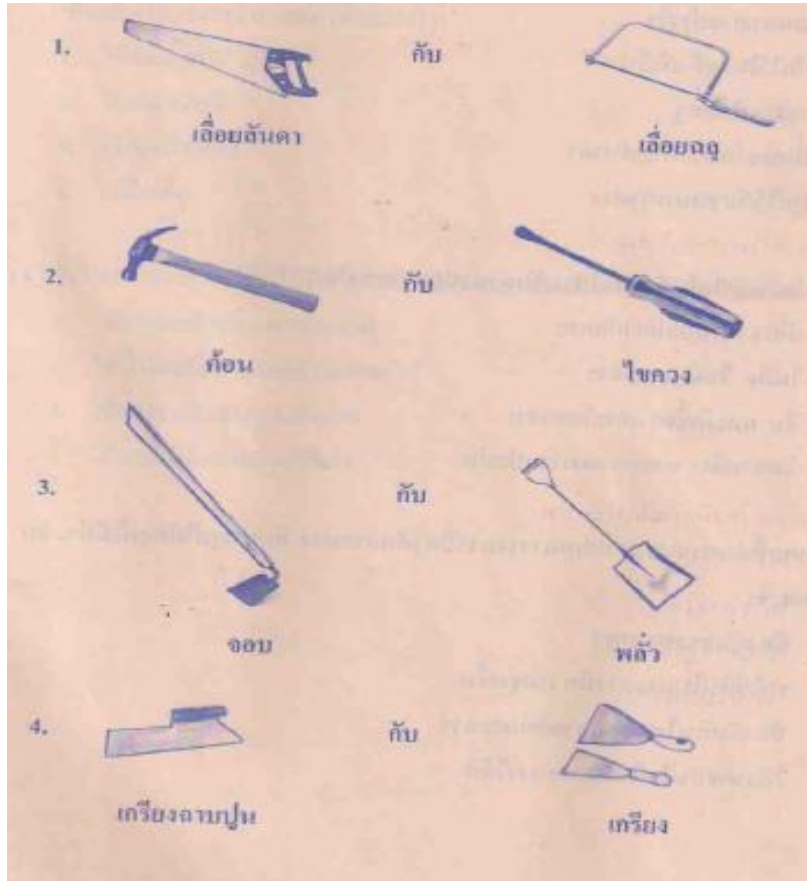
รูปแบบข้อสอบ : ปรนัย 4 ตัวเลือก

**ระดับ ร้อยละนักเรียนตอบถูก**

ประเทศ	25.64
สพฐ.	23.60
สพป.ขก.3	24.51

**ข้อสอบ**

9. เครื่องมือช่างคูใดใช้งานต่างประเภทกัน



**เฉลย**

ตอบข้อ 2 ค้อนใช้สำหรับตอกตะปู แต่ไขควงใช้สำหรับขันสกรูและน็อต

**ลักษณะเฉพาะของข้อสอบ**

มาตรฐาน : มฐ. 1.1

สาระ : 1. การดำรงชีวิตและครอบครัว

ตัวชี้วัด : 5/2,6/2

รูปแบบข้อสอบ : ปรนัย 4 ตัวเลือก

**ระดับ ร้อยละนักเรียนตอบถูก**

ประเทศ 73.36

สพฐ. 71.96

สพป.ชก.3 67.25

**ข้อสอบ**

10. ครูสมศรีให้นักเรียนนำพื้ต่างไปประดับให้เกิดความสวยงามในชั้นเรียน นักเรียนจะอย่างไร
1. ปักไว้ในแจกันที่มีน้ำ
  2. วางบนโต๊ะครู
  3. ตัดเบอร์ข้างกระดานดำ
  4. ผูกไว้กับขอบหน้าต่าง

**เฉลย**

ตอบข้อ 1 เพราะพื้ต่างใช้ปลูกในน้ำ ข้อ 2,3,4 ไม่สามารถเจริญเติบโตได้

**ลักษณะเฉพาะของข้อสอบ**

มาตรฐาน : มฐ. 1.1

สาระ : 1. การดำรงชีวิตและครอบครัว

ตัวชี้วัด : 5/2,6/1

รูปแบบข้อสอบ : ปรนัย 4 ตัวเลือก

**ระดับ ร้อยละนักเรียนตอบถูก**

ประเทศ	51.28
สพฐ.	49.62
สพป.ชก.3	44.15

**ข้อสอบ**

11. ลักษณะของเมล็ดพันธุ์ที่ดีสำหรับนำมาปลูก คือ ข้อใด
1. เหี่ยว มีรอยแมลงกัดแทะ
  2. ไม่ฝ่อ ไม่มีแมลงเจาะ
  3. ลีบ และมีเชื้อราเกาะโดยรอบ
  4. มีคราบดิน และกรวดทรายเป็นปน

**เฉลย**

ตอบข้อ 2 เพราะเมล็ดพันธุ์ไม่ฝ่อ ไม่มีแมลงเจาะมีโอกาสที่จะเจริญเติบโตได้สูงกว่า

**ลักษณะเฉพาะของข้อสอบ**

มาตรฐาน : มฐ. 1.1

สาระ : 1. การดำรงชีวิตและครอบครัว

ตัวชี้วัด : 5/2

รูปแบบข้อสอบ : ปรนัย 4 ตัวเลือก

**ระดับ ร้อยละนักเรียนตอบถูก**

ประเทศ	57.85
สพฐ.	55.43
สพป.ชก.3	51.59

**ข้อสอบ**

12. เหตุผลที่นำเศษกระถางแตกมาวางคว่ำปิดรูก้นกระถาง ก่อนปลูกไม้ดอกไม้ประดับเพื่ออะไร

1. ป้องกันกระถางแตก
2. ทำให้ดินในกระถางมีความชุ่มชื้น
3. ป้องกันดินไหลออกจากก้นกระถาง
4. ให้อากาศถ่ายเทในกระถางได้ดี

**เฉลย**

ตอบข้อ 3 เพราะป้องกันดินไหลออกจากกระถางและให้น้ำซึมออกได้ รากไม่เน่า

**ลักษณะเฉพาะของข้อสอบ**

มาตรฐาน : มฐ. 1.1

สาระ : 1. การดำรงชีวิตและครอบครัว

ตัวชี้วัด : 6/2

รูปแบบข้อสอบ : ปรนัย 4 ตัวเลือก

**ระดับ ร้อยละนักเรียนตอบถูก**

ประเทศ 42.95

สพฐ. 40.81

สพป.ชก.3 38.63

**ข้อสอบ**

13. แม่ให้เด็กชายออมสินไปเก็บใบโหระพาที่แปลงผักสวนครัวหลังบ้าน เพื่อนำมาทำเป็นอาหาร ออมสินจะต้องทำอย่างไร

1. ใช้น้ำจอบขุด
2. ใช้น้ำเค็มเกลือ
3. ใช้น้ำจืดล้าง
4. ใช้น้ำร้อนต้ม

**เฉลย**

ตอบข้อ 4 ใช้น้ำร้อนต้ม เพราะเป็นวิธีการที่เหมาะสมที่สุด

**ลักษณะเฉพาะของข้อสอบ**

มาตรฐาน : มฐ. 1.1

สาระ : 1. การดำรงชีวิตและครอบครัว

ตัวชี้วัด : 6/2

รูปแบบข้อสอบ : ปรนัย 4 ตัวเลือก

**ระดับ ร้อยละนักเรียนตอบถูก**

ประเทศ 75.99

สพฐ. 76.86

สพป.ชก.3 70.77



**ข้อสอบ**

14. ข้อใดเป็นการรดน้ำต้นไม้ที่ช่วยประหยัดน้ำและเป็นอันตรายต่อต้นไม้ให้น้อยที่สุด

1. ใช้น้ำที่เหลือจากการล้างจาน
2. ใช้น้ำที่เหลือจากการล้างผักผลไม้
3. ใช้น้ำที่เหลือจากการล้างรถ
4. ใช้น้ำที่เหลือจากการซักผ้า

**เฉลย**

ตอบข้อ 2 เพราะน้ำที่เหลือจากการล้างผักผลไม้ เป็นน้ำที่มสารปนเปื้อนน้อยที่สุด

**ลักษณะเฉพาะของข้อสอบ**

มาตรฐาน : มฐ. 1.1

สาระ : 1. การดำรงชีวิตและครอบครัว

ตัวชี้วัด : 4/4,5/4

รูปแบบข้อสอบ : ปรนัย 4 ตัวเลือก

**ระดับ ร้อยละนักเรียนตอบถูก**

ประเทศ 68.06

สพฐ. 66.40

สพป.ชก.3 58.69

**ข้อสอบ**

ข้อมูลนี้ใช้ตอบคำถาม ข้อ 15

อาชีพ	ความถนัดเฉพาะตัวและความสนใจ
ก.นักวรรณกรรม	A. มีความใฝ่รู้ เรียนรู้สิ่งใหม่ๆตลอดเวลา
ข. นักบัญชี	B. มีความสามารถด้านการเป็นผู้นำ มีทักษะการพูดที่ดี
ค. นักจัดการรายการวิทยุ	C. ชอบสถานที่ทำงานที่อยู่กลางแจ้ง
ง. เกษตรกร	D. ความคิดริเริ่มสร้างสรรค์ รักอิสระ
จ. นักการศึกษา (ครู )	E. มีความถนัดในด้านงานสารบรรณ การคำนวณกำไร

15. ข้อใดจับคู่ได้ถูกต้อง ระหว่างอาชีพกับความถนัด

1. ก → D , ข → E , ค → B , ง → C , จ → A
2. ก → D , ข → E , ค → A , ง → C , จ → B
3. ก → A , ข → D , ค → C , ง → A , จ → B
4. ก → B , ข → A , ค → C , ง → D , จ → E

**เฉลย**

ตอบข้อ 1 เพราะเป็นการอธิบายความหมายและความสำคัญข้อมูลที่เกี่ยวข้องกับอาชีพได้ถูกต้อง

<p><b>ลักษณะเฉพาะของข้อสอบ</b></p> <p>มาตรฐาน : มฐ. 4.1</p> <p>สาระ : 4. การอาชีพ</p> <p>ตัวชี้วัด : 5/1,6/1</p> <p>รูปแบบข้อสอบ : ปรนัย 4 ตัวเลือก</p>	<table border="1"> <thead> <tr> <th>ระดับ</th> <th>ร้อยละนักเรียนตอบถูก</th> </tr> </thead> <tbody> <tr> <td>ประเทศ</td> <td>52.88</td> </tr> <tr> <td>สพฐ.</td> <td>46.18</td> </tr> <tr> <td>สพป.ชก.3</td> <td>42.18</td> </tr> </tbody> </table>	ระดับ	ร้อยละนักเรียนตอบถูก	ประเทศ	52.88	สพฐ.	46.18	สพป.ชก.3	42.18
ระดับ	ร้อยละนักเรียนตอบถูก								
ประเทศ	52.88								
สพฐ.	46.18								
สพป.ชก.3	42.18								

**ข้อสอบ**

16. ในเรื่องการจัดเก็บเอกสารใครประพฤติตนเหมาะสม
1. บุญล้น พกบัตรประจำตัวประชาชนติดตัวอยู่เสมอ
  2. บุญมี พกสูติบัตรติดตัวตลอดเวลา
  3. บุญมา พกสำเนาทะเบียนบ้านติดตัวตลอดเวลา
  4. บุญโชติ เก็บสมุดเงินฝากไว้บนโต๊ะทำงาน

**เฉลย**

ตอบข้อ 1 เพราะบัตรประจำตัวประชาชนเป็นเอกสารสำคัญที่ต้องพกติดตัวตลอดเวลา

**ลักษณะเฉพาะของข้อสอบ**

มาตรฐาน : มฐ. 1.1

สาระ : 1. การดำรงชีวิตและครอบครัว

ตัวชี้วัด : 4/2

รูปแบบข้อสอบ : ปรนัย 4 ตัวเลือก

**ระดับ ร้อยละนักเรียนตอบถูก**

ประเทศ 71.33

สพฐ. 68.11

สพป.ชก.3 56.84

**ข้อสอบ**

17. ข้อใด ไม่ถูกต้องในเรื่องการใช้บัตรกำนัล และคู่มือส่วนลด
1. ใช้แทนเงิน
  2. ทำให้ซื้อของง่ายขึ้น
  3. ไม่จำกัดระยะเวลาในการใช้
  4. ซื้อของในราคาที่ถูกกว่าปกติ

**เฉลย**

ตอบข้อ 3 เพราะบัตรกำนัล และคู่มือเป็นบัตรที่จำกัดเวลาในการใช้

**ลักษณะเฉพาะของข้อสอบ**

มาตรฐาน : มฐ. 1.1

สาระ : 1. การดำรงชีวิตและครอบครัว

ตัวชี้วัด : 6/2

รูปแบบข้อสอบ : ปรนัย 4 ตัวเลือก

**ระดับ ร้อยละนักเรียนตอบถูก**

ประเทศ 46.41

สพฐ. 43.41

สพป.ชก.3 38.62

**ข้อสอบ**

18. ข้อใดไม่ถูกต้อง

1. ชูชีพ มีนิสัยชอบทดลอง เขาจึงเลือกอาชีพเป็นนักวิทยาศาสตร์
2. ชูชัย ชอบอ่านหนังสือ นำความรู้มาเล่าให้เพื่อนๆ ฟังและรักเด็กเขาจึงเลือกอาชีพครู
3. ชูเชิด ชอบวาดรูประบายสี เขาจึงเลือกอาชีพนักประวัติศาสตร์
4. ชูจิต มีนิสัยอ่อนโยน ซื่อสัตย์ ชอบตัวเลข เขาจึงตัดสินใจเลือกอาชีพบัญชี

**เฉลย**

ตอบข้อ 3 เพราะลักษณะนิสัย ความถนัดมีสัมพันธ์กับอาชีพ

**ลักษณะเฉพาะของข้อสอบ**

มาตรฐาน : มฐ. 4.1

สาระ : 4. การงานอาชีพ

ตัวชี้วัด : 6/1 ,6/2

รูปแบบข้อสอบ : ปรนัย 4 ตัวเลือก

**ระดับ ร้อยละนักเรียนตอบถูก**

ประเทศ 71.64

สพฐ. 68.39

สพป.ชก.3 59.89

**ข้อสอบ**

ข้อมูลนี้ใช้ตอบคำถาม ข้อ 19

- |                      |                |
|----------------------|----------------|
| ก. รับประทานอาหาร    | ง. เข้าห้องน้ำ |
| ข. พับเก็บเครื่องนอน | จ. ออกกำลังกาย |
| ค. ทำการบ้าน         | ฉ. ซักผ้า      |

19. สิ่งที่ต้องทำหลังจากตื่นนอนตอนเช้า คือข้อใด

1. ข - ง - ก
2. ง - จ - ก
3. ฉ - ก - จ
4. ค - ก - ง

**เฉลย**

ตอบข้อ 1 เพราะถูกต้องตามลำดับขั้นตอน การใช้ทักษะชีวิต ในชีวิตประจำวัน

**ลักษณะเฉพาะของข้อสอบ**

มาตรฐาน : มฐ. 1.1

สาระ : 1. การดำรงชีวิตและครอบครัว

ตัวชี้วัด : 4/2 ,5/2,6/2

รูปแบบข้อสอบ : ปรนัย 4 ตัวเลือก

**ระดับ ร้อยละนักเรียนตอบถูก**

ประเทศ	72.31
สพฐ.	69.97
สพป.ชก.3	63.13

**ข้อสอบ**

20. การใช้ห้องสุขา ที่ทำให้เกิดจิตสำนึกรักษาสิ่งแวดล้อม คือข้อใด

1. มีมารยาทในการใช้ห้องน้ำร่วมกัน
2. ใช้น้ำ และไฟฟ้าอย่างประหยัด
3. รักษาความสะอาดราดน้ำทุกครั้งหลังใช้งาน
4. นำหนังสือไปอ่านในห้องสุขา

**เฉลย**

ตอบข้อ 2

**ลักษณะเฉพาะของข้อสอบ**

มาตรฐาน : มฐ. 1.1

สาระ : 1. การดำรงชีวิตและครอบครัว

ตัวชี้วัด : 5/4

รูปแบบข้อสอบ : ปรนัย 4 ตัวเลือก

**ระดับ ร้อยละนักเรียนตอบถูก**

ประเทศ 54.90

สพฐ. 54.44

สพป.ขก.3 52.34

**ข้อสอบ**

21. งานประดิษฐ์ของใช้ตกแต่งบ้านข้อใดทำให้เกิดมลภาวะมากที่สุด

1. เด็กชายสมบัติร้อยเปลือกหอยเป็นม่านหน้าต่าง
2. เด็กหญิงสุดาปักผ้าปูดโตะเป็นรูปช้างสามเศียร
3. เด็กชายสมเกียรติร้อยปลาตะเพียนพลาสติกทาสีเป็นพวงแขวนเพดาน
4. เด็กหญิงสุตินำเปลือกข้าวโพดมาทำดอกไม้ปักแจกัน

**เฉลย**

ตอบข้อ 3 การใช้วัสดุอุปกรณ์ ควรเลือกใช้วัสดุตามธรรมชาติ ป้องกันการเกิดมลพิษ รักษาสิ่งแวดล้อม

**ลักษณะเฉพาะของข้อสอบ**

มาตรฐาน : มฐ. 1.1,2.1

สาระ : 1. ,2

ตัวชี้วัด : 4/2,5/2,6/2

รูปแบบข้อสอบ : ปรนัย 4 ตัวเลือก

**ระดับ ร้อยละนักเรียนตอบถูก**

ประเทศ 49.30

สพฐ. 48.12

สพป.ขก.3 45.92

**ข้อสอบ**

22. ข้อใดทำให้บ้านของเราน่าอยู่
1. รักษาความสะอาดทั้งอาคารและบริเวณ
  2. มีอาหารแพงรับประทานทุกวัน
  3. มีห้องใต้ดิน
  4. มีห้องฟังเพลง

**เฉลย**

ตอบข้อ 1 เพราะบ้านสะอาดจะทำให้ผู้อยู่อาศัยมีสุขภาพและสุขภาพจิตดี

**ลักษณะเฉพาะของข้อสอบ**

มาตรฐาน : มฐ. 1.1

สาระ : 1. การดำรงชีวิตและครอบครัว

ตัวชี้วัด : 4/1,5/1

รูปแบบข้อสอบ : ปรนัย 4 ตัวเลือก

**ระดับ ร้อยละนักเรียนตอบถูก**

ประเทศ 83.84

สพฐ. 82.26

สพป.ชก.3 75.84

**ข้อสอบ**

23. ในวันไหว้ครูนักเรียนต้องทำงานประดิษฐ์ใด โดยเลือกตอบในหมวดชิ้นงานประดิษฐ์หมวดดอกไม้ และหมวดเครื่องมืออุปกรณ์

รหัส	1)หมวดชิ้นงานประดิษฐ์	รหัส	2) หมวดดอกไม้	รหัส	3) หมวดเครื่องมืออุปกรณ์
1	กระทง	1	ดอกชบา	1	เข็มสอย กรรไกร ด้าย
2	พานพุ่ม	2	ดอกรั้ว	2	เข็มเกล็ด กรรไกร
3	พวงมาลา	3	ดอกพุทธรักษา	3	เข็มหมุด กรรไกร
4	กรวย	4	ดอกยี่โถ	4	เข็มมาลัย กรรไกร ด้าย

**เฉลย**

ตอบข้อ 2,2,3 เพราะเป็นการเลือกวัสดุ อุปกรณ์ และกระบวนการ สอดคล้องและเหมาะสมกับงาน

**ลักษณะเฉพาะของข้อสอบ**

มาตรฐาน : มฐ. 1.1

สาระ : 1. การดำรงชีวิตและครอบครัว

ตัวชี้วัด : 5/2 , 6/2

รูปแบบข้อสอบ : กลุ่มสัมพันธ์

**ระดับ ร้อยละนักเรียนตอบถูก**

ประเทศ	13.85
สพฐ.	13.44
สพป.ขก.3	10.98