



แบบทดสอบชั้นประถมศึกษาปีที่ 2  
กลุ่มสาระการเรียนรู้คณิตศาสตร์  
ปีการศึกษา 2562

สำนักทดสอบทางการศึกษา  
สำนักงานคณะกรรมการการศึกษาขั้นพื้นฐาน

แบบทดสอบนี้เป็นเอกสารสงวนลิขสิทธิ์ของสำนักทดสอบทางการศึกษาสำนักงาน  
คณะกรรมการการศึกษาขั้นพื้นฐาน ถ้าคัดลอก ดัดแปลง เฉลย  
เพื่อจำหน่าย หรือนำไปเผยแพร่โดยไม่ได้รับอนุญาต จะถูกดำเนินคดีตามกฎหมาย

**คำชี้แจงแบบทดสอบ**  
**คณิตศาสตร์ ชั้นประถมศึกษาปีที่ 2**

แบบทดสอบฉบับนี้มี 25 ข้อ คะแนนเต็ม 50 คะแนน ใช้เวลา 60 นาที แบ่งออกเป็น 2 ตอน ดังนี้  
**ตอนที่ 1** แบบเลือกตอบให้นักเรียนเลือกคำตอบที่ถูกต้องเพียงคำตอบเดียว

จำนวน 20 ข้อ (ข้อ 1 – 20) ให้คะแนนข้อละ 2 คะแนน รวม 40 คะแนน

**ตัวอย่าง ข้อ 0.** ค่าของ  $6 + 2$  คือข้อใด

- 1) 7
- 2) 8
- 3) 9

**วิธีตอบ** ให้นักเรียนเลือกคำตอบที่ถูกต้องเพียงคำตอบเดียวโดยระบายทำหมายเลขที่ตรงกับตัวเลือกที่ต้องการลงในกระดาษคำตอบ ถ้านักเรียนคิดว่าตัวเลือกที่ 2 ถูกต้อง ให้ระบายดังนี้

ข้อ 0	①	●	③
-------	---	---	---

**ตอนที่ 2** แบบเติมคำตอบ ให้นักเรียนหาคำตอบที่ถูกต้องแล้วเขียนตอบลงในกระดาษคำตอบ  
จำนวน 5 ข้อ (ข้อ 21 – 25) ให้คะแนนข้อละ 2 คะแนน รวม 10 คะแนน

**ตัวอย่าง ข้อ 00.** หกสิบ เขียนเป็นตัวเลขไทยได้อย่างไร

**วิธีตอบ** ให้นักเรียนเขียนคำตอบลงในกระดาษคำตอบดังนี้

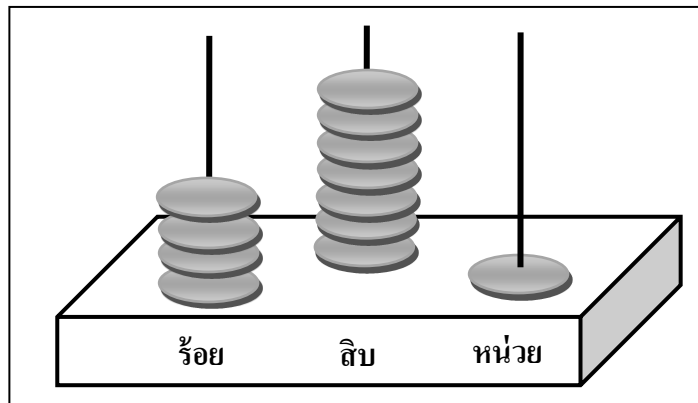
ข้อ 00. ตอบ.....๖๐.....

<b>ห้ามเปิดข้อสอบจนกว่ากรรมการกำกับการสอบจะอนุญาต</b>
---

ตอนที่ 1 แบบเลือกตอบ ให้นักเรียนเลือกคำตอบที่ถูกต้องเพียงคำตอบเดียว

ข้อ 1 – 20 ข้อละ 2 คะแนน รวม 40 คะแนน

1.




จากภาพ เขียนเป็นตัวเลขฮินดูอารบิก ตัวเลขไทย และตัวหนังสือได้อย่างไร


- 1) 461 ๔๖๑ สี่ร้อยหกสิบเอ็ด
- 2) 471 ๔๗๑ สี่ร้อยเจ็ดสิบเอ็ด
- 3) 481 ๔๘๑ สี่ร้อยแปดสิบเอ็ด


2.

อิม และ อุ่น ติดป้ายแสดงจำนวนที่ตะกร้า ดังนี้



อิม




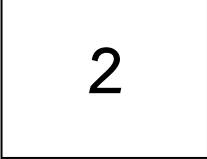






อุน

จากภาพ ต้องใส่เครื่องหมายใดใน  จึงถูกต้อง

- 1)
- 2)
- 3)

3.





	$>$	
	$\neq$	
	$<$	

จากบัตรภาพ  คือจำนวนใด

- 1) 2
- 2) 3
- 3) 4

4.

คุณครูให้นักเรียน 4 คน ถือป้ายแสดงจำนวน ดังนี้


			
จอย	เกม	โอม	แมน

จากภาพ เรียงลำดับจำนวนจาก น้อยไปมาก ใครจะยืนเป็นลำดับแรกและใครจะยืนเป็นลำดับสุดท้าย

- 1) จอย และเกม
- 2) เกม และแมน
- 3) โอม และแมน

5.

คุณครูติดป้ายเรียงลำดับจำนวนจาก **น้อยไปมาก** ดังภาพ

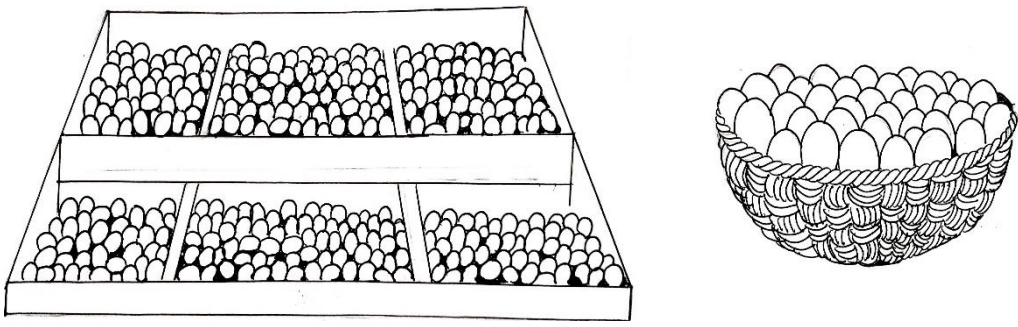


จากภาพ ควรเติมจำนวนใดลงใน  จึงเป็นการเรียงลำดับจาก **น้อยไปมาก** ได้ถูกต้อง

- 1) 778 , 998
- 2) 789 , 869
- 3) 998 , 778

6.

พ่อมีไข่ไก่จำนวนหนึ่ง ขายไป 425 ฟอง เหลืออีก 50 ฟอง




จากข้อมูล ข้อใดเขียนเป็นประโยคสัญลักษณ์และหาค่าตัวไม่ทราบค่าได้ถูกต้อง

- 1)  $425 - \square = 50$  คำตอบคือ 375
- 2)  $425 - 50 = \square$  คำตอบคือ 375
- 3)  $\square - 425 = 50$  คำตอบคือ 475

7.

ครั้งแรกแม่ทำขนมคุกกี้ 524 ชิ้น ทำเพิ่มอีกจำนวนหนึ่ง ได้คุกกี้ทั้งหมด 574 ชิ้น




จากข้อมูล ข้อใดเขียนเป็นประโยคสัญลักษณ์และหาค่าตัวไม่ทราบค่าได้ถูกต้อง

- 1)  $524 + \square = 574$  คำตอบคือ 50
- 2)  $574 + 524 = \square$  คำตอบคือ 50
- 3)  $\square + 524 = 574$  คำตอบคือ 60

8.

คุณครูเขียนประโยคสัญลักษณ์บนกระดาน และให้นักเรียนหาค่าของตัวไม่ทราบค่า






นักเรียนคนใดตอบได้ถูกต้อง

- 1) น้ำ
- 2) ใหม่
- 3) นิต

9.

นิว บอย และจอม ถือบัตรแสดงการหาร ดังภาพ


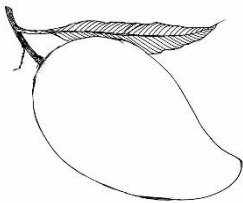
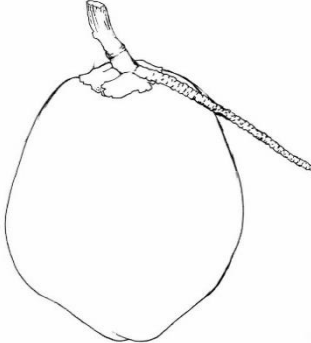
		
$64 \div 8 = ก$	$36 \div 9 = ข$	$18 \div 2 = ค$
นิว	บอย	จอม

จากภาพ ตัวไม่ทราบค่าใด มีค่ามากที่สุด

- 1) ก
- 2) ข
- 3) ค

10.

แม่ค้าขายผลไม้

		
ส้มโอ 5 ผล ราคาผลละ 30 บาท	มะม่วง 9 ผล ราคาผลละ 10 บาท	มะพร้าว 4 ผล ราคาผลละ 20 บาท

จากภาพ แม่ค้าขายผลไม้ทั้งหมด จะได้เงินกี่บาท


- 1) 320
- 2) 78
- 3) 60

11.

ของเล่น 3 ชนิด ตัดป้ายราคาไว้ตามภาพ



ราคา 12 บาท



ราคา มากกว่า ราคา  
รถ 14 บาท




ราคา น้อยกว่า ราคา  
เครื่องบิน 10 บาท

จากภาพ ตัดราคาเท่าไร


- 1) 12 บาท
- 2) 16 บาท
- 3) 36 บาท

12.

คุณย่าทำขนมใส่ถาด ดังภาพ



ขนมใส่หวาน 10 ชิ้น



ขนมใส่เค็ม 5 ชิ้น

คุณย่านำขนมรวมกันทั้ง 2 ถาด แล้วแบ่งให้หลาน 3 คน คนละเท่า ๆ กัน


จากภาพ หลานจะได้ขนมคนละกี่ชิ้น

- 1) 3
- 2) 5
- 3) 15




13.

ตัวเดินทางจากบ้านไปโรงเรียน ตามเวลาดังภาพ



เวลาที่เริ่มเดินทางออกจากบ้าน



เวลาที่เดินทางถึงโรงเรียน

จากภาพ ตัวใช้เวลาในการเดินทางกี่นาที

- 1) 15
- 2) 30
- 3) 45

14.

นักเรียน 3 คน วัดความสูงแล้วนำมาเปรียบเทียบกัน ดังนี้



แดง

สูง 140 เซนติเมตร



ส้ม

เตี้ยกว่าแดง  
15 เซนติเมตร



เชียว

สูงกว่าส้ม  
20 เซนติเมตร

จากข้อมูล ข้อใดถูกต้อง

- 1) แแดง เตี้ยกว่า เชียว
- 2) แแดง สูงกว่า เชียวและส้ม
- 3) แแดง กับ เชียว สูงเท่ากัน

15.



บอยมีเชือกยาว 6 เมตร 20 เซนติเมตร




บอยตัดเชือกให้เพื่อน 2 เมตร 10 เซนติเมตร

จากข้อมูล บอยเหลือเชือกยาวเท่าใด


- 1) 4 เมตร 10 เซนติเมตร
- 2) 4 เมตร 30 เซนติเมตร
- 3) 8 เมตร 30 เซนติเมตร

16.


น้ำหนักของผลไม้ ชนิดละ 1 ผล เป็นดังนี้



มะม่วงหนัก 3 ชีด



ส้มโอหนัก 6 ชีด




แตงโมหนัก 1 กิโลกรัม

จากข้อมูล ผลไม้ตามข้อใดจะมี น้ำหนักรวม มากที่สุด

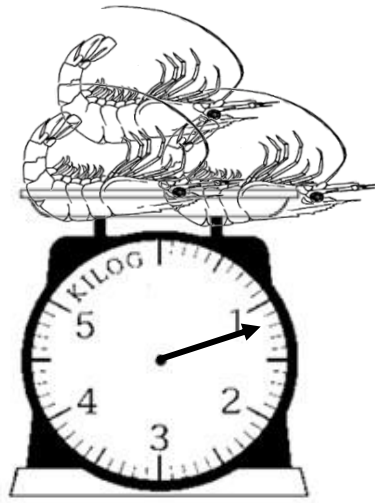
- 1) มะม่วง 3 ผล
- 2) แตงโม 1 ผล
- 3) ส้มโอ 2 ผล

17.

คุณแม่ไปซื้ออาหารที่ตลาด ดังนี้



ปลาหนัก 2 กิโลกรัม 5 ชีด





กุ่มหนัก 1 กิโลกรัม 2 ชีด


จากภาพ แม่ซื้อปลาและกุ่มหนักรวมกันเท่าใด

- 1) 1 กิโลกรัม 3 ชีด
- 2) 3 กิโลกรัม 3 ชีด
- 3) 3 กิโลกรัม 7 ชีด

18.

กะละมัง เท่ากับ 

ถังน้ำ เท่ากับ 

กำหนดให้  มีความจุ 2 ลิตร

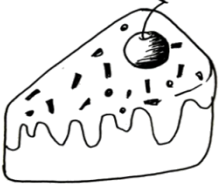
จากภาพ กะละมัง จุน้ำได้มากกว่า ถังน้ำ กี่ลิตร

- 1) 3
- 2) 6
- 3) 7

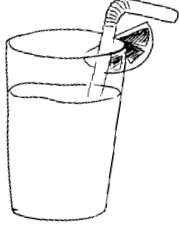


ตอนที่ 2 แบบเติมคำตอบ ให้นักเรียนหาคำตอบที่ถูกต้องแล้วเขียนตอบลงใน  
กระดาษคำตอบ จำนวน 5 ข้อ (ข้อ 21 – 25) ให้คะแนนข้อละ 2 คะแนน  
รวม 10 คะแนน

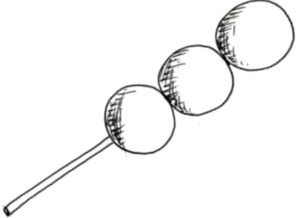
21.



เค้ก  
ราคา 30 บาท



น้ำผลไม้  
ราคา ถูกกว่า เค้ก 5 บาท




ลูกชิ้น  
ราคา ถูกกว่า น้ำผลไม้ 15 บาท


จากข้อมูล ถ้าซื้อของทั้งหมด ต้องจ่ายเงินกี่บาท

ตอบ.....

22. บอยใช้เวลาทำการบ้าน ดังภาพ



18:45  
เวลาเริ่ม



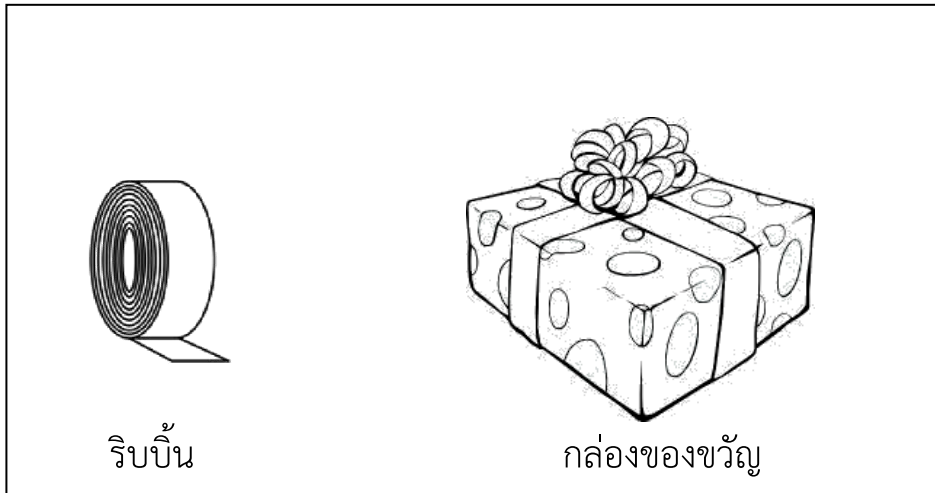
เวลาเสร็จ



จากข้อมูล บอยใช้เวลาทำการบ้านกี่นาที


ตอบ.....

23.



ริบบิ้นม้วนหนึ่งยาว 12 เมตร 50 เซนติเมตร นำไปผูกกล่องของขวัญ  
3 เมตร 15 เซนติเมตร เหลือริบบิ้นกี่เมตร กี่เซนติเมตร  
ตอบ .....เมตร.....เซนติเมตร

24.














จากภาพ ส้ม หนักมากกว่า มะม่วง เท่าใด

ตอบ.....

25.

จำนวนนักเรียนที่ชอบกินผลไม้ชนิดต่างๆ

ส้ม	
มังคุด	 
ทุเรียน	  
กล้วย	   

กำหนดให้  แทนจำนวนนักเรียน 5 คน

จำนวนนักเรียนที่ชอบกินส้ม น้อยกว่านักเรียนที่ชอบกินมังคุดอยู่กี่คน

ตอบ.....